

SULIT



**JABATAN PELAJARAN NEGERI
NEGERI SEMBILAN DARUL KHUSUS**

PRAPENILAIAN MENENGAH RENDAH 2012

23/1

GEOGRAFI

Kertas 1

Ogos 2012

1 jam 15 minit

Satu jam lima belas minit

JANGAN BUKA KERTAS SOALAN INI SEHINGGA DIBERITAHU

1. Kertas soalan ini mengandungi 60 soalan objektif.
2. Jawab **semua** soalan.
3. Tiap-tiap soalan diikuti empat cadangan jawapan yang berhuruf **A, B, C** dan **D**. Bagi tiap-tiap soalan pilih satu jawapan sahaja. Tandakan semua jawapan anda pada kertas objektif yang disediakan.
4. Fikir dengan teliti ketika memilih jawapan. Jika anda hendak menukar sesuatu jawapan, padamkan sehingga bersih tanda yang tidak dikehendaki itu dan **hitamkan** pilihan anda yang baru.

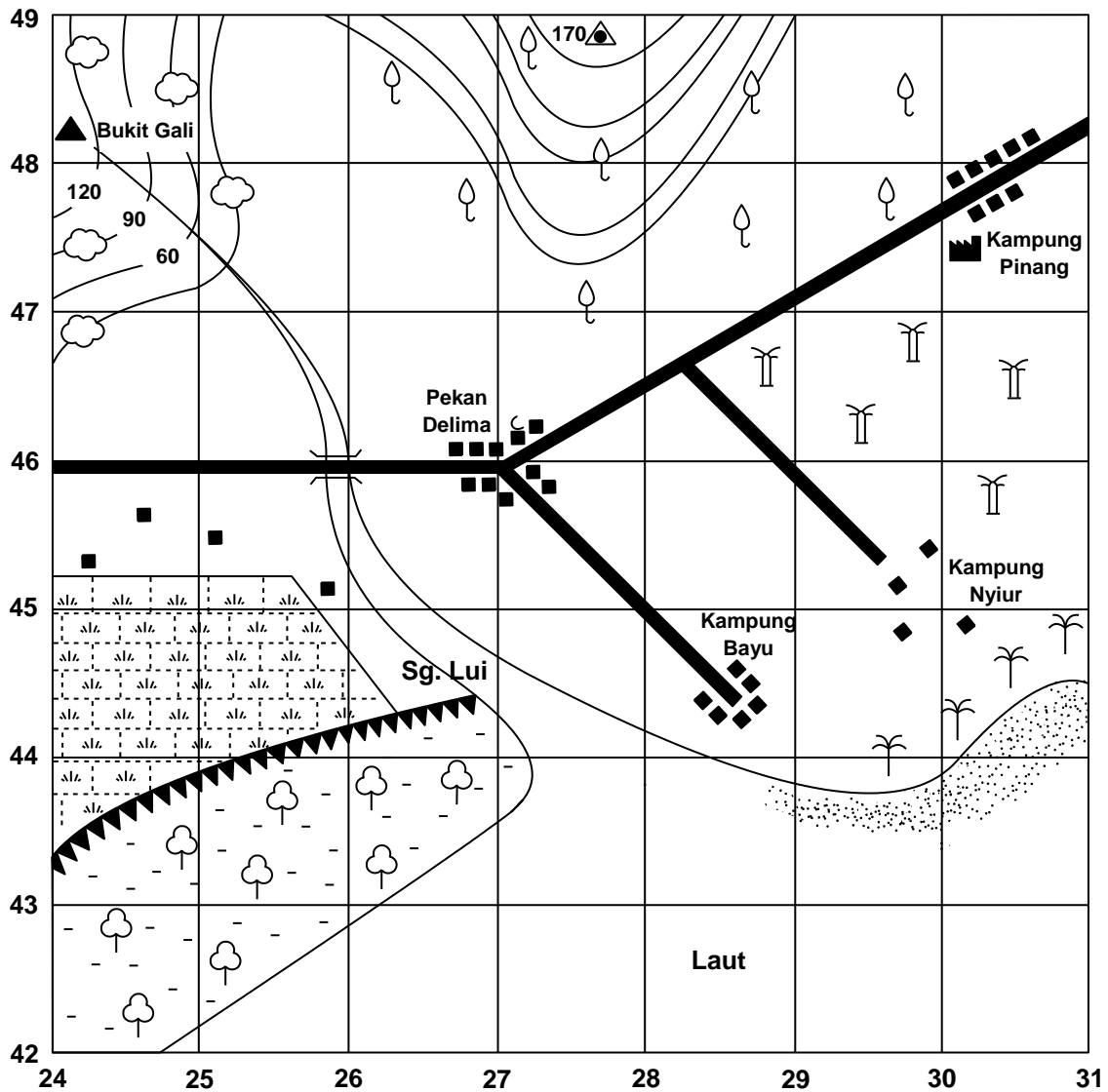
Kertas soalan ini mengandungi 21 halaman bercetak

23/1















[Lihat sebelah

SULIT

Soalan 1 hingga 7 berdasarkan peta topografi di bawah.



Petunjuk:

	Kontur		Getah		Hutan		Petempatan
	Pantai		Kelapa		Masjid		Stesen trigonometri
	Benteng		Padi		Kuil		
	Kelapa sawit		Paya masin		Kilang		

U
↑
+

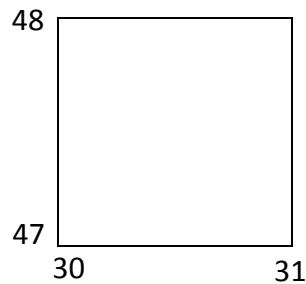
Skala : 1 cm mewakili 1 km

1. Apakah rujukan grid bagi stesen trigonometri dalam peta?
 - A. RG 2448
 - B. RG 2449
 - C. RG 2748
 - D. RG 2749

2. Bearing sukuan Bt. Gali (RG 241483) dari simpang Pekan Delima (RG 271460)?
 - A. U 55° B
 - B. U 55° T
 - C. S 55° B
 - D. S 55° T

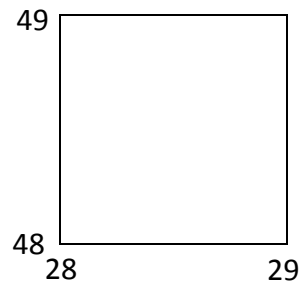
3. Apakah ciri fizikal yang terdapat di bahagian barat daya peta?
 - A. Hutan
 - B. Getah
 - C. Padi
 - D. Paya bakau

4. Apakah ciri budaya yang terdapat di segi empat grid berikut?




- A. Kuil
- B. Getah
- C. Kilang
- D. Kelapa

5. Berapakah selang kontur di dalam peta?
- A. 15 meter
B. 30 meter
C. 45 meter
D. 60 meter
6. Apakah cerun yang terdapat di segi empat grid berikut?




- A. Landai
B. Curam
C. Sekata
D. Bertangga
7. Di manakah bahagian paling tinggi dalam peta?
- A. Utara
B. Selatan
C. Barat Laut
D. Barat Daya



8. Apakah waktu tempatan di Bandar A jika waktu tempatan di Greenwich 12.00 tengah hari?
- A. 2.00 pagi
B. 2.00 petang
C. 10.00 pagi
D. 10.00 malam

9. Apakah pola sungai yang ditunjukkan seperti dalam rajah berikut?



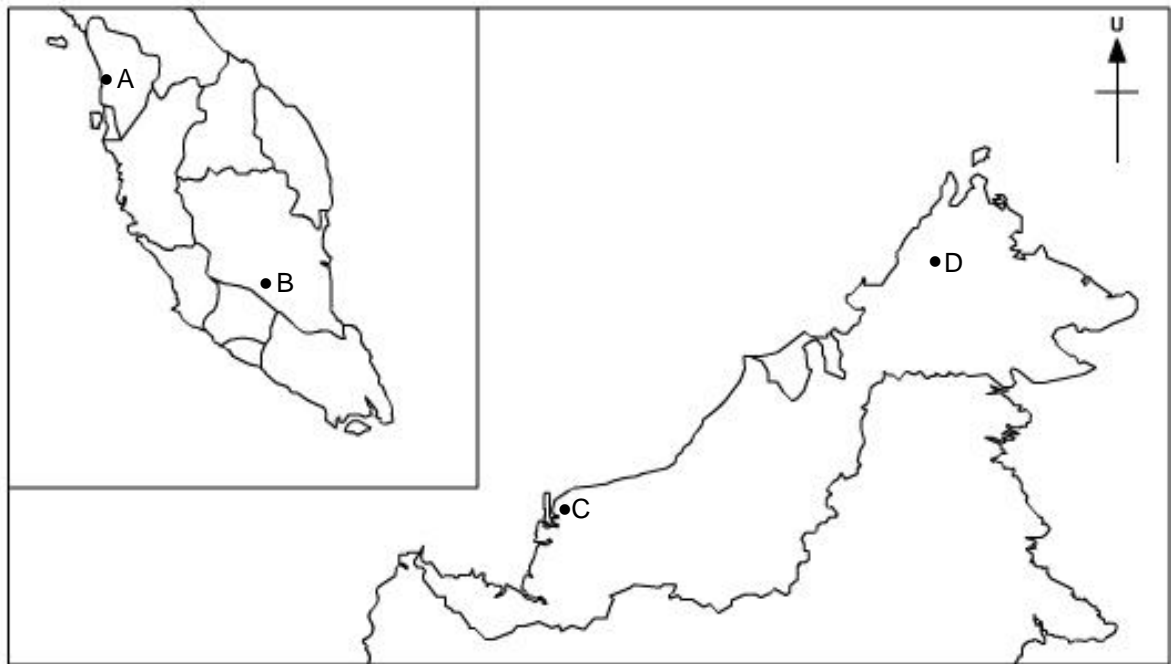
- A. Gejala
B. Jejari
C. Selari
D. Reranting
10. Pernyataan berikut merujuk kepada banjaran di Malaysia.

Tulang belakang Semenanjung Malaysia

- A. Banjaran Bintang
B. Banjaran Crocker
C. Banjaran Tama Abu
D. Banjaran Titiwangsa
11. Apakah kepentingan kawasan tanah pamah di Malaysia?
- I. Tadahan hujan
II. Tapak pelabuhan
III. Kawasan pertanian
IV. Jaringan pengangkutan
- A. I dan II
B. I dan IV
C. II dan III
D. III dan IV

12. Berdasarkan peta di bawah, kawasan manakah berkaitan dengan tanaman berikut?

- Teh
- Sayur-sayuran



Peta: MALAYSIA

13. Terowong dibina untuk mengatasi halangan

- A. tanah tinggi
- B. cerun curam
- C. hutan tebal
- D. sungai deras


14. Apakah kepentingan kawasan berikut?

- Gunung Kinabalu
- Pergunungan Alps


- A. Pertanian
- B. Pembalakan
- C. Perlancongan
- D. Perlombongan

15. Apakah kesan peredaran bumi?
- A. Pembiasan angin
 - B. Kejadian empat musim
 - C. Air pasang dan air surut
 - D. Kejadian siang dan malam

16. Apakah kegunaan haiwan berikut di kawasan ladang?



- A. Melindungi fauna
 - B. Mencegah hakisan
 - C. Menyuburkan tanaman
 - D. Mengawal makhluk perosak
17. Apakah kejadian bagi rajah 2 berikut?



Rajah 2

- A. Hujan asid
- B. Hujan bukit
- C. Hujan perolakan
- D. Hujan perenggan

18. Apakah kesan penggunaan bahan berikut?

- | |
|---|
| <ul style="list-style-type: none">• Baja kimia• Racun rumpai |
|---|

- A. Tanah tandus
- B. Tanah runtuh
- C. Sungai tercemar
- D. Perubahan landskap

19. Apakah negeri X?

- | |
|---|
| Negeri X |
| <ul style="list-style-type: none">• laut sentiasa tenang• menangkap ikan sepanjang tahun |

- A. Perak
- B. Sabah
- C. Pahang
- D. Kelantan

20. Maklumat berikut terdapat di kawasan peta yang bertanda

Hutan 'Taiga' - Pembalakan



Peta: DUNIA

21. Apakah punca kejadian jerebu?

- A. Pelepasan CFC
- B. Pembakaran terbuka
- C. Petrol tanpa plumbum
- D. Perluasan kawasan hijau

22. Di hutan manakah tumbuhan berikut ditemui?



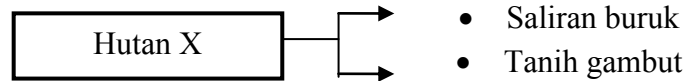
- A. Hutan paya
- B. Hutan pantai
- C. Hutan gunung
- D. Hutan hujan tropika

23. Di kawasan manakah terdapat hidupan liar seperti di dalam foto berikut?



- A. Tundra
- B. Gurun panas
- C. Mediterranean
- D. Monsun tropika

24. Apakah hutan X?



- A. Hutan pantai
 B. Hutan gunung
 C. Hutan hujan tropika
 D. Hutan paya air tawar

25. Antara berikut kombinasi yang manakah **benar**?

	Hasil hutan	Kegunaan
I	Kayu ru	Cerucuk kelong
II	Buluh	Perabot
III	Daun nipah	Membuat atap
IV	Daun mengkuang	Bahan api

- A. I dan II
 B. I dan IV
 C. II dan III
 D. III dan IV

26. Apakah kepentingan tumbuhan semula jadi kepada hutan simpan?

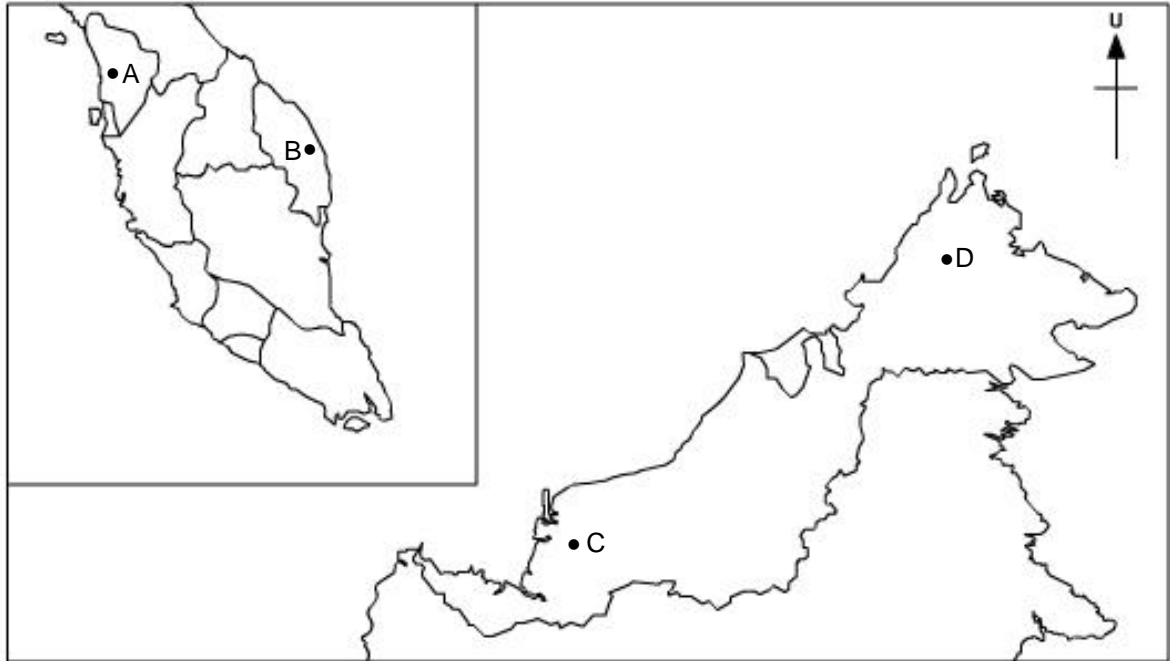
- A. Sumber mineral
 B. Pertanian pindah
 C. Tadahan air hujan
 D. Pembalakan terpilih

27. Apakah kesan penerokaan hutan terhadap tumbuhan semula jadi?

- I. Kehilangan hasil hutan
 II. Mengganggu hasil tanaman
 III. Meningkatkan kesuburan tanah
 IV. Menjejaskan keaslian tumbuhan

- A. I dan II
 B. I dan IV
 C. II dan III
 D. III dan IV

28. Manakah merupakan petempatan awal dalam peta?



Peta: MALAYSIA

29. Apakah agensi yang dikaitkan dengan maklumat berikut?

Memelihara flora dan fauna secara berterusan

- I. FRIM
- II. PERHILITAN
- III. Jabatan Pertanian
- IV. Jabatan Alam Sekitar

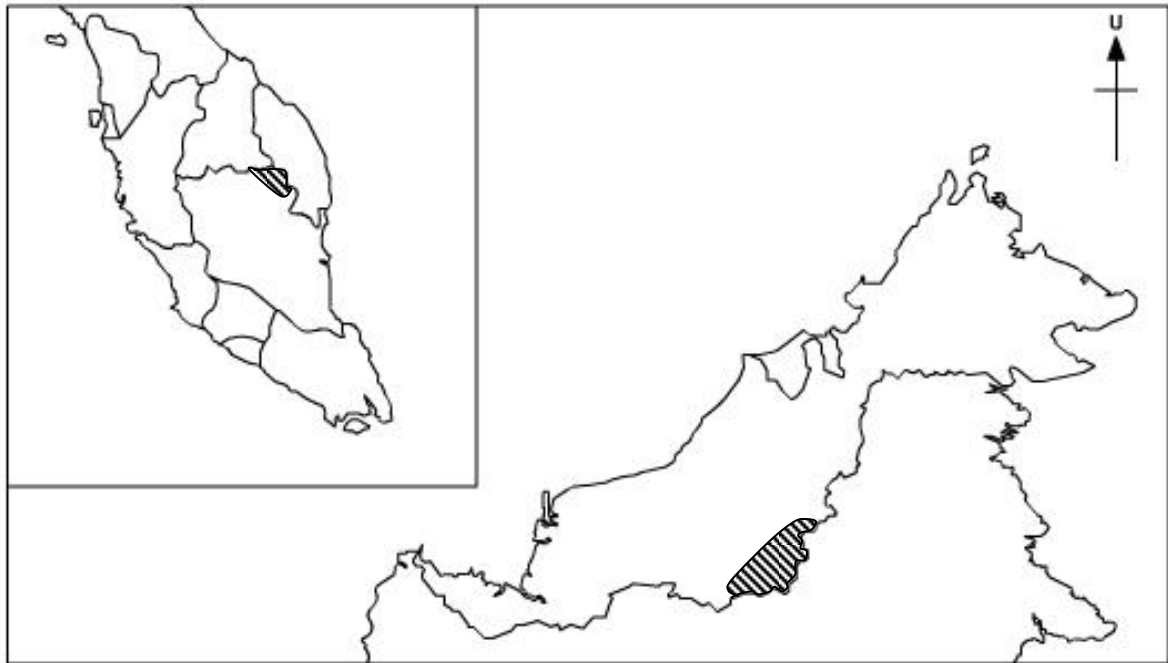
- A. I dan II
- B. I dan IV
- C. II dan III
- D. III dan IV

30. Apakah haiwan yang dapat dikaitkan dengan pernyataan berikut?

Kuala Gandah, Pahang

- A. Gajah
- B. Burung
- C. Orang Utan
- D. Badak Sumbu

31. Kawasan berlorek di bawah menunjukkan berpenduduk



Peta: MALAYSIA

- A. padat
- B. jarang
- C. optimum
- D. sederhana padat

32. Apakah faktor yang mempengaruhi taburan penduduk lokasi berikut?

- Sungei Way
- Bayan Lepas

- A. Pertanian
- B. Pendidikan
- C. Perlancongan
- D. Perindustrian

33. Apakah kesan daripada pernyataan berikut?

- Kahwin lewat
- Amalan perancangan keluarga

- A. Kadar kelahiran tinggi
- B. Kadar kelahiran rendah
- C. Kadar kematian tinggi
- D. Kadar kematian rendah

34. Apakah kesan negatif penerokaan sumber air?

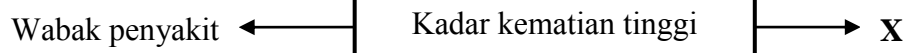
- A. Hutan musnah
- B. Pencemaran udara
- C. Tanah menjadi subur
- D. Suhu atmosfera meningkat

35. Apakah tujuan pembinaan berikut?

- Empangan Kenyir, Terengganu
- Empangan Batang Ai, Sarawak

- A. Mengawal banjir
- B. Mengairi kawasan padi
- C. Membekal tenaga elektrik
- D. Membekal air domestik

36. Apakah faktor X?




- A. Bencana alam
- B. Kahwin lewat
- C. Peluang pekerjaan
- D. Pemakanan berkhasiat

37. Lokasi berikut dibina di kawasan

Mahkota Parade, Melaka

- A. Tanah tebusguna
- B. Pinggir laut ditambak
- C. Tanah bekas lombong
- D. Tanah pertanian diteres

38. Apakah hasil Q?



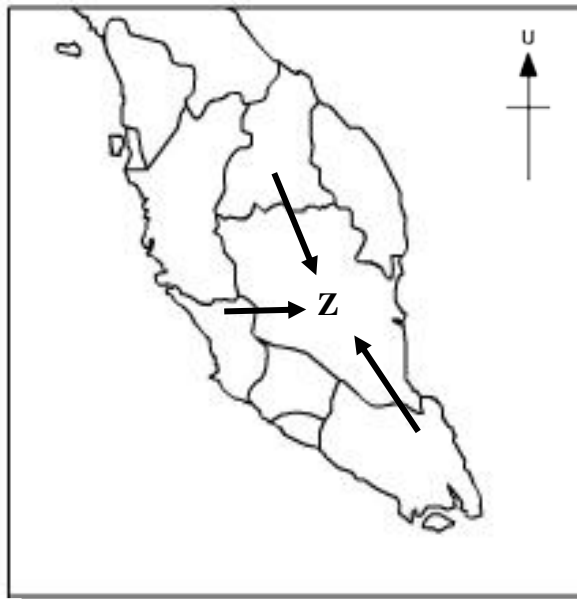
- A. Piuter
- B. Tembikar
- C. Botol kaca
- D. Tin minuman

39. Berikut ciri kependudukan sebuah negara.
Apakah negara Y?

Negara Y	<ul style="list-style-type: none">• Kadar kenal huruf tinggi• Kadar kelahiran rendah
-------------	---

- A. India
- B. Kanada
- C. Malaysia
- D. Bangladesh

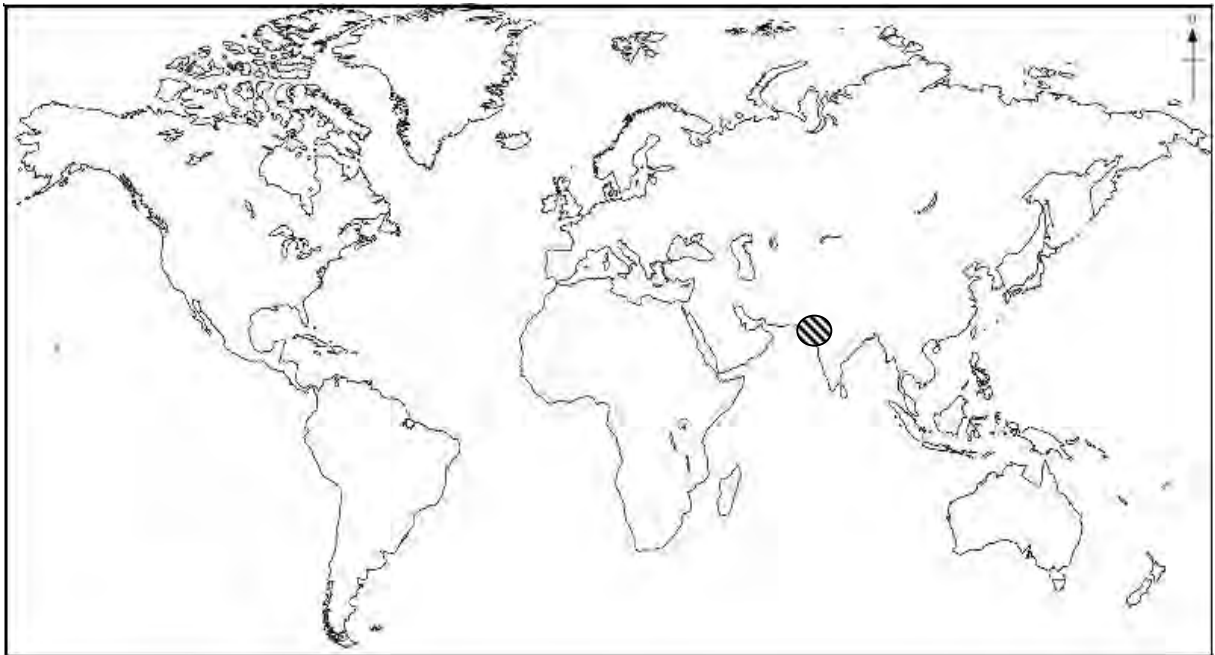
40. Apakah kesan migrasi luar bandar ke luar bandar di Z?



Peta: SEMENANJUNG MALAYSIA

- A. Dasar kerajaan
 - B. Peluang pekerjaan
 - C. Wujud bandar baru
 - D. Jaringan pengangkutan moden
41. Bandar manakah berfungsi sebagai bandar pendidikan?
- A. Kuala Kangsar
 - B. Bayan Lepas
 - C. Alor Setar
 - D. Bangi
42. Manakah cara pengangkutan darat awal penduduk?
- A. Jong
 - B. Rakit
 - C. Sampan
 - D. Kereta lembu

43. Keperluan pengangkutan kereta api dari Seremban ke Port Dickson pada awalnya dikaitkan dengan
- A. kayu balak
 - B. batu kapur
 - C. bijih timah
 - D. getah
44. Apakah faktor utama yang menggalakkan pertempatan awal di kawasan berlorek?



Peta: DUNIA

- A. Bekalan air
 - B. Keselamatan
 - C. Binatang buas
 - D. Sumber mineral
45. Apakah fungsi pelabuhan berikut?

- Pelabuhan Bintulu
- Pelabuhan Klang

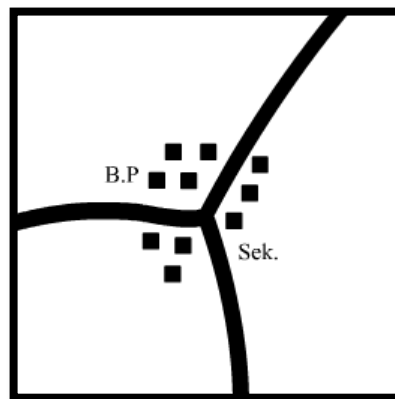
- A. Pelabuhan kontena
- B. Pusat perikanan
- C. Pusat perlancongan
- D. Pengkalan tentera laut

46. Apakah kepentingan lebuhraya berikut?

- Timur - Barat
- Kuala Lumpur - Karak

- A. Mengurangkan kos pengangkutan
- B. Mengurangkan pencemaran udara
- C. Meningkatkan darjah ketersampaian
- D. Memajukan kawasan pedalaman

47. Apakah pola petempatan dalam rajah 3 berikut?



Rajah 3

- A. Berjajar
- B. Berpusat
- C. Berselerak
- D. Berkelompok

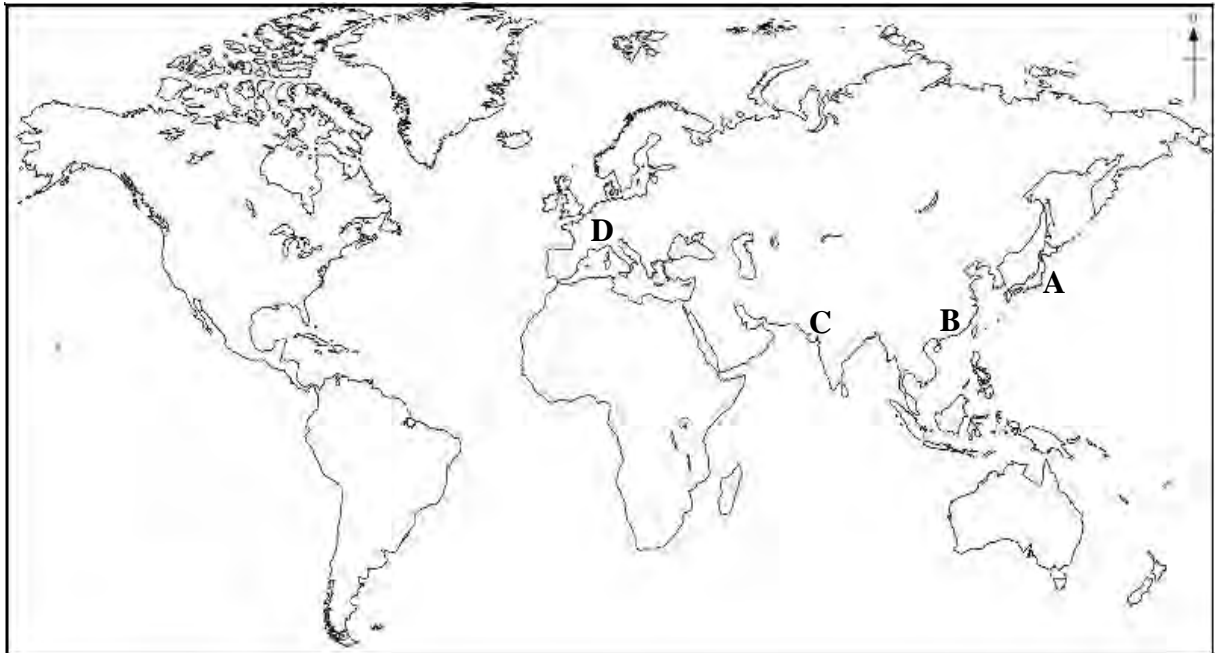
48. Apakah sumber yang tidak boleh diperbaharui?

- A. Air
- B. Suria
- C. Hutan
- D. Mineral

49. Mineral apakah yang terdapat di Teluk Ramunia, Johor?

- A. Bauksit
- B. Kuprum
- C. Arang batu
- D. Bijih timah

50. Negara manakah tenaga pasang surut dijalankan secara meluas?



Peta: DUNIA

51. Apakah industri berkaitan kawasan berikut?

- Kerteh
- Bintulu

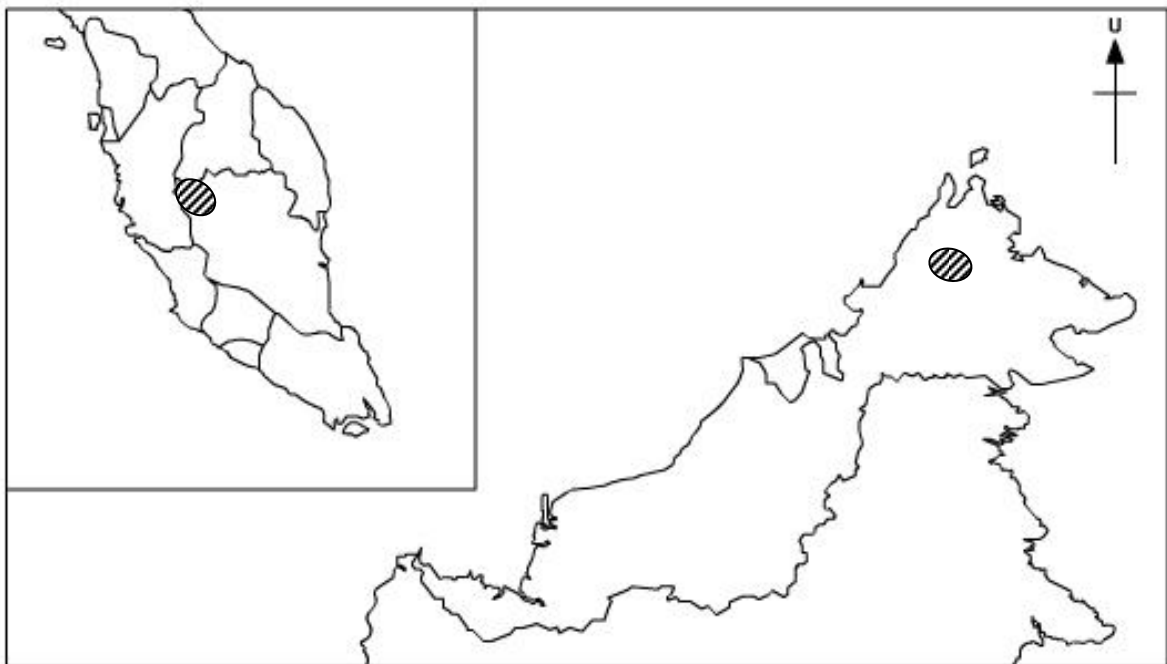
- A. Perkayuan
- B. Petrokimia
- C. Elektronik
- D. Automotif

52. Apakah kaedah berkaitan langkah pengurusan berikut?

- Menghadkan pokok ditebang
- Pokok matang ditebang

- A. Ladang hutan
- B. Rawatan silvikultur
- C. Penghutanan semula
- D. Penebangan terpilih

53. Apakah faktor yang berkaitan dengan kegiatan ekonomi di kawasan berlorek?



Peta: MALAYSIA

- A. Pasaran
- B. Governan
- C. Bentuk muka bumi
- D. Sumber bahan terpilih

54. Apakah kegiatan ekonomi utama bagi kawasan berikut?

- Shah Alam
- Pekan

- A. Membuat kereta
- B. Penapisan petroleum
- C. Menghasilkan besi dan keluli
- D. Menghasilkan barangan elektrik

55. Apakah kegiatan ekonomi berkaitan dengan proses awal pemandaran di bandar raya Kuala Lumpur dan Ipoh?

- A. Pertanian
- B. Perikanan
- C. Perkhidmatan
- D. Perlombongan

56. Apakah sumbangan utama kegiatan ekonomi terhadap pembangunan negara?

- I. Peningkatan pengangguran
- II. Peningkatan infrastruktur
- III. Pemindahan teknologi
- IV. Peningkatan import

- A. I dan II
- B. I dan IV
- C. II dan III
- D. III dan IV

57. Apakah kesan aktiviti berikut terhadap alam sekitar?

- Perlombongan
- Pertanian

- A. Perubahan pandang darat
- B. Penipisan lapisan ozon
- C. Kesan rumah hijau
- D. Pulau haba

58. Apakah punca berlaku kesan rumah hijau?
- I. Pembinaan bangunan konkrit
 - II. Penggunaan gas CFC
 - III. Pembajaan tanah
 - IV. Pembakaran bahan api fosil
- A. I dan II
 - B. I dan IV
 - C. II dan III
 - D. III dan IV
59. Negara manakah yang menjalankan rawatan semula air?
- A. German
 - B. Taiwan
 - C. Singapura
 - D. Denmark
60. Apakah pertubuhan yang melibatkan kegiatan ekonomi Negara-negara Asia Tenggara?
- A. ASEAN
 - B. EAEC
 - C. NAM
 - D. OIC

KERTAS SOALAN TAMAT



**JABATAN PELAJARAN NEGERI
NEGERI SEMBILAN DARUL KHUSUS**

PRA PENILAIAN MENENGAH RENDAH 2012

**SKEMA JAWAPAN
23/1 Geografi**

No Soalan	Jawapan			
	A	B	C	D
1			1	
2	1			
3				1
4			1	
5		1		
6				1
7	1			
8			1	
9				1
10				1
11		1		
12				1
13	1			
14			1	
15		1		
16				1
17		1		
18			1	
19	1			
20		1		
21		1		
22			1	
23				1
24				1
25			1	
26			1	
27		1		
28	1			
29	1			
30	1			
31		1		
32				1
33		1		
34	1			
35			1	
36	1			
37		1		

No Soalan	Jawapan			
	A	B	C	D
38		1		
39		1		
40			1	
41				1
42				1
43			1	
44	1			
45	1			
46			1	
47		1		
48				1
49	1			
50		1		
51		1		
52				1
53			1	
54	1			
55				1
56			1	
57	1			
58				1
59			1	
60	1			
	15	15	15	15