


**Suasana tempat kerja yang baik
mempengaruhi mutu kerja membuat
rak hiasan**

- 1 Pernyataan di atas berkaitan dengan amalan 4M iaitu
- A menilai
 - B membersihkan
 - C mendisiplin
 - D menyusun atur



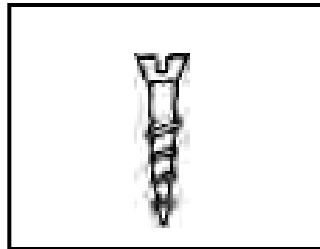
RAJAH 1

- 2 Berdasarkan Rajah 1 di atas, pelajar perlu memikirkan cara untuk
- A pemilihan masalah
 - B pemilihan bahan produk
 - C pencetusan idea
 - D pengubahsuaian produk
- 3 Apakah langkah pertama dalam proses reka cipta?
- A Penyenaraian idea
 - B Pemilihan reka bentuk
 - C Pengubahsuaian projek
 - D Pengenalpastian masalah
- 4 Mengapakah pendokumentasian perlu dalam reka cipta?
- I Mengumpul maklumat
 - II Merekodkan maklumat
 - III Persembahan projek
 - IV Memeriksa dan menguji
 - A I, II dan III
 - B I, II dan IV
 - C II, III dan IV
 - D I, III dan IV

5. Antara berikut faktor yang manakah harus dipertimbangkan semasa membuat keputusan tentang sesuatu produk reka bentuk?

- I reka bentuk dan fungsi
- II kesesuaian bahan
- III ketahanan
- IV teknik pembinaan dan keselamatan
- A I, II dan III
- B I, II dan IV
- C I, III dan IV
- D I, II, III dan IV

6. Rajah 2 menunjukkan sejenis pengikat yang digunakan untuk mencantum kayu.



RAJAH 2

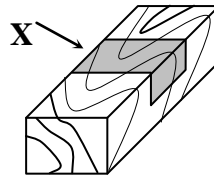
Pernyataan yang manakah benar?

	Jenis pengikat	Kegunaan
A	Skru kepala bulat	Untuk mengikat kayu
B	Skru kepala benam	Untuk memasang engsel
C	Skru kepala rata	Untuk mengikat kayu
D	Skru kepala nipis	Untuk memasang engsel

7. Alatan ini digunakan di dalam kerja-kerja bengkel. Manakah pasangan alatan yang betul ?

	Alatan dan pasangannya	
A		
B		
C		
D		

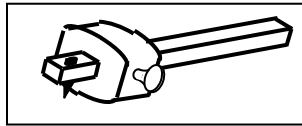
- 8 Rajah 3 menunjukkan proses membuat tanggam.



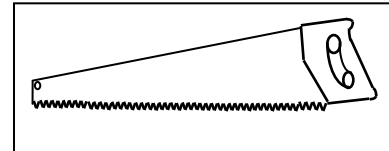
RAJAH 3

Apakah alat yang sesuai digunakan untuk membuang bahagian X?

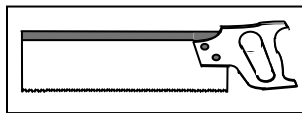
I



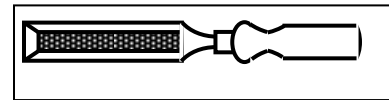
III



II



IV



- A I, II dan III
 B I, II, dan IV
 C I, III, dan IV
 D II, III dan IV

Jadual 1 menunjukkan sumber elektrik dan cara penjanaannya.

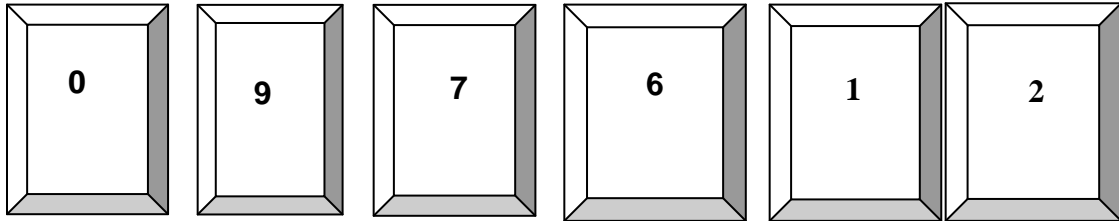
CARA PENJANAANNYA	SUMBER
X	<ul style="list-style-type: none"> • Sel kering • Sel nikel cadmium • Sel lithium

JADUAL 1

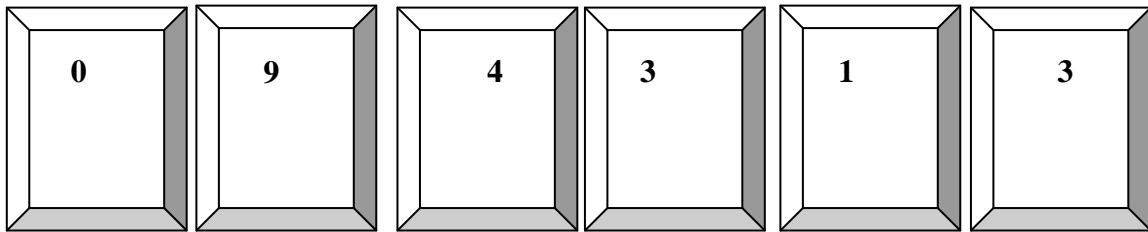
- 9 Apakah cara penjaan yang sesuai bagi X?
- A Haba
 B Cahaya
 C Kemagnetan
 D Tindakan kimia
- 10 Susun semula kaedah menggantikan suis penghidup lampu pendafloor mengikut susunan yang betul?
- I Masukkan suis penghidup ke dalam pemegang suis penghidup
 II Matikan suis bekalan arus
 III Keluarkan suis penghidup yang rosak
 IV Pusing mengikut arah jam
- A I, III, IV dan IV
 B II, III, IV dan I
 C III, II, IV dan I
 D II, III, I dan IV

200 unit pertama 0.218
 800 unit berikutnya 0.258
 Unit tambahan berikutnya 0.278

11 Pernyataan di atas menunjukkan kadar tarif bayaran bil elektrik. Berapakah jumlah yang perlu di bayar oleh pengguna bagi bulan Ogos berdasarkan bacaan di bawah.



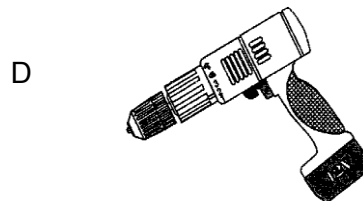
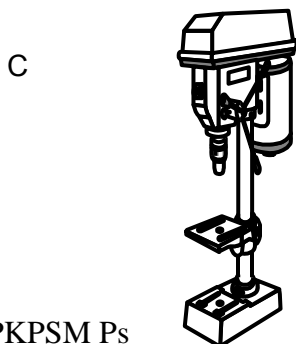
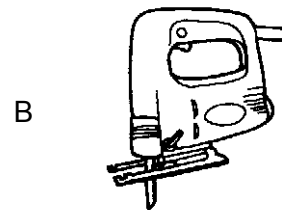

BACAAN BULAN OGOS



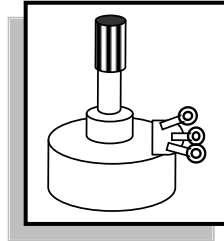
BACAAN BULAN JULAI

- A RM 43.60
- B RM 71.94
- C RM 77.14
- D RM 85.14

12 Antara peralatan berikut yang manakah menggunakan motor jenis DC?



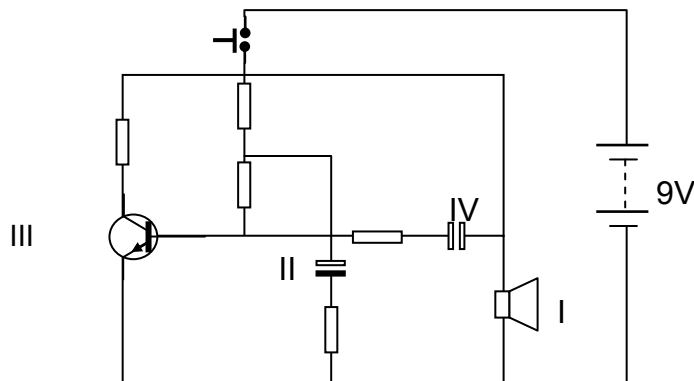
- 13 Rajah 4 menunjukkan satu komponen elektronik.



RAJAH 4

Komponen tersebut ialah

- A Kapasitor
 - B Transistor
 - C Perintang boleh laras
 - D Perintang peka cahaya
- 14 Rajah 5 menunjukkan litar skematik bagi satu projek elektronik

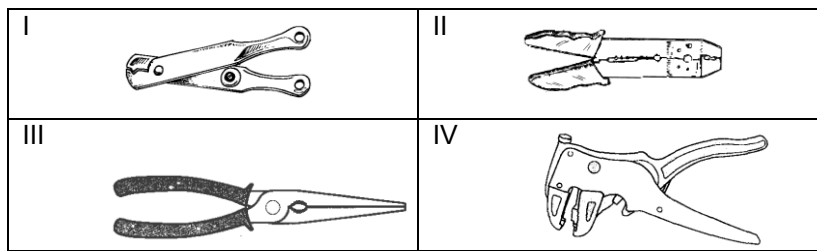


RAJAH 5

Komponen manakah yang meninggikan arus, voltan dan kuasa dalam litar tersebut?

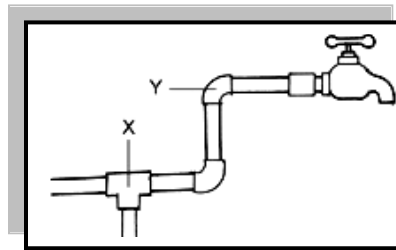
- A I
- B II
- C III
- D IV

15 Pilih alatan yang digunakan untuk menjalur wayar



- A I, II, III
- B I, II, IV
- C I, III, IV
- D II, III, IV

16 Rajah 6 menunjukkan penyambungan sistem perpaipan.

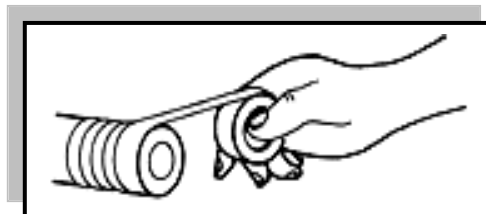


RAJAH 6

Manakah kenyataan yang benar?

	X	Y
A	Nat pengunci	Soket penjodoh
B	Tee pengecil	Siku pengecil
C	Tee sama	Siku 90° sama
D	Tee penyuai	Soket 90° pengecil

17 Rajah 7 menunjukkan salah satu proses penyambungan bahan perpaipan.

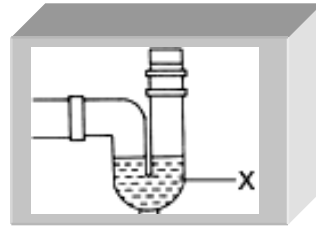


RAJAH 7

Apakah kesannya jika proses di atas tidak dilakukan?

- A Aliran air menjadi perlahan
- B Sambungan tidak kemas
- C Berlaku kebocoran
- D Menjimatkan kos

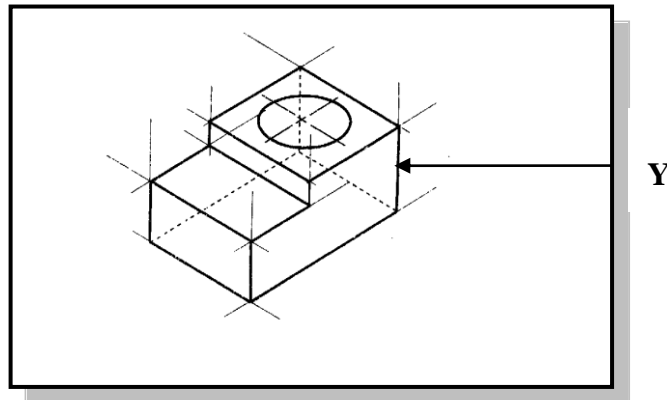
- 18 Rajah 8 menunjukkan sejenis perangkap di dalam sistem perpaipan.



RAJAH 8

Apakah fungsi X pada Rajah 8?

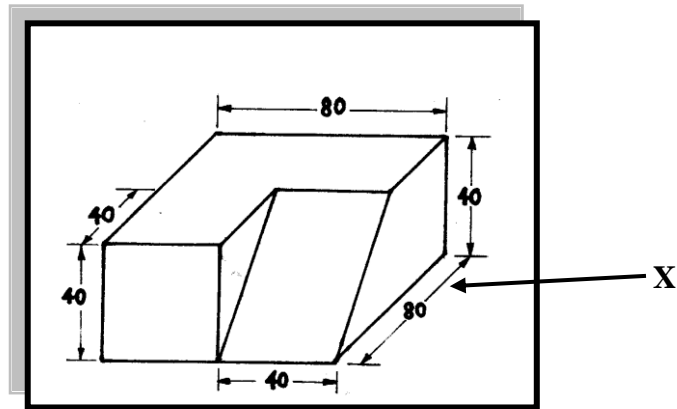
- I Menjimatkan kos air
 - II Menghalang bau busuk
 - III Melancarkan pergerakan sisa makanan
 - IV Menghalang serangga masuk ke rumah
- A I dan II
 - B I dan III
 - C II dan IV
 - D III dan IV
- 19 Apakah alatan lukisan teknik yang diperlukan untuk membina garisan Y pada Rajah 9?



RAJAH 9

- I Sesiku T
 - II Pembaris
 - III Sesiku Set
 - IV Jangka Tolok
- A I dan II
 - B I dan III
 - C II dan IV
 - D III dan IV

20 Rajah 10 menunjukkan sejenis bongkah.

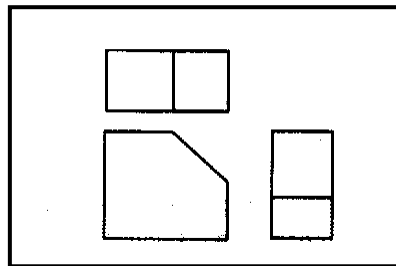


RAJAH 10

Apakah jenis garisan X dalam Rajah 10?

- A Garisan dimensi
- B Garisan objek
- C Garisan tersembunyi
- D Garisan objek

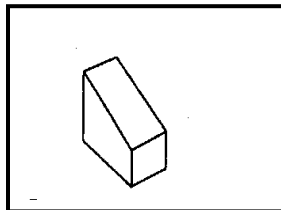
21 Rajah 11 menunjukkan lukisan ortografik bagi sebuah objek.



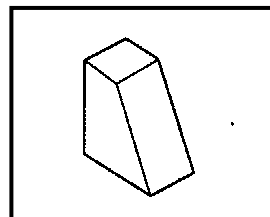
RAJAH 11

Antara berikut yang manakah objeknya?

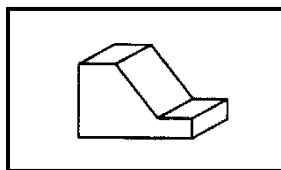
A



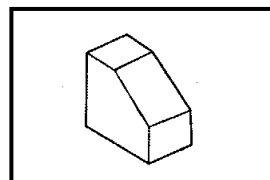
B



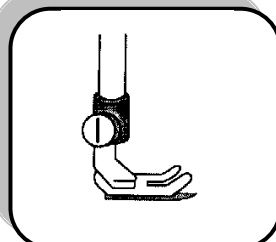
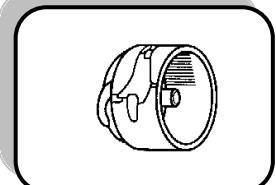
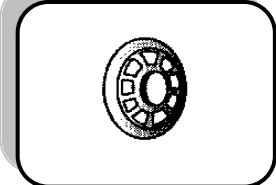
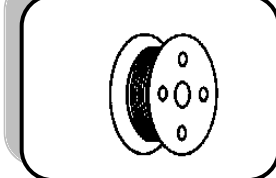
C



D

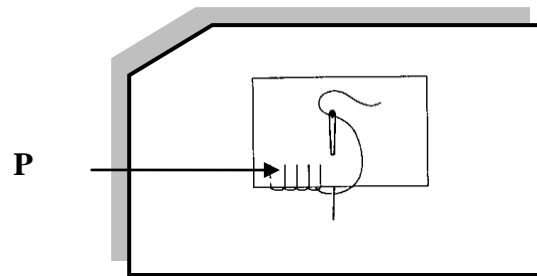


- 22 Berikut menunjukkan bahagian yang terdapat dalam sebuah mesin jahit. Antara berikut pasangan manakah yang betul?

A		<p>Penekan Jahitan</p>
B		<p>Gelendung</p>
C		<p>Tiang benang</p>
D		<p>Sekoci</p>

- 23 Mengapakah sekeping kain perca diletak di bawah penekan jahitan selepas meminyakkan mesin jahit?


- A Supaya jarum boleh menembusi mesin
- B Sebagai tadahan menyerap minyak yang menitis
- C Supaya minyak tidak menitis ke atas mesin
- D Untuk mengawal pergerakan mesin



RAJAH 12

- 24 Berdasarkan Rajah 12 jahitan yang bertanda P ialah jahitan
- A silang pangkah
 - B insang pari
 - C jelujur halus
 - D suji bilang

- 25 Rajah 13 menunjukkan cara menghidangkan minuman di atas dulang

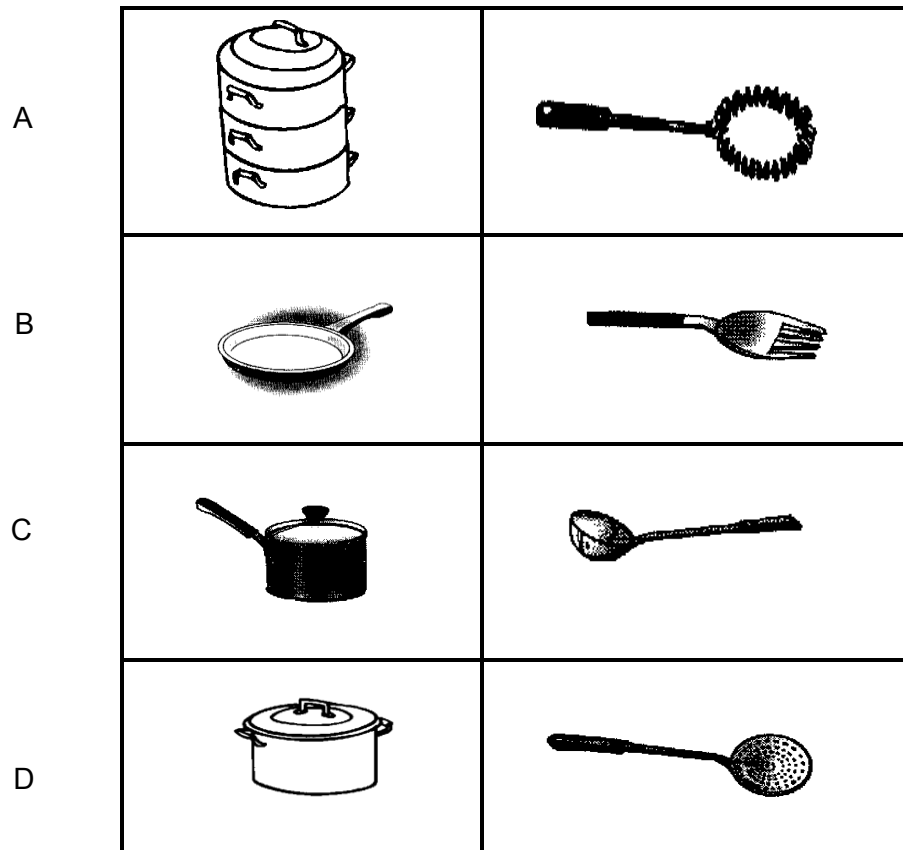


RAJAH 13

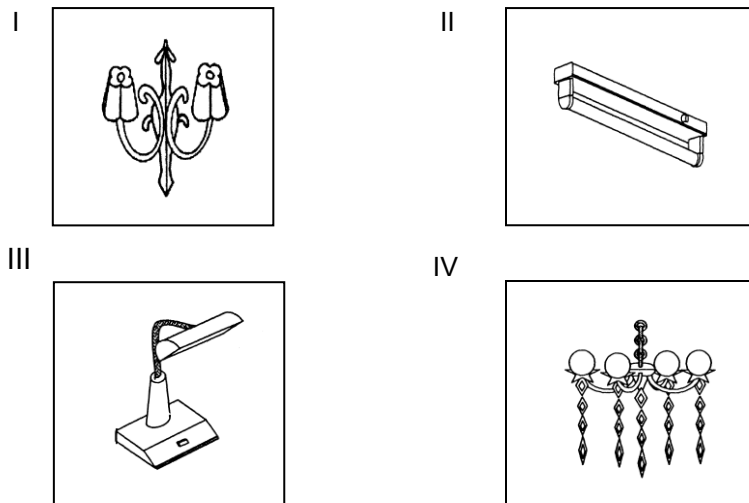
Antara minuman berikut, yang manakah sesuai dihidangkan cara di atas?

- I Air Teh
- II Jus Limau
- III Air Tembikai
- IV Air Kopi
- A I dan II
- B I dan III
- C II dan III
- D III dan IV

26 Pasangan alatan memasak manakah yang betul?



27 Antara berikut lampu manakah menghasilkan pencahayaan tidak langsung di tempat kediaman?




- A I dan II
 B I dan IV
 C II dan III
 D III dan IV

- ❖ *Menukar langsir rumah kediaman*
- ❖ *Membersih kipas siling ruang tamu*
- ❖ *Mengemas dan membersihkan bilik stor*

28 Apakah jenis pembersihan tempat kediaman bagi pernyataan di atas?

- A Pembersihan harian
- B Pembersihan mingguan
- C Pembersihan bulanan
- D Pembersihan berkala



RAJAH 14

29 Rajah 14 menunjukkan satu keratan yang telah sedia untuk disemai. Apakah jenis keratan di atas?

- A Keratan kayu lembut
- B Keratan kayu keras
- C Keratan kayu sederhana keras
- D Keratan kayu

30 Apakah yang perlu dipertimbangkan semasa memilih bekas untuk penanaman semula?

- I Mempunyai lubang saliran
- II Mudah dibersihkan
- III Kemas dan menarik
- IV Saiz bekas lebih kecil
- A I, II dan III
- B I, II dan IV
- C I, III dan IV
- D II, III dan I

- Barang atau perkhidmatan yang mesti ada agar manusia dapat hidup
- Contoh: pakaian, makanan dan tempat kediaman

- 31 Apakah yang diterangkan dalam pernyataan di atas?
- | | | | |
|---|----------------|---|----------------|
| A | Kehendak | B | Keinginan |
| C | Keperluan lain | D | Keperluan asas |
- 32 Antara berikut, manakah merupakan import nyata bagi Malaysia?
- | | |
|-----|---|
| I | Susu lembu dibeli dari New Zealand |
| II | Pakar bedah dari India bekerja di Hospital Besar Sultanah Bahiyah |
| III | Pembantu rumah dibawa masuk dari Filipina |
| IV | Kereta dari Korea dibawa masuk ke Malaysia |
- | | | | |
|---|------------|---|------------|
| A | I dan II | B | I dan IV |
| C | II dan III | D | III dan IV |

KEDAI PAKAIAN VOGUE NORISH & LILI



Puan Norish

- Beliau tidak menyumbangkan modal
- Membenarkan namanya digunakan dalam perniagaan
- Liabiliti yang ditanggung oleh beliau tidak terhad

- 33 Berdasarkan pernyataan di atas, Puan Norish merupakan rakan kongsi
- | | | | |
|---|-------|---|---------|
| A | aktif | B | lelap |
| C | biasa | D | nominal |

- Didaftarkan dengan Pendaftar Perniagaan
- Agihan keuntungan mengikut syarat yang dipersetujui
- Bilangan ahli tidak melebihi 20 orang

- 34 Berdasarkan pernyataan di atas, apakah jenis milikan perniagaan tersebut?
- | | |
|---|--------------------------------------|
| A | Kedai kasut Nuriz |
| B | Klinik Tan dan Lee |
| C | Syarikat Capital Sdn. Bhd |
| D | Koperasi Sek. Men. Sukan Perlis Bhd. |

35 Siapakah yang dimaksudkan dengan sasaran pasaran dalam perniagaan?

- A Peniaga
B Pemborong
C Pelanggan
D Pengeluar

36

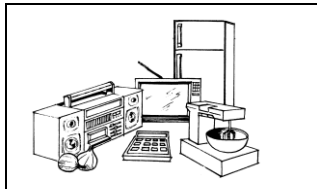


Apakah langkah-langkah yang perlu saya ambil untuk menubuhkan perniagaan kecil.


- I membuat perancangan
II memohon lesen perniagaan
III mendaftar perniagaan
IV membeli stok barangan
A I, II dan III
B I, II dan IV
C I, III dan IV
D II, III dan IV

37 Antara berikut manakah merupakan stok gerak pantas ?

A



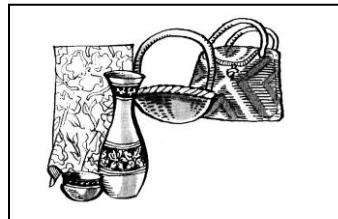
B



C



D



PERTANDINGAN MEMASAK



RAJAH 15

38 Berdasarkan Rajah 15, apakah bentuk promosi jualan yang digunakan?

- A Demonstrasi
B Jualan langsung
C Sampel percuma
D Pengiklanan

SYARIKAT IRIS INDAH BALI' S CONCEPT
NO 2121 JALAN KELADI , SUNGAI BULUH
59100 KUALA LUMPUR

SYARIKAT JAYS LANDSCAPE
422, JALAN MEGA
40000 SHAH ALAM
SELANGOR DARUL EHSAN

BUTIRAN	KUANTITI	HARGA SEUNIT RM	JUMLAH RM
Gazebo	1	RM 4 000.00	4 000.00
Lampu taman	4	RM 500.00	2 000.00
Set binaan air batuan natural	1	RM 2 800.00	4 000.00
Kurang diskaun niaga 10 %			10 000.00
			1 000.00
			9 000.00

Ringgit : Sembilan ribu sahaja
Syarat : Ang. Dibayar - lori
5% 7 hari
1% 30 hari

K & K di K

.....
Pengurus

39 Berapakah jumlah yang perlu dibayar oleh Jay's Landscape sekiranya dia diberikan diskaun niaga 10 % dan diskaun tunai 5 % kerana membayar dengan segera?

- A RM 7 650.00
- B RM 7 695.00
- C RM 8 100.00
- D RM 8 550.00

40 Manakah pasangan syarat serahan yang **benar**?

A	Ang. Dibayar	Pembeli dikehendaki membayar kos pengangkutan barang yang dibeli
B	K & K di K	Penyedia inoivis berhak membetulkan kesalahan atau kesilapan catatan yang terdapat dalam inoivis dengan cara menghantar nota serahan.
C	Angkutan hadapan	Pembeli tidak perlu membayar kos pengangkutan barang yang dibeli. Kos itu telah dimasukkan ke dalam harga jualan
D	K. I. T	Penjual telah memasukkan kos, insurans, dan tambang bagi barang yang dijual kepada pembeli

41 Antara berikut, pasangan yang manakah benar?

A	PENYATA AKAUN	Membuktikan bahawa pembayaran telah pun dijelaskan
B	NOTA DEBIT	Menambahkan jumlah hutang pembeli kepada pembekal
C	BORANG PESANAN	Mengesahkan barang- barang telah selamat diterima daripada pembekal
D	NOTA SERAHAN	Menyenaraikan harga barang yang dijual oleh pembekal

42 Antara berikut manakah yang salah?

	FaKtor pengeluaran	Ganjaran
A	Tanah	Sewa
B	Modal	Faedah
C	Pekerja	Upah
D	Pengusaha	Dividen

43

Bil	Bahan	RM
1	Kayu	8.00
2	Paku	0.50
3	Perspek	5.30
4	Air	0.40
5	Gas	0.60
6	Upah	3.50

JADUAL 2

Berdasarkan Jadual 2 , hitungkan kos bahan mentah untuk membuat projek tersebut?

A RM 13.80


B RM 17.30

C RM 14.80

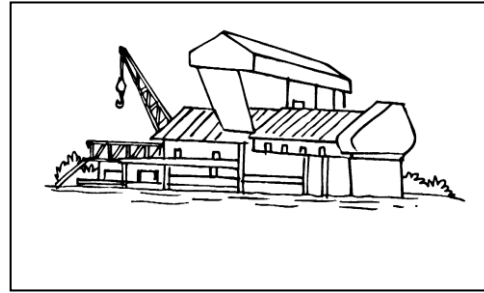
D RM 18.30

44 Antara berikut ,manakah terlibat dalam pengeluaran bidang ekstraktif?


I




II



III



IV



A I dan II
C II dan III

B I dan IV
D III dan IV

45 Antara berikut manakah benar?

	Permintaan	Penawaran	Harga
A	Tambah	Tambah	Turun
B	Tambah	Kurang	Turun
C	Kurang	Tambah	Turun
D	Kurang	Kurang	Turun

46 Antara berikut manakah ciri **utama** seorang usahawan?

A Mudah putus asa B Berkeyakinan tinggi
C Kreatif dan inovatif D Jujur dan bertanggung jawab

- Kawasan perindustrian
- Ruang perniagaan
- Bazar untuk berniaga
- Sistem jalan raya

47 Antara berikut, agensi manakah yang menyediakan kemudahan infrastruktur seperti di atas?

I Perbadanan Pembangunan Bandar (UDA)
II Majlis Amanah Rakyat (MARA)
III Pusat Daya Pengeluaran Negara (PDPN)
IV Syarikat Permodalan Kemajuan Perusahaan Malaysia Berhad (MIDF)

A I dan II B I dan IV
C II dan III D III dan IV

- 53 Apakah akta yang mewajibkan semua peniaga menggunakan alat timbangan yang diluluskan oleh kerajaan?
- A Akta Timbang dan Ukur 1972
 - B Akta Timbangan dan Mengukur 1972
 - C Akta Timbang dan Sukat 1972
 - D Akta Timbangan, Ukur dan Sukat 1972

54

"Beli perabot dengan cek RM 500"

Antara berikut catatan manakah yang betul?

- A Debit Akaun Perabot, Kredit Akaun Tunai
- B Debit Akaun Belian, Kredit Akaun Bank
- C Debit Akaun Perabot, Kredit Akaun Bank
- D Debit Akaun Bank, Kredit Akaun Perabot

55

Peniaga mengambil barang-barang dagangan untuk kegunaan sendiri RM 100.

Antara berikut akaun manakah yang terlibat?

- I Akaun Ambilan
 - II Akaun Tunai
 - III Akaun Bank
 - IV Akaun Belian
- A I dan II
 - B I dan IV
 - C II dan III
 - D III dan IV

- 56 Penyataan manakah benar tentang Imbangan Duga?
- A Disediakan untuk menguji ketepatan catatan bergu
 - B Disediakan selepas akaun-akaun penamat disiapkan
 - C Jumlah untung kasar dicatat pada ruangan debit Imbangan Duga
 - D Beza jumlah debit dan jumlah kredit merupakan untung atau rugi perniagaan
- 57 Berikut ialah petikan Imbangan Duga Perniagaan Gigih pada 30 September 2009 yang terdapat kesilapan.

BUTIRAN	DEBIT (RM)	KREDIT (RM)
Perabot	35 000	
Modal	60 000	
Alatan pejabat	28 400	
Penghutang		600
Overdraf		4 000

Hitungkan jumlah Imbangan Duga yang sebenar selepas pembetulan dibuat.

- A RM 64 600
- B RM 64 000
- C RM 36 400
- D RM 35 900

58

<i>Butiran</i>	<i>RM</i>
Stok awal	550
Stok akhir	880
Belian	3 100
Jualan	7 600
Duti atas belian	120
Angkutan masuk	100

JADUAL 6

Berdasarkan Jadual 6 untung kasar yang diperolehi pada 31 Disember 2008 ialah

- A RM 4 610 B RM 4 710
C RM 3 950 D RM 3 900

59 Berikut merupakan petikan Akaun Untung Rugi perniagaan Budi Luhur.

Akaun Untung Rugi bagi tahun berakhir 31 Disember 2009	
Kadar bayaran Belanja Am X	Untung Kasar Sewa diterima Faedah diterima

Apakah butiran yang sesuai bagi X?

- A Angkutan keluar B Komisen diterima
C Rugi bersih D Pemiutang

60

Kunci Kira-Kira pada 31 Julai 2009

	RM		RM	RM
Modal	30 000	Premises	20,000	
Untung bersih	2 000	Kenderaan	10,000	
	32 000	Alatan Pejabat	3,000	33 000
Ambilan	1 000			
Modal Akhir	31 000	Tunai	14 000	
		Bank	8 000	
Pinjaman bercagar	20 000	Penghutang	2 000	
Pemiutang	7 000	Stok Akhir	1 000	25 000
	58 000			58 000

Berdasarkan Kunci Kira-kira di atas, kirakan jumlah aset semasa bagi perniagaan tersebut.

- A RM 25 000 B RM 27 000
C RM 33 000 D RM 31 000

KERTAS SOALAN TAMAT

SKEMA JAWAPAN
PEPERIKSAAN PERCUBAAN BERSAMA PMR 2010
KEMAHIRAN HIDUP BERSEPADU
PILIHAN 4 - PERDAGANGAN DAN KEUSAHAWANAN

NO	JAWAPAN
1	A
2	C
3	D
4	A
5	D
6	B
7	C
8	B
9	D
10	D
11	C
12	D
13	C
14	C
15	B
16	C
17	C
18	C
19	B
20	A

NO	JAWAPAN
21	D
22	A
23	B
24	B
25	C
26	C
27	B
28	D
29	C
30	A
31	B
32	B
33	D
34	B
35	C
36	A
37	B
38	A
39	D
40	D

NO	JAWAPAN
41	B
42	D
43	A
44	A
45	C
46	C
47	A
48	A
49	C
50	C
51	B
52	D
53	C
54	C
55	B
56	A
57	B
58	A
59	A
60	A