

1. Yang manakah antara usaha berikut sebagai langkah untuk meningkatkan nilai tambah dalam ekonomi negara ?

- I menjadikan pertanian adalah perniagaan
 - II mempergiatkan industri berasaskan sumber pertumbuhan baru
 - III membasmi kemiskinan tegar
 - IV memberi insentif kepada anggota perkhidmatan awam
- A I dan II
 - B I dan IV
 - C II dan III
 - D III dan IV

✓ A

2. Yang manakah antara prinsip berikut menjadi teras penubuhan Persatuan Negara Asia Tenggara (ASEAN) ?

- I mempercepatkan pertumbuhan ekonomi antara negara
 - II menyelesaikan sebarang perbezaan atau perdebatan dengan aman
 - III hak kepimpinan yang bebas daripada sebarang campur tangan luar
 - IV mewujudkan keadaan aman dan stabil dalam kalangan negara anggota
- A I dan II
 - B II dan III
 - C I dan IV
 - D III dan IV

*Memajukan perdagangan bebas tanpa mengenakan cukai yang tinggi

*Membangunkan perdagangan terbuka pelbagai hala

3. Antara berikut yang manakah berusaha melaksanakan matlamat di atas ?

- A Rundingan Ekonomi Asia Timur (EAEC)
- B Kumpulan Lapan Negara Membangun (D 8)
- C Kerjasama Selatan-Selatan (G15)
- D Kerjasama Ekonomi Asia Pasifik (APEC)

✓ D

4. Yang manakah antara berikut kejayaan peranan Malaysia dalam pertubuhan Komanwel ?
- I memberi bantuan ketenteraan untuk mencapai kemerdekaan Zimbabwe
 - II menjadi tuan rumah persidangan menentang Dasar Aparteid
 - III mempengerusikan program kerjasama Komanwel bagi pengurusan teknologi
 - IV menyertai misi pemerhati dalam pilihan raya di Fiji, Nigeria dan Afrika Selatan

- A I dan II
- B I dan III
- C II dan IV
- D III dan IV

x 7

5. Kesan manakah yang wujud daripada pelaksanaan Kawasan Perdagangan Bebas ASEAN (AFTA) ?

- A Lebih banyak kilang akan didirikan
- B Perebutan pelaburan modal asing
- C Produk negara dapat menembusi pasaran yang lebih luas
- D Harga barangan dalam negara menjadi lebih mahal

- | |
|--|
| <ul style="list-style-type: none"> • Dialog antara Budaya dan Peradaban • Globalisasi dan Persaingan |
|--|

6. Antara berikut yang manakah menjadi forum membincangkan isu di atas yang berkaitan kepentingan bersama komuniti di peringkat global ?

- A Mesyuarat Asia Eropah
- B Dialog Utara Selatan
- C Sidang Kemuncak Ekonomi Asia Timur
- D Mesyuarat Ketua-Ketua Kerajaan Komanwel

x A

7. Yang manakah antara pulau-pulau berikut berjaya dituntut oleh Malaysia berdasarkan Akta Zon Ekonomi Eksklusif ?

- I Pulau Spratly
- II Pulau Batu Putih
- III Pulau Layang-Layang
- IV Pulau Ligitan dan Sipadan

- A I dan II
- B I dan III
- C II dan IV
- D III dan IV

‘Melindungi alam sekitar dan memelihara kepelbagaian hayat, sumber genetik dan meningkatkan penyelidikan dan pendidikan’

8. Pernyataan objektif di atas dicapai melalui

- A Dasar Wawasan Negara
- B Dasar Perhutanan Negara
- C Dasar Bioteknologi Negara
- D Dasar Pembangunan Nasional

x B

*mempercepatkan proses pemodenan di kawasan desa

*membangunkan ekonomi berasaskan proses demografi

9. Strategi Dasar Urbanisasi yang manakah dilaksanakan bagi mencapai matlamat di atas ?

- A Menarik lebih ramai pelabur asing
- B Menggalakkan penghijrahan ke bandar
- C Menukar status kegunaan tanah pertanian
- D Memusatkan kampung kecil yang berhampiran menjadi bandar satelit

10. Dasar awam berikut yang manakah berusaha mewujudkan suatu etika kerja dan sikap berkhidmat yang memberi keutamaan kepada peningkatan produktiviti dan kualiti ?

- A Dasar Pensiwaan
- B Dasar Pandang Ke Timur
- C Dasar Bersih, Cekap dan Amanah
- D Dasar Peningkatan Daya Pengeluaran Negara

x C

‘Membangunkan Malaysia sebagai sebuah masyarakat berasaskan pengetahuan (k – ekonomi)’

11. Dasar berikut yang manakah membantu mencapai matlamat di atas ?

- A Dasar Wawasan Negara
- B Dasar Perindustrian Negara
- C Dasar Telekomunikasi Negara
- D Dasar Pembangunan Nasional

- Memperkasakan Bahasa Malaysia
- Melaksanakan Rancangan Integrasi Murid Untuk Perpaduan
- Menggiatkan Aktiviti Kokurikulum

12. Yang manakah antara Teras Strategik Pelan Induk Pembangunan Pendidikan berikut yang dapat mencapai hasrat di atas ?

- A Membina Negara Bangsa
- B Membangunkan Modal Insan
- C Memperkasakan Sekolah Kebangsaan
- D Memertabatkan Profesion Keguruan

✓ A

*Komited terhadap perubahan pekerjaan

*Sedia mengubah sikap, berinisiatif dan proaktif semasa menjalankan tugas

13. Pernyataan di atas merujuk kepada penerapan nilai Islam yang berikut iaitu:

- A Berdisiplin
- B Berdedikasi
- C Bertanggungjawab
- D Berbudi Mulia

14. Yang manakah antara berikut merupakan matlamat Rukun Negara ?

- I Mewujudkan perpaduan antara kaum
- II Memelihara cara hidup demokratik
- III Memupuk semangat patriotik
- IV Mematuhi undang-undang negara

✓ A

- A I dan II
- B II dan III
- C I dan IV
- D III dan IV

*Sumber negara dapat dieksploitasi dan diusahakan secara maksimum

*Memperkukuhkan pertahanan negara daripada segi politik dan keselamatan

15. Yang manakah antara dasar berikut membantu negara mencapai cita-cita di atas?

- A Dasar Wawasan Negara
- B Dasar Pelajaran Kebangsaan
- C Dasar Kependudukan Negara
- D Dasar Pembangunan Nasional

16. Yang manakah sumbangan Dasar Sukan Negara pada peringkat masyarakat ?

- I memupuk persahabatan
- II mengurangkan tekanan hidup
- III meningkatkan tahap kesihatan komuniti
- IV mencegah jenayah remaja dengan memanfaatkan masa

- A I dan II
- B II dan III
- C I dan IV
- D III dan IV

17. Yang manakah yang berikut dapat mengukur pencapaian sasaran pelaksanaan Pelan Integriti Nasional ?

- I Peningkatan dalam daya saing ekonomi
- II Pemantapan prosedur dalam pentadbiran kuasa
- III Pengurangan gejala rasuah dan salahguna kuasa
- IV Peningkatan tadbir urus korporat dan etika perniagaan

- A I dan II
- B I dan IV
- C II dan III
- D III dan IV

18. I Menyediakan kemudahan maklumat yang lebih luas
II Menghasilkan produk dan perkhidmatan 'kelas pertama'

Strategi di atas dilaksanakan untuk mencapai matlamat

- A Dasar Sogoshosa
- B Dasar Pertanian Kedua
- C Pelan Induk Perindustrian Ketiga
- D Pelan Induk Perindustrian Berat

- Meningkatkan usaha membasmi kemiskinan terutama golongan miskin tegar diseluruh negara
- Menyediakan kemudahan dan perkhidmatan berkualiti tinggi melalui sistem penyampaian yang cekap dan berkesan

19. Pernyataan di atas merujuk usaha yang dilaksanakan dalam

- A Rancangan Malaysia Keenam
- B Rancangan Malaysia Ketujuh
- C Rancangan Malaysia Kelapan
- D Rancangan Malaysia Kesembilan

- Tiung SAT I dilancarkan di Baikonur, Kazakhstan
- Razak SAT dilancarkan di Pulau Kwajalein, Lautan Pasifik

20. Kejayaan pelancaran satelit diatas dicapai melalui

- A Dasar Wawasan Negara
- B Dasar Telekomunikasi
- C Dasar Pembangunan Nasional
- D Dasar Sains dan Teknologi Negara

21. Antara yang berikut, yang manakah ciri-ciri negara demokrasi

- I pilihan raya yang bebas dijalankan untuk memilih kerajaan
- II undi pilihan raya tidak sulit sewaktu dijalankan
- III kebebasan hak bersuara rakyat terjamin
- IV kuasa pemerintahan terletak pada kerajaan pusat

- A I dan II
- B I dan III
- C II dan IV
- D III dan IV

Rakyat dilarang daripada menabur fitnah dan mengungkitkan isu-isu sensitif :

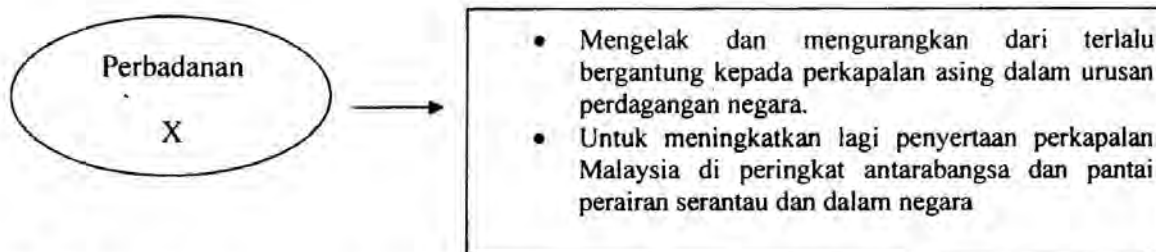
- Hak-hak istimewa orang Melayu
- Bahasa
- Kuasa raja
- Kewarganegaraan

22. Pernyataan di atas berlandaskan undang-undang sekatan terhadap kebebasan hak asasi warganegara berdasarkan:
- A Akta Hasutan 1948
 B Akta Rahsia Rasmi 1972
 C Akta Mesin Cetak dan Penerbitan 1984
 D Akta Keselamatan Dalam Negeri (ISA) 1960
23. Antara berikut, jawatan yang manakah disandang selama diperkenankan oleh Yang di-Pertuan Agong?
- I Peguam Negara
 II Menteri Kabinet
 III Hakim Mahkamah Persekutuan
 IV Penyimpan Mohor Besar Raja-Raja
- A I dan II
 B I dan III
 C II dan IV
 D III dan IV
24. Yang manakah berikut benar tentang Ketua Setiausaha Kementerian?
- I Tergolong dalam anggota pentadbiran
 II Mengetuai pentadbiran di kementerian
 III Menganggotai mesyuarat Jawatankuasa Perancangan Pembangunan Negara
 IV Memegang jawatan selama diperkenankan oleh Yang di-Pertuan Agong
- A I dan II
 B I dan IV
 C II dan III
 D III dan IV

25. Pilih padanan agensi/ badan dengan kementerian yang tepat.

	Badan / Agensi		Kementerian
I	Perbadanan Pembangunan Bandar	P	Jabatan Perdana Menteri
II	Majlis Amanah Rakyat	Q	Kementerian Kewangan
III	Lembaga Pelesenan Kenderaan Perdagangan (LPKP)	R	Dalam Negeri dan Hal Ehwal Pengguna
IV	Suruhanjaya Koperasi Malaysia	S	Kemajuan Luar Bandar dan Wilayah

	I	II	III	IV
A	P	Q	R	S
B	Q	S	P	R
C	S	P	R	Q
D	R	P	S	Q



26. Berdasarkan pernyataan di atas, yang manakah benar tentang X?

- I Ketua eksekutif ialah Pengarah
- II Dikawal oleh kementerian secara longgar
- III Operasinya seperti swasta yang mementingkan keuntungan
- IV Anggaran belanjawan tahunan tidak tertakluk kepada kawalan Perbendaharaan

- A I dan II
- B I dan IV
- C II dan III
- D III dan IV

28. Yang manakah berikut benar tentang fungsi agensi pusat?

Agensi Pusat	Fungsi
I Unit Perancang dan Pelaksanaan	Menguruskan Rancangan Kerjasama Teknikal
II Unit Perancang Ekonomi	Merancang dan menyelaras bantuan teknikal dan kewangan untuk negara daripada kerajaan-kerajaan asing dan institusi-institusi kewangan
III Unit Pemodenan Tadbiran Pengurusan Malaysia	Melaksanakan dasar perkhidmatan awam yang lebih cekap dan sistematik
IV Jabatan Perkhidmatan Awam	Melantik dan meletakkan kakitangan kerajaan dalam taraf pencen

- A I dan II
- B I dan III
- C II dan IV
- D III dan IV

29. Ahli-ahli Majlis Mesyuarat Kerajaan Negeri mempunyai tiga orang ahli pegawai kerajaan (ex-officio), iaitu :

- I dilantik dan dipersetujui Kerajaan Negeri
- II dilantik dan dipersetujui Kerajaan Persekutuan
- III mengambil bahagian dalam prosiding Dewan Undangan Negeri kecuali di negeri-negeri beraja.
- IV di Sabah dan Sarawak, ketiga-tiga orang ahli pegawai kerajaan tidak berhak menghadiri persidangan Dewan Undangan Negeri

- A I dan II
- B III dan IV
- C I dan III
- D II dan IV

30. Pentadbiran negeri dibahagikan kepada beberapa peringkat. Yang manakah di antara berikut **benar** mengenai hierarki pentadbiran negeri Sarawak?

- I Daerah kecil
- II Daerah
- III Bahagian
- IV Kampung

- A III, II, I dan IV
- B III, IV, I dan II
- C IV, III, II dan I
- D II, I, III dan IV

✗ A

31. Pejabat Daerah dan Tanah Negeri bertanggungjawab untuk :

- I merancang pembangunan kampung
- II mengenal pasti dan melantik penghulu di setiap kampung
- III memastikan agensi negeri dan penghulu melaksanakan projek pembangunan.
- IV menyelaraskan dan melaksanakan projek-projek pembangunan di peringkat daerah

- A I dan II
- B I dan IV
- C II dan III
- D III dan IV

32. Jabatan-jabatan negeri yang berhubung dan bertanggungjawab kepada kedua-dua Kerajaan Negeri dan Kerajaan Persekutuan ialah;

- I Jabatan Pertanian
- II Jabatan Kerja Raya
- III Jabatan Kebudayaan dan Sukan
- IV Jabatan Pengairan dan Saliran

- A I dan II
- B I dan IV
- C II dan III
- D III dan IV

33. Antara yang berikut, yang manakah **benar** tentang Dewan Bandaraya?

- I Dewan Bandaraya ialah pusat pentadbiran dan perniagaan.
- II Dewan Bandaraya diluluskan oleh Majlis Negara bagi Kerajaan Tempatan
- III Tempoh perkhidmatan anggota Dewan Bandaraya ialah tiga tahun
- IV Penubuhan Dewan Bandaraya adalah melalui enakmen.

- A I dan II
- B I dan IV
- C II dan III
- D III dan IV

✗ A

34. Antara yang berikut, yang manakah **benar** tentang Majlis Tanah Negara?

- I mentadbirkan dan menyeragamkan undang-undang tentang dasar tanah di beberapa negeri
 II menyelaraskan dan menyeragamkan pengawalan dan penggunaan tanah
 III memperuntukkan tanah untuk kegunaan pembangunan
 IV memastikan dasar-dasar tanah dipatuhi oleh Kerajaan Persekutuan

- A I dan II C II dan III
 B I dan IV D III dan IV

- Membuat undang-undang kecil sesuatu kawasan
- Mengutip cukai pintu, bayaran perkhidmatan, mengeluarkan lesen kedai makanan, dan lesen penjaja
- Mengawal, mengurus dan menyewa pasar awam

35. Badan yang manakah menjalankan tugas di atas?

- A Majlis Mesyuarat Kerajaan C Kerajaan Negeri
 B Jabatan-jabatan negeri D Kerajaan Tempatan

36. Yang manakah di antara berikut berfungsi sebagai pemimpin di peringkat daerah dalam Adat Temenggung dan Adat Papatih?

- I Yamtuan III Datuk Bendahara
 II Undang IV Mandulika
- A I dan II C I dan III
 B II dan IV D III dan IV

Hakim boleh merujuk kepada prinsip undang-undang mahkamah dan keputusan mahkamah yang setaraf atau yang lebih tinggi daripadanya.

37. Pernyataan di atas merujuk kepada

- A Kebebasan kehakiman
 B Doktrin duluan kehakiman
 C Doktrin pengasingan kuasa
 D Perundangan subsidiari

38. Yang manakah antara yang berikut merupakan undang-undang bertulis di Malaysia ?
- I Undang-undang Statut
 - II Undang-undang Inggeris
 - III Keputusan Mahkamah
 - IV Perlembagaan Persekutuan
- A I dan II C II dan III
 B I dan IV D III dan IV
39. Pernyataan yang manakah tepat untuk menggambarkan sistem perundangan di Malaysia?
- I Persidangan Dewan Rakyat diadakan sebulan sekali
 - II Dewan Negara mempunyai kuasa menolak sesuatu usul yang dikemukakan
 - III Parlimen Malaysia adalah badan penggubal undang-undang tertinggi negara
 - IV Perbahasan merupakan elemen penting dalam proses meluluskan sesuatu usul
- A I dan II C II dan IV
 B I dan III D III dan IV
40. Yang manakah antara yang berikut dianggap sebagai faktor yang menghilangkan kelayakan seseorang yang terpilih sebagai calon sesuatu pilihan raya di Malaysia?
- I Calon telah diisytiharkan sebagai muflis
 - II Calon memiliki dua kerakyatan
 - III Calon gagal dalam rebutan jawatan Majlis Tertinggi dalam parti politiknya
 - IV Calon sedang dibicarakan di mahkamah atas tuduhan rasuah
- A I dan II C II dan III
 B I dan IV D III dan IV
41. Manakah antara berikut merupakan bidang kuasa Peguam Negara ?
- I Memberhentikan sesuatu perbicaraan dalam Mahkamah Awam
 - II Membantu merangka rang undang-undang Parlimen
 - III Mengambil sumpah,akuan dan ikrar seseorang tentang sesuatu kes
 - IV Menasihatkan peguam supaya tidak melanggar peraturan mahkamah
- A I dan II
 B II dan III
 C III dan IV
 D I dan IV

Kuasa : I mengenakan hukuman penjara tidak lebih 10 tahun
 II mengenakan denda kurang daripada RM 10 ribu
 III mengenakan sebatan sehingga 12 kali

42 Yang manakah antara mahkamah berikut mempunyai bidang kuasa di atas ?

- A Mahkamah Sesyen
- B Mahkamah Majistret
- C Mahkamah Tinggi
- D Mahkamah Tentera

X B

'Hanya membicarakan punca kes tetapi tidak menjatuhkan hukuman'

43. Pernyataan di atas merujuk kepada bidang kuasa :

- A Mahkamah Perusahaan
- B Mahkamah Koroner
- C Mahkamah Persekutuan
- D Mahkamah Bumiputera

'Keputusan mahkamah yang tersilap dan tidak boleh dijadikan duluan (precedent)'

44 Yang manakah antara istilah undang-undang berikut merujuk maksud pernyataan di atas ?

- A Injuksi
- B Prima facie
- C Per incuriam
- D Locus standi

X C

'Bidang bicara asalnya untuk memelihara taraf profesionalisme dan tata tertib dalam kalangan ahlinya'

45. Yang manakah antara institusi berikut mempunyai fungsi di atas ?

- I Majlis Raja-Raja
 - II Majlis Peguam
 - III Majlis Perubatan Malaysia
 - IV Majlis Angkatan Tentera
- A I dan II
 - B II dan III
 - C I dan IV
 - D III dan IV

Soalan 46 dan 47 berdasarkan Jadual 1 di bawah ini

KADAR PERTUKARAN WANG

Mata Wang	Jualan	Belian
Dolar Amerika Syarikat	2.7450	2.7190
Paun Sterling	5.1030	5.0390
Dollar Singapore	1.5675	1.5570

46. Encik George mempunyai wang Malaysia sebanyak RM25,600 dan telah menukarkannya kepada Dolar AS. Berapakah Dolar AS yang dia perolehi ?

- A 9415.23
- B 9653.91
- C 9794.23
- D 9326.04

47. George menukarkan Paun Sterling 400 dan Dollar Singapura 580 ke dalam Ringgit Malaysia untuk membeli sebuah jam tangan berharga RM2,000.00. Berapakah baki wang George dalam Ringgit Malaysia ?

A RM 950.35
 B) RM 918.66
 C RM 2918.66
 D RM 2950.35

Soalan-soalan 48 dan 49 berdasarkan petikan di bawah.

“P berkahwin Q, iaitu adik perempuan R. Kedua-dua Q dan R adalah cucu A dan B. Kedudukan A ialah adik lelaki bagi Z yang menjadi nenek kepada P.”

48. Kedudukan hubungan keluarga bagi P dan Q adalah

A sepupu
 B) dua pupu
 C tiga pupu
 D saudara jauh

49. A adalah kepada P dan Q

A cucu saudara
 B) datuk saudara
 C nenek saudara
 D anak saudara

Soalan-soalan 50 dan 51 berdasarkan petikan di bawah.

“ Ali membeli sebuah kereta pada tahun 1980 dengan harga RM15,000.00. Lima tahun kemudian nilai kereta itu telah jatuh sebanyak 20%. Akan tetapi Ali masih mampu menjualnya dengan mempeolehi keuntungan 10% daripada harga pasaran.”

50. Berapakah harga jualan kereta itu ?

A RM12,000.00
 B RM16,500.00
 C) RM13,500.00
 D RM13,200.00

51. Berapakah peratusan kerugian Ali pada waktu dia menjual keretanya

- A 12 %
- B 10 %
- C 11 %
- D 13 %

52. Encik A telah pergi ke Ipoh menziarahi emaknya. Semasa pergi ke Ipoh Encik A memandu pada kelajuan 80km/j. Semasa dalam perjalanan pulang pula dia telah memandu pada kelajuan 120km/j. Berapakah kelajuan purata untuk perjalanan ulang-alik itu ?

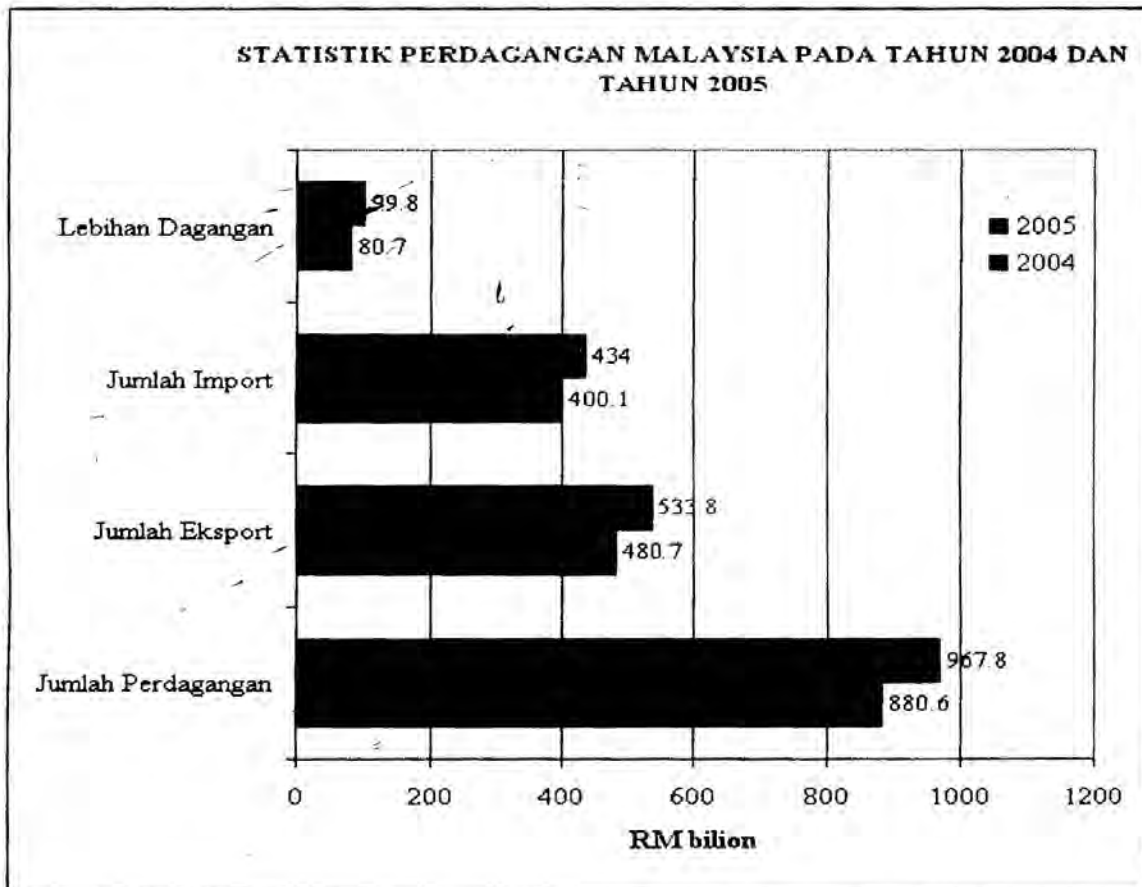
- A 80 km/j
- B 96 km/j
- C 100 km/j
- D 116 km/j

X B

53. Semasa dalam perjalanan ke sekolah, Samee telah mengetahui bahawa dia telah terlewat dan dia hanya berada pada separuh jarak ke sekolah. Dia telah berlari dengan kepantasan 3 kali ganda. Sekiranya dia mengambil 6 minit untuk berjalan separuh jalan yang pertama, berapakah masa diperlukan untuk Samee sampai ke sekolah ?

- A 7 minit
- B 7.3 minit
- C 7.7 minit
- D 8 minit

Soalan 54 berdasarkan graf di bawah;



54. Antara yang berikut yang manakah benar tentang carta di atas?
- I Jumlah perdagangan telah bertambah sebanyak 9.9% dalam tempoh dua tahun
 - II Imbangan perdagangan menyebelahi Malaysia
 - III Rakyat Malaysia tidak lagi membeli barang-barang dari negara lain
 - IV Nisbah jumlah eksport pada tahun 2004 berbanding dengan jumlah import pada tahun 2004 adalah 1: 1.5
- A I dan II
 - B I dan III
 - C II dan IV
 - D III dan IV
55. Sebuah mesin pembasuh pakaian berharga RM800.00 dijual pada harga ~~diskaun~~ sebanyak RM280.00. Berapakah diskaun yang diberikan?
- A 20%
 - B 40%
 - C 60%
 - D 65%

Soalan 56 berdasarkan jadual di bawah:

Akaun Kerajaan Persekutuan			
	2003	2004	2005
Pendapatan	92 608	99 397	99 102
Perbelanjaan Mengurus	75 224	91 298	89 141
Perbelanjaan Pembangunan	38 312	27 518	27 589
Imbangan Keseluruhan	-20 928	-19 419	-17 628

56. Antara yang berikut yang manakah benar tentang akaun Kerajaan Persekutuan?
- I Kerajaan Persekutuan terlalu boros dalam perbelanjaan
 - II Pendapatan Kerajaan Persekutuan memadai untuk perbelanjaan
 - III Kerajaan Persekutuan harus mengawal perbelanjaan
 - IV Perbelanjaan dan pendapatan sentiasa meningkat setiap tahun
- A I dan II
 - B I dan III
 - C II dan III
 - D III dan IV

57. Bandar A terletak di Garisan Bujur 75° T dan waktu tempatannya pukul 6.00 pagi. Berapakah waktu tempatan di Bandar B yang terletak di garisan bujur 75° B?
- A 8.00 pagi
 B 8.00 malam
 C 1.00 pagi
 D 1.00 tengah hari
58. Puan B telah mengubah suai rumahnya dan dia menukar antai rumahnya. Dia telah membeli pelbagai corak jubin untuk membezakan ruang-ruang rumah. Keluasan lantai ialah 1 200 meter persegi. Sekiranya harga jubin yang dibeli adalah RM4.50 sekeping untuk saiz 50cmx50cm dan upah pengubahsuaian lantai adalah RM1.30 semeter persegi, berapakah kos pengubahsuaian yang dibayar oleh Puan B?
- A RM6 960
 B RM 19 690
 C RM 21 600
 D RM 23 160

Soalan 59 berdasarkan jadual di bawah;

0-14	8 325.2	8 435.4	8 525.3
15-64	10 744.4	10 744.4	10 744.4
65 ke atas	1 032.2	1 074.4	1 119.4

59. Antara yang berikut yang manakah benar tentang penduduk di Malaysia antara tahun 2003 hingga 2005 ?
- I Semua kumpulan umur telah menunjukkan peratusan yang meningkat
 II Kadar pertumbuhan paling tinggi adalah dalam kumpulan 65 tahun ke atas
 III Kumpulan umur 15-64 tahun adalah melebihi 60% pada setiap tahun dalam tempoh tersebut
 IV Kadar pertumbuhan untuk kumpulan 14 tahun ke bawah purata adalah melebihi 2%
- A I dan II
 B II dan III
 C I dan IV
 D III dan IV

60 Sebuah kamera dijual dengan diskaun sebanyak 40% pada harga RM480.00
Berapakah harga asal kamera tersebut ?

- A RM288
- B RM380
- C RM768
- D RM800

SULIT

Bahagian A

Pilih satu daripada tajuk-tajuk di bawah ini, dan tulis karangan yang panjangnya antara 250 hingga 300 patah perkataan.

[25]

- 1 Kerajaan telah memberikan beberapa keistimewaan kepada Orang Kurang Upaya, namun pada masa yang sama, majikan masih tidak mahu mengambil mereka sebagai pekerja. Bincangkan.
- 2 Masalah jenayah seksual terhadap kanak-kanak sering menarik perhatian masyarakat. Penerapan budaya masyarakat penyayang oleh pihak-pihak tertentu telah dicemari oleh sikap sesetengah manusia yang tidak berperikemanusiaan. Jelaskan faktor-faktor yang menyebabkan perkara ini berleluasa dan implikasinya.

Bahagian B

Pilih satu daripada tajuk-tajuk di bawah ini, dan tulis karangan yang panjangnya antara 250 hingga 300 patah perkataan.

[25]

- 3 Mutakhir ini, hasil daripada penyelidikan dan pembangunan, penerokaan angkasalepas telah membawa kemajuan dalam pelbagai bidang. Bincangkan.
- 4 Senaman yang tidak terkawal boleh memberi impak negatif kepada kita. Namun, prosedur senaman yang betul perlu dipatuhi untuk mengelakkan kesan tersebut. Bincangkan

Bahagian C

Jawab **dua** soalan sahaja dalam bahagian ini: **satu** daripada soalan 5(a) **atau** 5(b) dan **satu** lagi daripada soalan 6(a) **atau** 6(b)

5 (a) “ Perkembangan teknologi internet dan dasar keterbukaannya secara tidak langsung telah memperluas dan memperkembang fungsi blog. Blog ialah singkatan daripada *blog web* – istilah yang pertama kali digunakan oleh Jorn Barger pada penghujung 1997. *Blog web* merujuk kepada sekelompok pemilik laman web peribadi yang sering mengemaskinikan catatan mereka secara berterusan untuk dikongsi dengan pelayar Internet.”

(Diubahsuaikan daripada ‘Ledakan Blog : Di Manakah Remaja ?,
Muhamad Irfan, Dewan Siswa, Julai 2008)

- (i) Apakah yang dimaksudkan dengan *blog web* ?
- (ii) Dengan menggunakan tidak lebih daripada 50 patah perkataan, jelaskan manfaat penggunaan blog dalam kalangan remaja hari ini ?

ATAU

(b) “ Kerajaan telah memutuskan untuk menghidupkan semula Rancangan Buku Hijau meningkatkan keluaran produk pertanian negara dengan mengupayakan semua aspek termasuk memaksimumkan penggunaan tanah-tanah terbiar di kawasan luar bandar mahupun di kawasan bandar. Keputusan tersebut diluluskan oleh Kabinet sebagai strategi baru untuk menambahkan bekalan makanan negara serta mengurangkan kebergantungan kepada import produk pertanian dari luar negara.....”

(Dipetik dan diubahsuaikan daripada akhbar,
Utusan Malaysia, 12 Julai 2006)

- (i) Apakah tujuan menghidupkan semula Rancangan Buku Hijau ?
- (ii) Dengan menggunakan tidak lebih daripada 50 patah perkataan, jelaskan faedah yang diperolehi daripada pelaksanaan Rancangan Buku Hijau di negara kita ?

6 (a) “ Usaha-usaha untuk mengitar semula bahan buangan secara besar-besaran dapat mengurangkan sejumlah sampah di persekitaran kita dengan amalan pengurangan, guna semula, dan kitar semula. Meskipun kesungguhan pihak berkuasa sememangnya banyak membantu melancarkan proses ini, namun dari segi teknikal, aktiviti ini merupakan proses yang mudah, malah menguntungkan semua pihak....”

(Dipetik diubahsuaikan daripada Abdul Ghalib b. Yunus,
‘Program Kitar Semula’, Utusan Malaysia, Februari 2006)

- (i) Apakah tujuan mengitar semula bahan buangan?
- (ii) Dengan menggunakan tidak lebih daripada 50 patah perkataan, nyatakan kebaikan daripada program kitar semula bahan buangan?

ATAU

(b) “ Chikungunya berasal daripada perkataan *kungunyala* iaitu kata dasar Makonde yang bermaksud ‘sesuatu yang melengkung ke atas’ dan ini merujuk kepada postur badan membengkok yang diakibatkan oleh gejala-gejala arthritis (radang pada sendi). Hal ini terjadi kerana sewaktu virus berkembang biak di dalam darah, pesakit akan berasa sakit terutama di sekitar sendi sehingga tidak boleh menggerakkan anggota tubuh. Pun begitu, itu tidak bermakna boleh menyebabkan kelumpuhan.”

(Diubahsuaikan daripada ‘Awasi Demam Chikungunya’,
Zalmimazura Zahari, Majalah I, Januari 2009)

- (i) Apakah antara tanda penyakit Chikungunya ?
- (ii) Dengan menggunakan tidak lebih daripada 50 patah perkataan, nyatakan langkah yang boleh dilakukan oleh ahli masyarakat untuk membendung penularan penyakit Chikungunya ?

Bahagian D

Jawab satu soalan sahaja dalam bahagian ini. Jawapan hendaklah dibuat pada kertas graf.

[15 markah]

7 Dengan menggunakan maklumat yang diberi dalam petikan di bawah, sediakan satu graf garis yang sesuai untuk menunjukkan jumlah pendapatan eksport komoditi utama Malaysia bagi tahun-tahun yang dinyatakan

Eksport komoditi memainkan peranan yang penting dalam pendapatan eksport negara. Walaupun saiz pendapatan eksport komoditi jauh lebih kecil berbanding dengan eksport barangan pembuatan, namun sumbangan pendapatan eksport komoditi turut membantu meningkatkan pendapatan ekonomi negara. Dalam tahun 2002, pendapatan eksport komoditi utama berjumlah RM41 075 juta, dan jumlah ini didapati meningkat sebanyak RM44 470 juta pada tahun 2006.

Antara komoditi penting dalam eksport Malaysia, ialah petroleum mentah. Pada tahun 2002, pendapatan eksport petroleum mentah berjumlah RM11 600juta, dan mencatatkan peningkatan sebanyak 35% menjadi RM15 659juta pada tahun 2003. Pada tahun 2004 dan 2005, amaun pendapatan eksport petroleum mentah terus bertambah masing-masing kepada RM21 762juta dan RM28 188juta. Pada tahun 2006 pula, pendapatan komoditi ini menunjukkan peningkatan yang besar sebanyak RM5671juta, berikutan peningkatan harga petroleum mentah di pasaran dunia.

Eksport minyak sawit pula, menyumbang sebanyak RM14 838 juta pada tahun 2002, dan terdapat pertambahan sebanyak RM5573juta pada tahun berikutnya. Pendapatan minyak kelapa sawit ini terus bertambah masing-masing kepada RM20 047juta dan RM20 550juta pada tahun 2004 dan 2005, manakala pada tahun 2006, pendapatan eksport komoditi ini meningkat sebanyak 10.5%. Dalam pada itu, pendapatan eksport getah adalah berjumlah RM2492juta pada tahun 2002. Pendapatan komoditi ini meningkat kepada RM5197juta pada tahun 2004 berbanding dengan RM3582juta pada tahun 2003. Pada tahun 2005, eksport getah mencatatkan pendapatan yang merosot sebanyak 3.8% berbanding dengan tahun 2004. Namun, pada tahun 2006 pendapatan eksport getah meningkat semula ekoran daripada peningkatan harga getah di pasaran kepada RM5161juta.

Pendapatan eksport kayu balak dan timah mencatatkan pendapatan yang lebih kecil. Pada tahun 2002, eksport kayu balak menyumbang RM1832juta dan bijih timah pula menyumbang sebanyak RM425juta daripada sejumlah RM41 075juta. Pada tahun 2003, pendapatan eksport kayu balak meningkat sebanyak 10.3% kepada RM2021juta, tetapi pendapatan ini didapati meningkat dengan kadar yang perlahan pada tahun 2004 dan 2005 dengan pendapatan masing-masing berjumlah RM2070juta dan RM2270juta. Pendapatan komoditi ini terus bertambah sebanyak RM42juta pada tahun 2006. Pendapatan eksport komoditi bijih timah pula menunjukkan perubahan yang tidak stabil dari tahun 2003 hingga 2006. Pada tahun 2003, pendapatan eksport timah berkurang sebanyak RM39juta berbanding tahun 2002. Pada tahun 2004, pendapatan eksport timah meningkat sebanyak 98.2% kepada RM765juta, dan didapati menurun semula sebanyak RM15juta pada tahun 2005, sebelum pendapatan ini meningkat semula kepada RM763juta pada tahun 2006.

Seterusnya, pendapatan eksport gas asli cecair telah menjadi komponen yang semakin penting kini. Pada tahun 2002 komoditi ini menyumbang sebanyak RM9888juta, dan terus meningkat kepada RM13 358juta pada tahun berikutnya. Pada tahun 2004 jumlah pendapatan eksport gas asli cecair terus meningkat sebanyak RM3721juta berbanding dengan tahun 2003. Pada tahun 2005 jumlah pendapatan eksport gas asli cecair meningkat sebanyak RM1596juta, berbanding dengan tahun 2004 dan jumlah pendapatan eksport komoditi ini didapati terus meningkat kepada RM20 742juta pada tahun 2006.

(Dipetik dan diubahsuaikan daripada , *Laporan Ekonomi* 2006/2007)

8. Berdasarkan petikan di bawah, sediakan carta yang sesuai untuk menunjukkan bilangan ahli profesional yang berdaftar mengikut jantina pada tahun yang dinyatakan.

Selari dengan Dasar Wawasan Negara bagi meningkatkan bilangan guna tenaga profesional bagi memacu pembangunan ekonomi negara ke arah negara maju, penyertaan corak tenaga kerja mengikut jantina menunjukkan perkembangan yang positif. Walaupun jumlah tenaga kerja daripada kaum perempuan dalam pelbagai bidang profesional lebih rendah daripada kaum lelaki, tetapi bilangannya pada tahun 2005 telah menunjukkan peningkatan sebanyak 39.27% berbanding dengan tahun 2004. Peningkatan dalam tenaga buruh perempuan akan menambah penawaran tenaga buruh tempatan dan hal ini akan mengurangkan keperluan terhadap pekerja dan profesional asing. Jumlah ahli profesional perempuan pada tahun 2005 seramai 27 874 orang iaitu kurang sebanyak 49 142 orang berbanding dengan ahli profesional lelaki.

Pada tahun 2005, kaum perempuan banyak menceburi dalam bidang Akauntan iaitu seramai 9144 orang. Walau bagaimanapun jumlah ini lebih kecil berbanding dengan lelaki seramai 12 145 orang. Peningkatan proses pengeluaran yang semakin canggih hasil daripada kemajuan teknologi telah mewujudkan permintaan terhadap jurutera yang terlatih dalam bidang kejuruteraan kimia, mekanikal, elektrik dan elektronik. Kaum lelaki telah memonopoli bidang kejuruteraan. Daripada sejumlah 49 201 orang jurutera yang berdaftar di Malaysia pada tahun 2005, seramai 44 079 orang adalah kaum lelaki.

Memandangkan semakin ramai kaum perempuan mendapat pendidikan tinggi, jumlah penyertaan tenaga buruh perempuan dalam bidang Doktor Gigi bertambah daripada 1409 orang pada tahun 2004 kepada 1463 orang pada tahun 2005 iaitu melebihi lelaki sebanyak 325 orang. Bidang-bidang profesional yang lain masih dikuasai oleh kaum lelaki. Jumlah Arkitek lelaki yang berdaftar seramai 2426 orang iaitu melebihi sebanyak 1866 orang berbanding dengan kaum perempuan.

Walaupun mengikut kumpulan jantina masing-masing peratus kaum perempuan yang menceburi Doktor Veterinar lebih tinggi daripada lelaki, iaitu kaum perempuan sebanyak 20.80% dan lelaki 12.69%, tetapi dari segi bilangannya kaum lelaki lebih ramai iaitu 935 orang manakala perempuan pula seramai 464 orang.

Bagi memenuhi keperluan perkhidmatan kesihatan yang lebih baik, maka bilangan Doktor Perubatan semakin bertambah. Walau bagaimanapun bilangan Doktor Perubatan lelaki lebih ramai daripada perempuan iaitu bilangan lelaki seramai 9775 orang, manakala perempuan pula kurang sebanyak 3976 orang berbanding dengan lelaki. Begitu juga dalam bidang profesion guaman, bilangan lelaki lebih ramai iaitu 55.05% daripada jumlah keseluruhan Peguam yang berdaftar seramai 11 840 orang.

Walaupun penyertaan guna tenaga dalam bidang profesional antara lelaki dan perempuan tidak seimbang, namun penyertaan kaum wanita dalam bidang profesional semakin bertambah berbanding dengan tahun-tahun sebelumnya.

(Dipetik dan diubahsuai daripada <http://www.kpwkm.gov.my>)

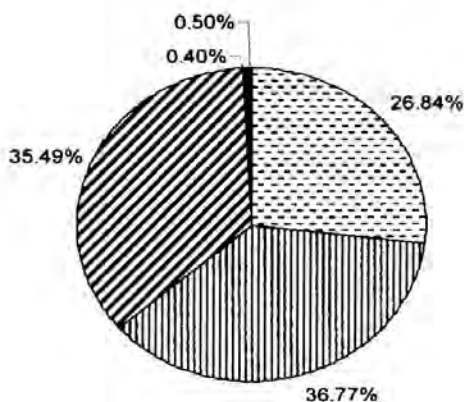
Bahagian E

Jawab satu soalan sahaja dalam bahagian ini.

9. Berdasarkan maklumat daripada carta di bawah ini, huraikan pola perubahan bilangan kes bantuan bencana pada tahun 2002 dan 2003 dan jelaskan mengapa keadaan demikian berlaku.

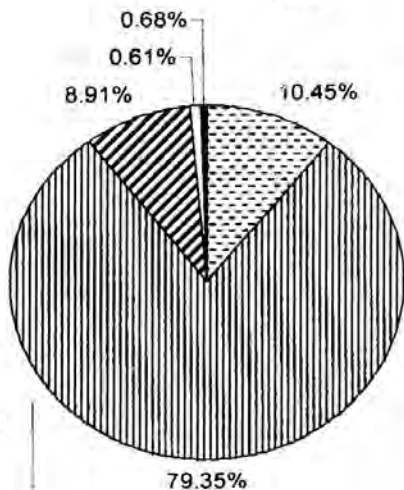
Bilangan Kes Bantuan Bencana Pada Tahun 2002 dan 2003

2002



JUMLAH = 11 776 ORANG

2003



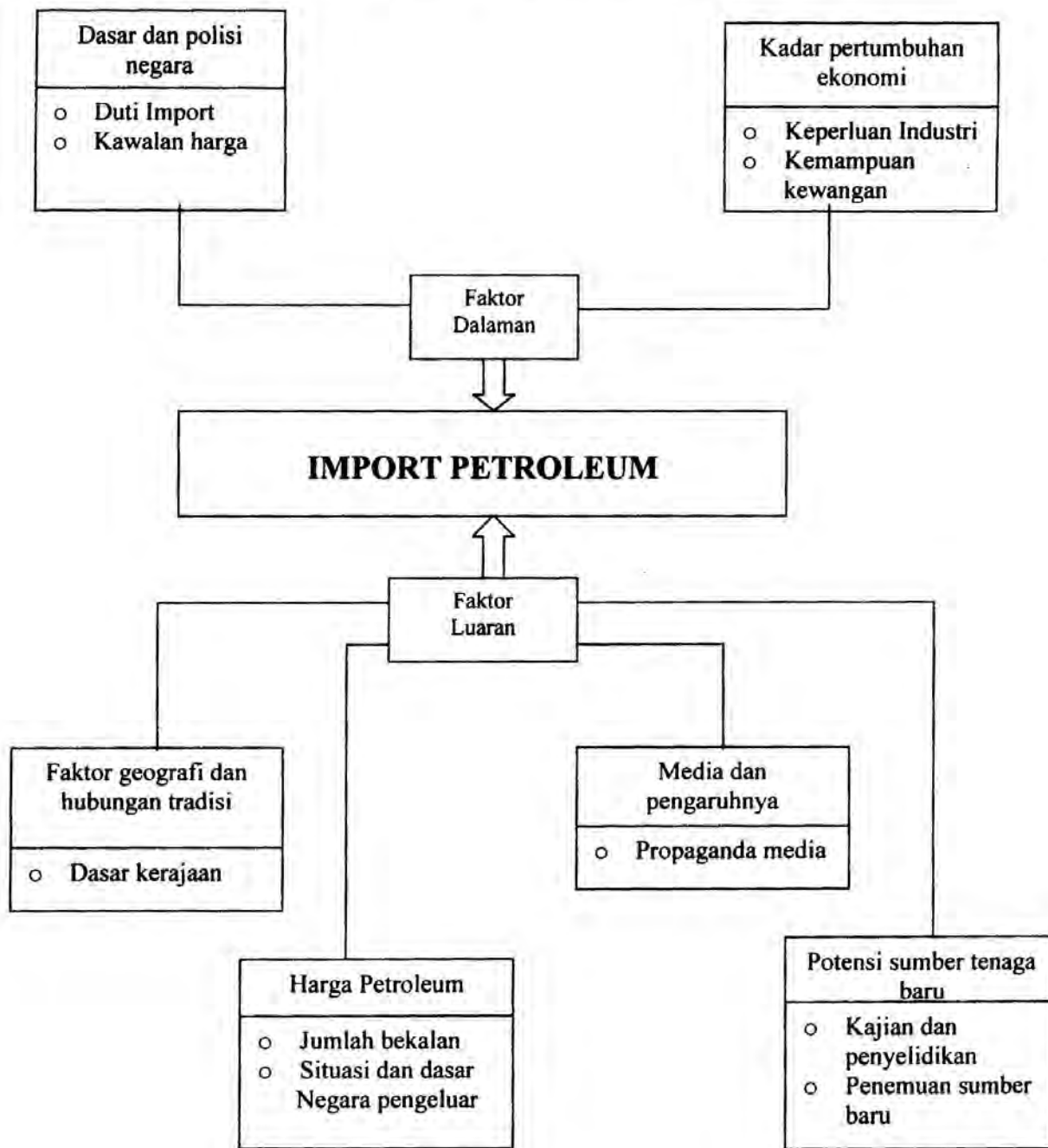
- ☐ Kebakaran
- ▨ Banjir
- ▩ Ribut
- Kemarau
- Tanah Runtuh

JUMLAH = 30 065 ORANG

(Sumber : Dipetik dan diubahsuaikan daripada Jabatan Kebajikan Masyarakat, Malaysia)

10 Berdasarkan kepada rajah berikut, jelaskan faktor-faktor yang mempengaruhi sesebuah negara pengimport petroleum

Faktor-faktor yang mempengaruhi Import Petroleum di Sesebuah Negara



(Sumber: Dipetik dan diubahsuaikan daripada, *Dewan Ekonomi*, 2006)

① A Keistimewaan

- i) Kemudahan awam khas utk OKU
- ii) pengavalian cukai / potongan cukai \Rightarrow bagi ibu bapa yg anaknya OKU
- iii) latihan² khas
- iv) sek pendidikan khas \Rightarrow menyediakan guru² berpengalaman & terlatih
- v) elaan khas \Rightarrow " alat² pembelajaran yg sesuai
- vi) kerajaan melantik senator² yg mewakili OKU
- vii) menambahkan penubuhan persatuan² utk memperjuangkan hak
- viii) menerbitkan buletin² ttg OKU - kejayaan
- ix) kerajaan memujudkan / menggubal akta / undang² OKU
- x) kerajaan menyeru pihak swasta / awam utk mengambil OKU sbg pekerja \Rightarrow 'org buta hati, tetapi cek hatinya'
- xi) pemberian pengiktirafan OKU dlm pelbg bidang

② Purca

Majikan

- i) x yakin - x dpt melaksanakan tugas dgn baik
 - pergerakan satar
 - x memiliki kemampuan & kemahiran
- ii) syarikat terpalas² membelanjakan wang yg besar utk melengkapkan prasarana - beban kpd syarikat² yg kecil

OKU sendiri

- i) kurang kemahiran - ibu bapa x menghantar anaknya yg OKU ke sekolah khas utk latihan semasa kecil \Rightarrow berdikari
- ii) kurang produktif dlm syarikat
- iii) konsep sendiri rendah
- iv) x ada inisiatif utk membangunkan diri sendiri

② ① Faktor

- 1) Kurang pendidikan & penghayatan agama - x diterapkan ke dlm jiwa
 - ibu bapa sibuk - x membimbing mereka ke jln yg betul
 - hak kalnya, mereka melakukan keganasan
- 2i) media massa - pelbg bentuk - hiburan dlm media - bhn² erotik
 bijisan - foto² pornografi - tv, internet, VCD, DVD
 - menampilkan byk adegan yg byk mempengaruhi nilai² dlm masy tempatan
 - teknologi maklumat menyebabkan mereka mengakses laman web berkenaan
 - mendorong mereka melakukan aktiviti seksual
- ii) bhn² mudah dpt & murah - memudahkan pelajar² utk membelinya
 - keadaan yg x sihat - memudahkan pendedah - mengimajinasinya⁹
& mencubanya
- 3) faktor individu - umur (lahir sehingga 12 thn) - bukan shj kabit² perempuan tetapi juga ~~x sihat~~ melibatkan kanak² lelaki - mangsa ibu bapa uai terhdg keselamatan diri - berjln berseorangan di tempat sunyi - menumpang kereta org yg baru dikenali
- 4) faktor masy - masy individualistik - x ambil kisah / x ambil tahu - masy x peka terhdg jenayah seksual - masy moden melakukan amalan hidup barat - kurang bekerjasama membanteras jenayah seksual - x melapor kpdt pihak berkuasa - JKKK (Jawatankuasa keselamatan & keaja/komuniti lestari) - x ambil berat
- 5) faktor persekitaran - senak saman - gelap, sunyi, terencil - tempat bangunan yg terbiar - terlindung drp awam - byk ruang utk gejala jenayah - tiada sistem pemantauan CCTV - tiada kualiti - keselamatan x terjaga
- 6) kelemahan undang² - kurang pemantauan & siasatan - penyelewengan & pemalsuan bukti - tiada pendakwaan yg lengkap
- 7) tiada penddkan seksual - x jelas terhdg isy - masih kurang pengetahuan yg mantap - x memahami hukum agama - x tahu ttg terhdg kesan jenayah seksual terhdg perjenayah sendiri - mengikat nafsu - menghdg, pelbg penyakit spt AIDS, sifilis, gonorea



B Kesan

- 1) Tekanan mental - tekanan hidup - ketakutan - hilang keyakinan diri - trauma - suka mengasingkan sendiri - masa depan yg gelap
- 2) keutuhan institusi keluarga - akan lahir anak luar nikah - x dpt mengenali ibu bapa yg sah - keluarga berasa malu - pergaduhan - masy akan memulau keluarga tersebut
- 3) beban lpd ng - kerajaan terpaksa menjaga kebajikan mangsa & anaknya - penubuhan agensi² khas utk membimbing mereka keluar drp trauma - terpaksa menyediakan khidmat ~~konsulti~~ kaunsel
- 4) kecederaan fizikal - hilang dara / keperuwahan - kesan yg amat serius - mengalami maut
- 5) Kes pembuangan / pengguguran bayi - mangsa x mahu menerima kenyataan bay & realiti sbg mangsa melalui perkahwinan sah - x mahu menanggung malu - x mahu menanggung beban.

③

- 1) bidang telekomunikasi & perhubungan
sahaja komunikasi memudahkan penyebaran maklumat ke seluruh dunia dgn cepat - siaran langsung - pusat perdagangan, aktiviti komersial, perniagaan tetap tanpa sempadan, merapatkan hub. manusia
- 2) bidang kaji cuaca - sahaja "remote sensing"
- membolehkan pengkaji cuaca meramalkan cuaca di bumi - mengurangkan berlakunya malapetaka - membolehkan manusia lebih bersedia menghadapi cabaran a.s
- 3) bidang pembuatan - pengkristalan protein
- membolehkan & mencipta alatan baru - pakuhan, makanan - di angkasa lepas - ujian² pembuatan yg dijlhkan boleh menghasilkan pelbgb pengetahuan - pembuatan baru - kajian mikrobiologi, kajian sel kanser, kajian proses pengkristalan protein di angkasa lepas
- 4) kajian geologi / bumi
- penerokaan sumber galon / tenaga bumi - memudahkan & mencari sumber galian bag. menampung permintaan yg makin ↑
- 5) bidang astronomi
- bidang astronomi & astrofiziks - keajaiban alam semesta &



maklumat lima sakti (meteor) - bintang & planet - merasai pengalaman pergerakan - stesen Angkasa Antariksa (ISS) - mengeliling bumi pd ketinggian 360 km sebyk 15 kali

b) bidang perindustrian

- industri aeroangkasa - penerbangan, komponen pesawat, satelit
- meningkatkan penghasilan kristal di bumi - sekali gas meningkatkan penggunaannya dlm bidang perindustrian pd masa yg lain

④ A i) menyebabkan kecederaan - otot mpy daya tahan yg tertentu dlm menanggung bhn - aktiviti x memanas bdn - otot cedera - secara x langsung, tendon & ligamen diganggu -

ii) keletihan melampau - aktiviti yg melampau menyebabkan proses perpelukan & penyingkiran bahan² - buangan lain berlaku dgn cepat dlm jumlah yg byk - menyebabkan bdn kehilangan air yg dlm bdn byk - dehidrasi - kegagalan menggantikan kehilangan air dlm bdn

iii) kecacatan & kemandiran - aktiviti senaman meningkatkan kadar metabolisme dlm bdn (keupayaan bdn utk memproses & menubuh makanan / kadaran pentubuhan bdn) - menyebabkan kadar denyutan jantung lebih cepat drp biasa - akibatnya boleh menyebabkan vena mengembang secara melampau / pecah - otot & sendi yg koyak akan mencacutkan bdn individu - lutut

b

Bi) Teknik senaman yg betul - mulakan proses regangan - diakhiri proses regangan juga - lakukan sedehana - meningkatkan kemampuan

ii) mendapat nasihat doktor / pakar - gol yg menghadapi penyakit kronik spt masalah jantung, diabetes - perlu mendapat nasihat utk melakukan aktiviti yg sesuai - hal ini bagi memastikan tekanan sistolik sentiasa berada pd paras antara 40 - 90 mmHg - bagi mengelakkan kematian mengejut akibat kegagalan sistem tubuh

iii) senaman berkala / mengikut jadual - sekurang² nya 3 kali seminggu - 20 min - 30 min satu sesi

5a) - sekelompok pemilik laman web pribadi yg kerap mengemaslknka catatan mereka secara berkala utk dikongsi dg pelayar internet

ii)

i) utk gol" muda utk mengeluarkan pendapat, isi hati?

- bebas mengeluarkan pandangan terhadap sesuatu isu

② mengasah minat menjadi penulis terkemuka

③ ruang mengiklan produk masing²

- perniagaan melalui internet

④ memanfaatkan pengguna blog utk memupuk cara berfikir @ve

- memupuk cara berfikir @ve

- di pelbg perspektif, sikap tersebut

⑤ guna cara mudah utk mengenal pribadi pemilik

* menulis dtg sesuatu isu - minat dlm bidang politik, isu semasa, a.s & dunia hiburan.

b) menambahkan bekalan makanan ng, ↓ kebergantungan kpd import produk pertanian dr luar ng

ii) ① memaxkan penggunaan tanah secara menyeluruh & optimum

② mewujudkan industri hiliran (industri serongan - kilang buat tayar

③ menambahkan pendapatan penduduk luar bandar / mencampur p-p

④ mewujudkan usahawan muda

⑤ meningkatkan ~~se~~ kualiti pengeluaran makanan

⑥ mewujudkan sumber pertumbuhan baru utk pertanian sp.t akuakultur, & hydroponik

⑦ meningkan hasil pertanian, ↑ sumber bli makanan, ↓ import makanan

6ai) - ↓ se'jumlah sampah di perkelitaraan kita.

- ii) ① ↓ pencemaran - air, udara
 ② pengumpulan bhn kita semula sbg unsur niaga
 ③ menyelamatkan sumber asli - bhn galian, pokok
 ④ mengulatkan pembaziran \$
 ⑤ menjimatkan tenaga
 ⑥ mengurangkan tapak pembuangan sampah
 ⑦ ↑ peluang pekerjaan

6bi) pesakit berasa sakit khususnya di sekitar sendi sehingga
 x boleh menggerakkan anggota tubuh

- ii) ① kebersihan persekitaran
 ② pemeriksaan berkala / berjadual
 ③ kempen kesedaran
 ④ memusnahkan kaw pembiakan vektor
 ⑤ suntikan imunisasi / vaksin

9) abc abc