

SULIT*

2

1 Antara berikut yang manakah merupakan asas kepada penentuan Dasar Luar Malaysia?

- I Wawasan kepimpinan Negara
 - II Agama sesebuah Negara
 - III Piagam Pertubuhan Bangsa-Bangsa Bersatu
 - IV Ideologi politik sesebuah negara
- A I dan II
B I dan III
C II dan IV
D I dan IV

Soal

Pernyataan di atas merujuk kepada

- A Dasar Pembangunan Nasional
- B Dasar Wawasan
- C Dasar Ekonomi Baru
- D Dasar Pertanian Negara Kedua

3 Antara berikut yang manakah merupakan pencapaian Malaysia melalui pelaksanaan Dasar Perindustrian Berat?

- I Perindustrian Otomobil Nasional
 - II Kilang Besi Waja
 - III Perkapalan Antarabangsa Malaysia
 - IV Perbadanan Pembangunan Bandar
- A I dan II
B I dan III
C II dan IV
D III dan IV

900/1

*Kertas soalan ini sulit sehingga peperiksaan kertas ini tamat

[Lihat sebelah
SULIT*

SHUT*

3

- 4 Semua pernyataan di bawah berkaitan dengan Dasar Pertanian Ketiga (1998 - 2010) kecuali
- A Mewujudkan pertalian antara Sektor Pertanian dengan Sektor Industri
 - B Memaksimumkan pendapatan petani dengan penggunaan sumber-sumber secara cekap
 - C Penggunaan sumber dengan optimum dan cekap
 - D Meningkatkan sekuriti makanan
- 5 Antara yang berikut yang manakah merupakan inatlamat Dasar Sogoshosha?
- A Menggalakkan penggunaan teknologi baru dalam pengurusan untuk meningkatkan hasil negara
 - B Mengembangkan peluang antarabangsa dari segi menggalakkan pelaburan secara usahasama dalam sektor industri di Malaysia
 - C Merangka keperluan teknologi sektor dengan melengkapkan program yang menyeluruh
 - D Mewujudkan peluang untuk pekerja dilatih dalam bidang kejuruteraan dan kemahiran
- 6 Antara berikut yang manakah bukan keperluan Pelan Integriti Nasional?
- A Sikap tidak bertanggungjawab dan kurang kepekaan sivik
 - B Layanan khidmat kaunter yang kurang mesra peianggan
 - C Amalan melompat *queue*
 - D Kurang penghayatan ciri-ciri kepimpinan yang berkesan
- 7 Mengapakah Dasar Penerapan Nilai-Nilai Islam dalam pentadbiran negara dilaksanakan?
- I Nilai-nilai Islam bersifat universal dan boleh diterima oleh semua bangsa
 - II Agama Islam merupakan agama rasmi Negara
 - III Penerapan nilai-nilai Islam merupakan faktor kepada pembentukan perpaduan negara
 - IV Masyarakat majmuk Malaysia patut mempunyai satu identiti yang boleh dibanggakan dan nilai-nilai Islam sesuai digunakan
- A I dan II
 - B I dan IV
 - C II dan III
 - D III dan IV

8

i.

ju

Pernyataan di atas adalah berkaitan dengan

- A Pembaharuan Pentadbiran A warn
- B** Dasar Persyarikatan
- C Dasar Pandang Ke Timur
- D** Dasar Integriti

9 Antara yang berikut yang manakah telah dilaksanakan melalui Laporan Jawatankuasa Kabii Mengkaji Dasar Pelajaran 1979?

- I Kurikulum Bara Sekolah Rendah (KBSR) dilaksanakan
 - II Mata Pelajaran Kemahiran Hidup diperkenalkan
 - III Penekanan terhadap Pendidikan Moral
 - IV Penekanan terhadap Pendidikan Vokasional
- A I dan H
 - B** I dan III
 - C II dan IV
 - D III dan IV

10 Antara yang berikut yang manakah merupakan ketetapan yang telah dicapai dalam Sida Kemuncak ASEAN, 2004 di Laos?

- I Mewujudkan komuniti ASEAN
 - II Menyelesaikan isu Kemboja melalui Persidangan ASEAN
 - III Mencapai Wawasan ASEAN 2020
 - IV Menentukan isu pendatang asing sebagai masalah sejagat
- A I dan II
 - B** I dan HI
 - C II dan IV
 - D** III dan IV

900/1

*Kertas soalan ini sulit sehingga peperiksaan kertas ini tamat

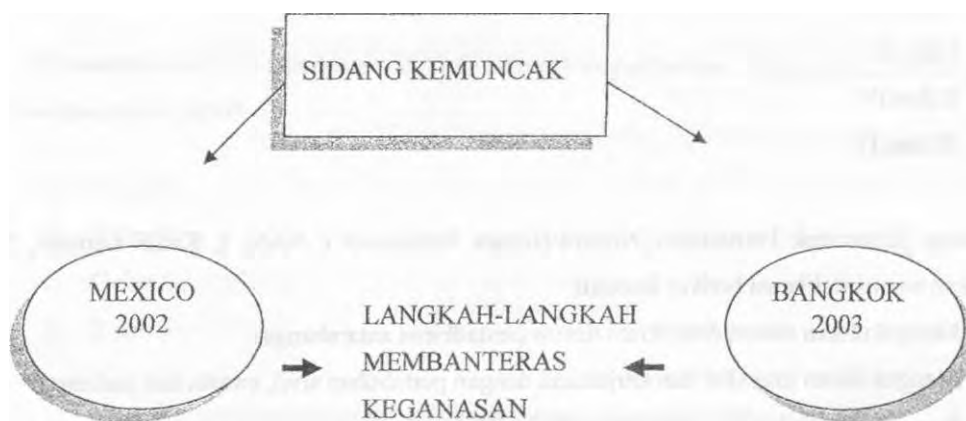
[Lihat sebela
SULIT

SULIT*

5

- 11 Semua pernyataan berikut berkaitan dengan Konsep SEANWFZ kecuali
- A Rantau Asia Tenggara bebas daripada campurtangan politik kuasa-kuasa besar
 - B Mengelakkan perlumbaan senjata nuklear
 - C Memastikan perairan Asia Tenggara sentiasa selamat
 - D Menyelesaikan pertikaian di Asia Tenggara secara rundingan

Soalan 12 berdasarkan rajah di bawah.



- 12 Gambar rajah di atas merujuk kepada
- A APEC
 - B OIC
 - C PBB
 - D EAEC

900/i

[Lihat sebelah
SULIT*

•Kettas soalan ini sulit sebingga peperiksaan keitas ini tamat

SULIT*

6

3 Antara yang berikut yang manakah berkaitan dengan tuntutan Negara-Negara Selatan melalui Order Baru Ekonomi Dunia (NBEOD)?

- I Pemindahan teknologi dari Utara ke Selatan
- II Penentuan semula Syarat-Syarat Perdagangan
- III Pelupusan hutang Negara-Negara Selatan
- IV Penentuan harga bahan mentah oleh Negara-Negara Dunia Ke-3

- A I dan II
- B I dan III
- C II dan IV
- D III dan IV

4 Sidang Kemuncak Pertubuhan Negara-Negara Berkecuali (NAM), Kuala Lumpur, 2003 menggariskan semua deklarasi berikut kecuali

- A Mengukuhkan sistem demokrasi dalam pentadbiran antarabangsa
- B Mengukuhkan interaksi dan kerjasama dengan pertubuhan sivil, swasta dan parlimen
- C Bersama menyelesaikan masalah pelarian Vietnam
- D Meningkatkan kerjasama Selatan-Selatan

5 Antara yang berikut yang manakah merupakan matlamat Suruhanjaya Selatan-Selatan.

- I Membantu negara-negara anggota mengatasi masalah beban hutang
- II Perluasan pasaran Negara-Negara Maju bagi eksport Negara Dunia Ke-3
- III Membentuk kerjasama ekonomi dan teknikal yang lebih berkesan sesama anggota
- IV Memperjuangkan sistem perdagangan bebas dan terbuka

- A I dan II
- B I dan III
- C I dan IV
- D III dan IV

)0/1

[Lihat sebelah
SULIT*

Certas soalan ini sulit sehingga peperiksaan kertas ini tamat

SULIT*

7

Soalan 16 berdasarkan jadual di bawah.

P	Timor-Timur
Q	Iran - Iraq
R	Lubnan
S	Kemboja

16 Berdasarkan rajah di atas yang manakah merupakan penyertaan Malaysia di bawah panji-panji PBB selepas tahun 2000?

- A P dan Q
- B P dan R
- C Q dan S
- D R dan S

17

- Mengadakan sesi dialog dalam kalangan anggota berkaitan isu semasa
- Mengajukan kejohanan sukan untuk mengeratkan hubungan dalam kalangan anggota

Pernyataan di atas adalah usaha yang dilaksanakan oleh Malaysia melalui keanggotaan dalam

- A EAEC
- B Komanwel
- C NAM
- D Suruhanjaya Selatan-selatan

- 18 Sidang Kemuncak OIC Ke-10 di Putrajaya, 2003 telah mempersetujui
- I Mengadakan dialog dengan budaya dan tamadun lain
 - H Menimbangkan cadangan msngenai Aturan Pembayaran Perdagangan berasaskan emas
 - III Meningkatkan penyertaan dalam pembuatan keputusan di peringkat antarabangsa
 - rVr Menghormati kedaulatan dan keutuhan wilayah semua negara
- A Idanll
 B I dan III
 C n dan IV
 D III dan IV
- 19 Semua kenyataan berikut merupakan matlamat Pertubuhan Bangsa-Bangsa Bersatn kecuali
- A Mewujudkan hubungan yang baik dalam kalangan negara yang roerdeka
 - B Menjamin keamanan dan keselamatan antarabangsa
 - C Menyelesaikan perselisihan dan penindasan
 - D Melancarkan tindakan ketenteraan ke atas negara yang memusuhi kuasa-kuasa besar

- 20 Padankan maklumat ciri-ciri pengasingan kuasa dan bentuk pembahagian kuasa

	<i>Pengasingan Kuasa</i>			<i>Pembahagian Kuasa</i>		
A	Pusat	Perundangan	Kehakiman	Negeri	Tempatan	Eksekutif
B	Kehakiman	Perundangan	Eksekutif	Pusat	Tempatan	Negeri
C	Pusat	Eksekutif	Perundangan	Kehakiman	Tempatan	Negeri.
D	Negeri	Pusat	Tempatan	Perundangan	Kehakiman	Eksekutif

- 21 Antara yang berikut yang manakah Suruhanjaya Perkhidmatan?
- I Suruhanjaya Pilihanraya
 - II Majlis Angkatan Tentera
 - III Suruhanjaya Perkhidmatan Awam
 - IV Suruhanj aya Hak Asasi Manusia
- A Idanll
 B I dan TV
 C II dan III
 D III dan IV

900/1

*Kertas soalan iui sulit sehingga peperiksaan kertas iai tamat

[Lihat sebelah
SULIT*

SULIT*

9

22 Antara yang berikut, yang manakah Yang di-Pertuan Agong bertindak mengikut nasihat dalam pentadbiran negara?

- I Melantik Perdana Menteri
- II Mengisytiharkan darurat
- III Memanggil mesyuarat Majlis Raja-Raja
- IV Melantik anggota Jemaah Menteri

- A I dan II
- B I dan III
- C II dan IV
- D III dan IV

23 Antara yang berikut, yang manakah benar tentang Ketua Setiausaha Negara?

- I Pengerusi Jawatankuasa Perancangan Pembangunan Negara
- II Merupakan seorang kakitangan pwam Persekutuan
- III Penasihat ekonomi kepada Kabinet
- IV Pengerusi Mesyuarat Kabinet

- A I dan II
- B I dan III
- C II dan IV
- D III dan IV

24 Antara yang berikut, jabatan manakah terletak di bawah bidang kuasa Kementerian Hal Ehwal Dalam Negeri?

- I Jabatan Pendaftaran Negara
- II Jabatan Penjara
- III Jabatan Imigresen
- IV Jabatan Kerja Raya

- A I dan II
- B I dan III**
- C II dan IV
- D III dan IV

900/1

[Lihat sebelah
SULIT*

*Kertas soalan ini sulit sehingga peperiksaan kertas ini tamat

SULIT*

10

- 25 Antara yang berikut, yang manakah benar tentang Majlis Mesyuarat Kerajaan Negeri?
- I Pembentuk dasar negeri
 - II Ahli majlis boleh menjalankan profesion asal
 - III Selain ahli Dewan Undangan Negeri, majlis juga dianggotai oleh kakitangan awam
 - IV Melaksanakan dasar-dasar yang telah dirancang
- A I dan II
 B I dan III
 C H dan IV
 D HI dan IV
- 26 Yang manakah berikut benar tentang Yang di-Perfua Negeri?
- I Melantik Menteri Besar
 - II Merasmikan persidangan Dewan Undangan Negeri
 - HI Melantik Hakim Mahkamah Tinggi
 - IV Mengampunkan pesalah di mahkamah awam negeri
- A I dan H
 B I dan III
 C It dan IV
 D ffl dan IV
- 27 Antara pernyataan berikut, yang manakah **benar** tentang Majlis Mesyuarat Kerajaan Negeri?
- I Ahli Majlis Mesyuarat Kerajaan Negeri boleh menjalankan profesion masing-masing,
 - H Majlis Mesyuarat Kerajaan dikenali sebagai Kabinet Negeri di Sabah dan Majlis Tertinggi di Sarawak.
 - in** Setiap ahli Majlis Mesyuarat Kerajaan memegang portfolio pentadbiran kecuali Menteri Besar dan Ketua Menteri.
 - IV Setiausaha Kerajaan, Pegawai Kewangan Negeri, dan Penasihat Undang-undang ialah pegawai-pegawai ex-officio.
- A U dan III
 B H dan IV
 C III dan IV
 D I, II, III dan IV

900/1

*Kertas soalan ini sulit sehingga peperiksaan kertas ini tamat

[Lihat sebelah
SULIT*]

SULIT*

11

- 28 Yang manakah antara undang-undang berikut boleh dilaksanakan oleh kerajaan negeri?
- I Undang-Undang Trafik
 - II Undang-Undang Perdagangan
 - III Undang-Undang Tanah
 - IV Undang-Undang Islam
- A I dan II
B I dan IU
C II dan IV
D III dan IV
- 29 Antara jabatan peringkat negeri berikut, yang manakah menjalankan peranan yang lebih kurang sama dengan Jabatan Peguam Negara?
- A Pejabat Kemajuan Negeri
B Pejabat Penasihat Undang-Undang Negeri
C Pejabat Kewangan Negeri
D Pejabat Setiausaha Persekutuan
- 30 Antara berikut, yang manakah merupakan hasil Kerajaan Tempatan?
- I Lesen mecibela binatang peliharaan
 - II Kutipan zakat
 - III Bayaran lesen memandu
 - IV Cukai pelupusan sampah
- A I dan II
B I dan IV
C If dan III
D III dan IV

900/1

[Lihat sebelah
SULIT*]

*Kertas soalan ini sulit sehingga peperiksaan kertas ini tamat

SULIT*

12

31 Antara padanan berikut, yang manakah betul tentang agensi pusat dan peranannya?

	<i>Agensi Pusat</i>		<i>Peranan</i>
I	Jabatan Perkhidmatan Awam	X	Program bantuan teknikal untuk negara-negara membangun
n	Unit Perancang Ekonomi	Y	Menggiibal skim gaji kakitangan awam
in	Unit Penyelarasan Pelaksanaan	Z	Mengatasi masalah kontraktor Bumiputera

	I	II	m
A	X	Z	V
B	z	X	Y
C	Y	X	Z
D	Z	Y	X

wmmm* _____ 'ti>nnn*fr - _____ •iii'ytw>:-

- Encik X menganjurkan pertunjukan hiburan tanpa kelulusan
- Pihak Y mengenakan denda terhadap Encik X

32 Siapakah pihak Y?

- A Jabatan Bomba
- B Kerajaan Tempatan
- C Mahkamah Majistret
- D Jabatan Perumahan Negara

33 Antara yang berikut, yang manakah benar tentang Majlis Daerah?

- I Anggota majlis dipilih melalui pilihan raya
 - II Mengenakan kompaun kerana kesalahan pembakaran terbuka
 - III Membentuk mahkamah awam sendiri
 - IV Mengeluarkan lesen berjaja
- A I dan H
 - B I dan III
 - C n dan IV
 - D III dan IV

900/1

*Kertas soalan ini sulit sehingga peperiksaan kertas ini tamat

[Lihat sebelah
SULIT*

SULIT*

13

- 34 Yang manakah antara berikut yang menjelaskan maksud istilah "karenah pentadbiran birokrasi"
- A Sistem pentadbiran tentera yang urusannya dirahsiakan daripada pengetahuan umum,
 - B** Sistem pentadbiran yang diamalkan oleh kerajaan yang bercorak demokrasi.
 - C Sistem pentadbiran yang melibatkan berbagai-bagai peringkat dan proses pengurusan serta peraturan yang banyak.
 - J) Sistem pentadbiran sehala yang tidak boleh dipertikaikan arahnya.
- 35 Antara sebab utama Perlembagaan Persekutuan memperuntukkan badan penyalaras antara Kerajaan Persekutuan dengan Kerajaan Negeri ialah
- A Mengelakkan pertindahan fungsi pentadbiran Kerajaan Persekutuan dengan Kerajaan Negeri.
 - B** Meningkatkan kecekapan mengurus tenaga kerja di peringkat negeri dan persekutuan.
 - C Mewujudkan perhubungan kuasa pentadbiran Kerajaan Persekutuan dengan Kerajaan Negeri.
 - B Menyeragamkan pentadbiran kerajaan persekutuan dengan kerajaan negeri.
- 36 Parlimen boleh membuat undang-undang terhadap perkara dalam Senarai Negeri bagi tujuan
- I mengadakan persamaan undang-undang
 - II** mengadakan keamanan dan keharmonian negeri
 - III** menyempumakan permintaan Dewan Negeri
 - IV membantu Dewan Negeri yang tidak berupaya
- A I dan H
 - B** I dan III
 - C II dan IV
 - D** III dan IV

SULIT*

14

- 37 Yang Dipertua Dewan Rakyat boleh meletakkan jawatan dengan raenulis surat kepada
- A Yang di-Pertuan Agong
 - B Perdana Menteri
 - C Setiausaha Dewan Rakyat
 - D Peguam Negara
- 38 Ahli Dewan Rakyat yang bercadang berhenti menjadi ahli hendaklah menulis surat kepada
- A Yang di-Pertuan Agong
 - B Perdana Menteri
 - C Yang Dipertua Dewan Rakyat
 - D Yang Dipertua Dewan Negara

BADAN PERUNDANGAN NEGERI

Keanggotaan:

- Ahli-ahli dipilih
- Ahli-ahli dilantik
- 3 orang pegawai kerajaan

- 39 Pernyataan di atas merujuk kepada Dewan Undangan Negeri bagi negeri
- I Selangor
 - II Johor
 - III Perak
 - IV Sarawak
- A I dan II
 - B I dan III
 - C II dan IV
 - D III dan IV

900/1

*Kertas soalan ini suiit sehingga peperiksaan kertas ini tamat

[Lihat sebelah
SULIT*]

SULIT*

15

40 Pilih padanan yang benar tentang *Bacaan Tajuk* dalam proses pengubalan rang undang-undang

	<i>Bacaan Pertama</i>	<i>Bacaan Ketiga</i>
A	Setiausaha Dewan	Setiausaha Kementerian
B	Menteri	Setiausaha Parlimen
C	Setiausaha Dewan	Setiausaha Parlimen
D	Setiausaha Kementerian	Menteri

41 Bentuk kerjasama berikut yang menggambarkan dasar luar Malaysia yang pro-barat sebelum tahun 1970 dengan wujudnya

- A Pertubuhan Perjanjian Asia Tenggara (SEATO)
- B Perjanjian Pertahanan Anglo-Malaya (AMDA)
- C Persatuan Asia Tenggara (ASA)
- D Kejjasama Ekonomi Antarabangsa (IEC)

42 Antara berikut, yang manakah adalah hak asasi seorang individu jika dia ditahan atau disyaki melakukan sesuatu kesalahan?

- I Hak habeas corpus
 - II Hak untuk memperoleh peguam
 - III Hak untuk membuat rayuan
 - IV Hak untuk mengetahui kesalahannya
- A I
 - B II dan III
 - C I, II dan IV
 - D II, III dan IV

SULIT*

16

Arahan Mahkamah Tinggi yang membatalkan keputusan ,
 sesebuah badan tertentu kerana keputusan itu menyalahi
 undang-undang...

43 Dokumen yang dimaksudkan di atas ialah

- A Mandamus
- B Injunksi
- C Certiorari
- D Habeas Corpus

44 Antara jawatan-jawatan berikut, yang manakah benar adalah lantikan Yang di-Pertuan Agong dan pemecatannya melalui tribunal.

- I Peguam Negara
 - II Juruaudit Negara
 - III Yang di-Pertua Dewan Negeri
 - IV Yang di-Pertua Negeri
- A I dan II
 - B II dan III
 - C II dan IV
 - D I, II dan III

45 Hukuman maksimum yang boleh dijatuhkan oleh Mahkamah Syariah ialah

	Penjara	Denda	Ratan
A	5 tahun	RM3000	3 kali
B	5 tahun	RM 5000	6 kali
C	3 tahun	RM 6000	5 kali
D	3 tahun	RM5000	6 kali

900/1

*Kertas soalan ini suiti sebingga peperiksaan kertas ini tamat

[Lihat sebelah
SULIT*

Soalan 46 berdasarkan Jadual 1 di bawah ini.

Jadual 1: Ringgit Malaysia bagi Satu Unit Mata Wang Asing

Mata Wang	Harga Jualan	Harga Belian
\$US (Dolar Amerika Syarikat)	2.71	2.68
DM (Mark German)	1.60	1.55
£ (Paun Sterling)	4.01	3.94
\$S (Dolar Singapura)	1.74	1.70

Seorang usahawan Malaysia membeli sebuah kereta di London dengan harga £25 000. Kereta itu dibawa pulang ke Malaysia dengan menggunakan khidmat perkapalan German dengan tambang sebanyak DM2000. Kereta itu dikenakan cukai import sebanyak 150% daripada nilainya.

46 Berapakah jumlah kos (dalam RM) yang perlu ditanggung oleh usahawan tersebut?

- A RM 249 350
- B RM249 450
- C RM253 725
- B** RM253 825

Alina, Zaina, Abu dan Nurul ditugaskan memeriksa skrip jawapan peperiksaan. Setiap skrip yang diperiksa dibayar sebanyak RM 1.50. Purata skrip yang diperiksa di kaiangan mereka selama seminggu ialah 40 skrip seorang. Alina telah memeriksa sebanyak 50 skrip. Keupayaan Zaina memeriksa adalah dua kali keupayaan Abu, manakala keupayaan Nurul pula $\frac{1}{3}$ keupayaan Zaina.

47 Berapa bayaran yang diterima oleh Abu dalam masa seminggu?

- A RM30.00
- B RM45.00
- C RM60.00
- D** RM75.00

900/1

*Kertas soalan ini sulit sehingga peperiksaan kertas ini tamat

[Lihat sebelah
SULIT*]

SULIT*

18

48 Setiap belian RM100.00 akan diberi voucer bernilai RM10.00 tetapi voucer itu tidak boleh dituk dengan wang tunai, sebaliknya mesti digunakan untuk membeli barang lain. Husen berbelanja sebanyak RM840.00. Berapakah ia perlu menambah wangnya sendiri untuk membeli satu baranga lain yang berharga RM155.50?

- A RM82.30
- B RM71.50
- C RM66.40
- D RM77.20

Setiap 1^o pergerakan bumi, perbezaan masa ialah 1 jam.
Semua tempat ke arah Timur : tambah masa
Semua tempat ke arah Barat : tolak masa

Bandar KA terletak di garisan Bujur 75^oT dan waktu tempatannya pukul 6.00 pagi. Berapakah waktu tempatan di Bandar B yang terletak di garisan Bujur 75^oB

- A 8.00 pagi
- B 8.00 malam
- C 1.00 pagi
- D 1.00tengahhari

Harga kereta	: RM62 980
Insurans kereta	: 1.5% daripada harga kereta
Cukaijalan	: 10% daripada nilai insurans

50 Encik X membeli kereta di atas dan beliau terpaksa membayar premium insurans dan cukai jalan sendiri. Berapakah jumlah kedua-dua bayaran ini?

- A RM 94.47
- B RM 944.70
- C RM 1039.17
- D RM 6298.00

SULIT*

19

Soalan 51 berdasarkan Jadual 2 di bawah.

Jadual berikut menunjukkan kedudukan harga saham yang telah dibeli oleh Encik Amin pada tahun 2004.

Jadual 2: Kedudukan Harga Saham di Pasaran

<i>Saham</i>	<i>Jumlah saham (unit)</i>	<i>Harga belian (RM)</i>	<i>Harga tertinggi*</i> <i>(RM)</i>	<i>Harga terendah*</i> <i>(RM)</i>	<i>Dividen (%)</i>	<i>Harga pada awai 1995 (RM)</i>
<i>P</i>	<i>1000</i>	<i>1.50</i>	<i>2.50</i>	<i>2.00</i>	<i>8</i>	<i>2.20</i>
<i>Q</i>	<i>2000</i>	<i>2.00</i>	<i>3.10</i>	<i>2.20</i>	<i>10</i>	<i>2.50</i>
<i>R</i>	<i>3000</i>	<i>1.00</i>	<i>1.20</i>	<i>0.80</i>	<i>6</i>	<i>0.95</i>
<i>S</i>	<i>4000</i>	<i>1.50</i>	<i>2.00</i>	<i>1.60</i>	<i>8</i>	<i>1.70</i>
<i>T</i>	<i>5000</i>	<i>1.00</i>	<i>1.60</i>	<i>1.20</i>	<i>6</i>	<i>1.50</i>

(* dalam tahun 1994)

51 Antara yang berikut, yang manakah pernyataan yang benar tentang pelaburan yang dibuat oleh Encik Ajnin?

- I Beliau akan memperoleh keunrunan curna RM1700 jika semua sahamnya terpaksa dijual pada harga terendah.
 - II Beliau akan memperoleh keunrunan kira-kira 45 peratus jika semua sahamnya terpaksa dijual pada harga tertinggi.
 - III Beliau akan memperoleh dividen berjumlah RM1080 jika semua sahamnya tidak dijual pada awal tahun 1995.
 - IV Beliau akan memperoleh wang sebanyak RM24350 jika semua sahamnya dijual pada awal tahun 1995.
- A I, II, dan III
 - B I, II dan IV
 - C I, III, dan W
 - D II, III, dan IV

900/1


*Kertas soalan ini sulit sehingga peperiksaan kertas ini tamat

[Libat sebelah
SULIT*

SULIT*

20

Soalan 52 berdasarkan grafbar di bawah



52 Berdasarkan kepada makluraat dalam rajah di atas, berapakah pendapatan purata bagi golongan 1% tersebut?

- A RM 15000
- B RM 20000
- C RM 25000
- D RM 30000**

53 Anda meminjam wang sebanyak RM 1000 pada kadar faedah sebanyak 1% setiap bulan. Anda membayar RM 100 dan faedah ke atas bald setiap bulan. Berapakah jumlah faedah yang akan anda bayar untuk menjelaskan hutang itu?

- A RM 10.00
- B RM 20.00
- C RM 55.00
- D RM 105.00**

Soalan 54 berdasarkan jadual 3 di bawah ini.

Jadual 3: Jadual Kenderaan Bermotor di Semenanjung Malaysia, 1991-1993.

<i>Jenis kenderaan</i>	<i>1991 (unit)</i>	<i>1992 (unit)</i>	<i>1993 (unit)</i>
Kereta penumpang	121 660	109 432	115 000
Kereta perdagangan	49 683	29 399	35 100
Kereta pacuan empat roda	10 534	6 257	6 600
Jumlah	181 877	145 088	156 700

54 Antara yang berikut, yang manakah yang benar tentang Jadual 3 di atas?

- I Jumlah unit jualan kenderaan bermotor di Semenanjung Malaysia dari tahun 1991 hingga tahun 1993 sentiasa berkurang.
 - JJ Peratusan jualan kereta pacuan empat roda bagi tahun 1993 lebih rendah daripada tahun 1992.
 - HI Jualan kereta perdagangan di Semenanjung Malaysia dari tahun 1991 hingga tahun 1993 adalah sekitar 20% hingga 25%.
 - IV Kereta penumpang sentiasa menjadi kenderaan yang paling laris di pasaran dari tahun 1991 hingga tahun 1993.
- A I dan II
 B H dan IB
 C II dan IV
 D I, II dan IV

53 Encik X dan Y ditugaskan untuk menebang pokok-pokok getah yang tua di sebuah ladang seluas 9.4 hektar. Terdapat 115 batang pokok per hektar. Encik X berjaya menebang 650 batang pokok dan bakinya ditebang oleh Encik Y.

Berapakah pokok yang ditebang oleh Encik Y?

- A 115
- B 431
- C 650
- D 1081

900/1

*Kertas soalan ini sulit sehingga peperiksaan kertas ini tamat

(Lihat sebek
SULIT

SULIT*

22

Soalan 56 berdasarkan Jadual 4 di bawah ini.

Jaduai 4: Harga Saham Di Pasaran Saham

Jenis Saham	Harga Saham Dari Isnin Hingga Khamis (RM)			
	Isnin	Selasa	Rabu	Khamis
Elcom	4.72	4.69	4.80	4.70
Suria	3.70	2.99	3.10	3.12
Gear Mas	10.01	10.10	10.20	10.30
Keris Putih	11.50	11.53	11.54	11.60

56 Yang manakah benar tentang struktur guna tenaga di Malaysia seperti dalam jadual di atas?

- I Suria merakamkan keunrungan yang tinggi.
 - II Keris Putih meningkat seiam a tiga hari berturut-turut.
 - III Kaunter yang menunjukkan keunrungan paling banyak adalah Elcom.
 - IV Saham Gear Mas menunjukkan peningkatan yang ketara sepanjang minggu.
- A I dan II
 B I dan III
 C II dan IV
 D III dan IV

Empat pasangan P, Q, R dan S hendak mengambil tempat duduk di dalam sebuah panggung wayang. Setiap baris mempunyai 8 tempat duduk. Mereka duduk di baris yang sama, tetapi pasangan P enggan duduk bersebelahan dengan pasangan Q, pasangan Q pula enggan duduk bersebelahan pasangan R, manakala pasangan S enggan duduk bersebelahan dengan pasangan P.

57 Yang manakah antara kedudukan berikut yang tepat bagi menyelesaikan masalah di atas?

- A P, Q, R dan S
- B P, R, S dan Q
- C P, R, Q dan S
- D P, S, R dan Q

SULIT*

23

Jadual Cukai Pendapatan Individu

Pendapatan (RM)	Peratus Cukai Yang Dikenakan
0-9999	Tiada cukai dikenakan
10 000-15 000	3
15 001-20 000	5
20 001-25 000	8
25 001-30 000	11
30 001-35 000	13
Lebih 35 001	15

58 Encik Z mendapat pendapatan tahunan sebanyak RM 98 000 setahun. Selepas membaya premium insurans, KWSP dan Perkeso, beliau mempunyai pendapatan boleh cukai sebanyak RM 78 500. Berapakah cukai Encik Z.

- A RM4550
- B RM 8525
- C RM11075
- D RM11775**

Sebuah jentolak berharga RM 150 000 dan mesin ini mengalami susut nilai seperti berikut:

Tahun 1: RM 7 500

Tahun 2: RM 9 500

Tahun 3: RM 9 000

Tahun 4: RM 8 500


59 Berapakah susut nilai jentolak tersebut pada tahun kesembilan?

- A RM 6 000
- B RM 6 500
- C RM 7 000
- D RM7 500**

SULIT*

24

Solan 60 berdasarkan carta di bawah ini.



60 Jika taburan peratusan bilangan pesakit AIDS mengikut benua tidak berubah, berapakah perbezaan bilangan pesakit AIDS antara bilangan yang dianggar dengan bilangan sebenar di Afrika?

- A 4 830 orang
- B 48 300 orang
- C 483 000 orang
- D 4 830 000 orang

900/1

*Kertas soalan ini sulit sehingga peperiksaan kertas ini tamat

[Lihat sebelah
SULIT*

NO. SOALAN	JAWAPAN
1	B
2	C
3	A
4	C
5	B
8	D
7	B
8	C
9	A
10	B
11	D
12	A
13	A
14	C
15	B
16	B
17	B
18	A
19	D
20	B
21	C
22	C
23	A
24	B
25	B
26	C
27	B
28	D
29	B
30	B

NO. SOALAN	JAWAPAN
31	C
32	B
33	C
34	C
35	C
36	B
37	C
38	C
39	C
40	C
41	B
42	C
43	C
44	A
45	D
46	D
47	B
48	B
49	B
50	C
51	B
52	B
53	C
54	C
55	B
56	C
57	B
58	B
59	A
60	C

900/2

STPM 2009

PENGAJIAN AM

KERTAS 2

(ESEI)

(Tiga Jam)

S.M.J.K.JIT SIN

PEPERIKSAAN PERCUBAAN STPM 2009

Arahan kepada calon :

*Jawab **en am** soalan. Pilih **satu** soalan daripada tiap-tiap Bahagian A, B, D, dan E dan **Dua** soalan dalam Bahagian C.*

Gunakan lembaran her (as yang berlainan bagi tiap-tiap bahagian. Markah untuk tiap-tiap soalan dibeikan dalam tanda kurung [].

NOTA

Bersama dengan kertas soalan ini anda harus menerima kertas graf. Jika tidak, sila minta daripada pengawas peperiksaan.

Kertas soalan ini terdiri daripada 10 halaman bercetak.

STPM 900/2

[Lihat sebel

sum

*** Kertas soalan ini SULIT sehingga peperiksaan kertas ini tamat**

SULIT*

2

Bahagian A

Pilih satu daripada tajuk-tajuk di bawah ini, dan tulis karangan yang panjangnya antara 250 hingga 300 patah kola. [25]

1. Program Malaysia Rumah Kedua Ku (MM2H) telah dilancarkan pada tahun 1996. Program bertujuan menjadikan Malaysia sebagai rumah kedua kepada para pesara asing yang berhasrat tinggal lama di negara ini.

Bincangkan potensi Malaysia menjayakan Program MM2H.

2. Kumpulan pemikir atau *Think Tank* seperti Institut Strategik dan Kajian Antarabangsa Malaysia (ISIS) telah diwujudkan sejak era mantan Tun Dr. Mahathir. Sumbangan membina kumpulan pemikir seperti ISIS tidak dapat dinafikan. Namun, senario kelangsungan survival kumpulan pemikir tersebut pada masa kini ibarat "Hidup Segan. Mati Tak Mahu".

Ulaskan pernyataan ini.

Bahagian B

Pilih satu daripada tajuk-tajuk di bawah ini, dan tulis karangan yang panjangnya antara 250 hingga 300 patah kata. [25]

3. Nanoteknologi ialah bidang sains yang menerokai aplikasi bahan bersaiz atom atau molekul halus untuk pelbagai bidang. Bidang perubatan merupakan antara bidang yang memperoleh manfaat besar hasil perkembangan nanoteknologi.

Bincangkan aplikasi nanoteknologi dalam bidang perubatan.

4. Kealpaan dan kerakusan manusia mengeksploit sumber alam telah menggadaikan keseluruhan ekosistem. Teknologi hijau yang dibangunkan bagi menangani isu permasalahan alam sekitar tidak harus terhad kepada industri automotif semata-mata.

Jelaskan pernyataan ini.

900/2

[Lihat sebelah

*Kertas soalan ini SULIT sehingga peperiksaan kertas ini tamat

SI LIT*

3

Bahagian C

Jawab **dua** soalan dalam bahagian ini. Pilih **satu** daripada soalan 5 (a) **atau** 5 (b) **dan** satu daripada soalan 6 (a) **atau** 6 (b). [20]

5 (a) Perkembangan ICT tiada surutnya. Jalinan kemodenan dalam era globalisasi dan ICT telah menghasilkan media blog. Berbanding dengan laman web konvensional, media blog mengungkap sesuatu yang penting dengan cara yang aktif dan dinamik. Selain itu, "suara penulis" blog adalah elemen penting yang menjadikan media blog lebih unik dan menarik.

(Dipetik daripada *Dewan Kosmik*, Ogos 2009)

- (i) Nyatakan kelebihan media blog berbanding dengan laman web konvensional.
- (ii) Dengan menggunakan tidak lebih daripada 50 patah perkataan, jelaskan ancaman media blog terhadap individu dan masyarakat.

ATAU

(b) Gagasan Satu Malaysia telah dilancarkan pada 3 April 2009 sebaik sahaja Dato' Seri Mohd Najib Tun Abdul Razak mengambil alih tampuk pemerintahan negara sebagai Perdana Menteri Malaysia Ke-6. Namun, sebaik sahaja gagasan tersebut dikemukakan, timbul polemik yang menyamakan gagasan Satu Malaysia dengan konsep Malaysian Malaysia tajaan DAP sekitar tahun 1960-an.

(Disesuaikan daripada *Dewan Masyarakat*, Ogos 2009)

- (i) Apakah polemik yang menimbulkan kemarahan masyarakat umum selepas gagasan Satu Malaysia dikemukakan ?
- (ii) Dengan menggunakan tidak lebih daripada 50 patah perkataan, jelaskan pendekatan-pendekatan gagasan Satu Malaysia untuk mencapai Wawasan 2020.

900/2

[Lihat sebelah

*Kertas soalan ini SULIT sehingga peperiksaan kertas ini tamat

SULIT*

4

6. (a) Waspada merupakan salah satu langkah membina *Cognitive Reserve* (CR) iaitu keupayaan untuk menghadapi ancaman. Semakin tinggi CR, semakin kuatlah individu menghadapi sindrom kemerosotan daya ingatan mengikut peningkatan usia iaitu satu pendekatan menangani penyakit Alzheimer. CR bukan setakat diperoleh melalui pendidikan tertiar malah latihan yang mendorong ketajaman minda seperti permainan video.

(Dipetik daripada *Dewan Kosmik*, Julai 2009)

- (i) Apakah manfaat yang dapat diperoleh melalui permainan video ?
- (ii) Dengan menggunakan tidak lebih daripada 50 patah perkataan, nyatakan kepentingan permainan video terhadap kesihatan mental pemain.

ATAU

(b) Pandemik Influenza A mencetuskan kebimbangan dalam kalangan komuniti dunia. Manusia hidup dalam dunia global yang penuh dengan mikrob yang dikongsi. Kemajuan pengangkutan dan modenisasi mempercepat proses penularan virus melalui salur respiratori, tiada seorang pun yang mendapat jaminan akan terselamat daripada virus tersebut.

(Dipetik daripada *Dewan Kosmik*, Julai 2009)

- (i) Mengapakah penularan penyakit Influenza A telah bertukar begitu cepat menjadi pandemik global ?
- (ii) Dengan menggunakan tidak lebih daripada 50 patah perkataan, nyatakan bagaimana penularan penyakit Influenza A ditangani ?

900/2

[Lihat sebelah

*Kertas soalan ini SULIT sehingga peperiksaan kertas ini tamat

SHUT*

5

Bahagian D

Jawab satu soalan sahaja dan satu bahagian ini. Jawapan hendaklah dibuat pada kertas graf. [15]

7. Berdasarkan maklumat yang diberikan dalam petikan di bawah ini, sediakan graf yang sesuai untuk menunjukkan jumlah guna tenaga mengikut kaum dan sektor bagi tahun 2002 dan 2006.

Guna tenaga di Malaysia merangkumi beberapa sektor, iaitu sektor pertanian dan pengeluaran; sektor pengurusan dan pentadbiran; sektor perkhidmatan dan jualan serta profesional dan teknik. Jumlah gunatenaga pada tahun 2006 ialah 11 301.9 ribu orang, iaitu bertambah sebanyak 1684 ribu orang berbanding dengan tahun 2002.

Pada tahun 2002, sektor pertanian dan pengeluaran menyumbang melebihi separuh daripada jumlah guna tenaga di Malaysia, iaitu 4 935.3 ribu orang. Daripada jumlah guna tenaga dalam sektor pertanian dan pengeluaran, 3 234.5 ribu orang merupakan kaum Melayu, 1198.2 ribu orang terdiri daripada kaum Cina, manakala kaum India dan kaum lain ialah 502.6 ribu orang.

Pada tahun 2006, sektor pertanian dan pengeluaran masih menjadi tumpuan apabila bilangan guna tenaga daripada kaum Melayu telah meningkat sebanyak 27.89% atau 902 ribu orang berbanding dengan tahun 2002 dan diikuti dengan kaum Cina yang meningkat sebanyak 103.9 ribu orang manakala kaum India dan kaum lain berjumlah 536.1 ribu orang.

Bagi sektor pengurusan dan pentadbiran pada tahun 2002, guna tenaga kaum Melayu ialah 698.1 ribu orang, iaitu 47.4 ribu orang melebihi guna tenaga kaum Cina, manakala guna tenaga kaum India dan kaum lain ialah 101.6 ribu orang.

Pada tahun 2006, penglibatan kaum Melayu dalam sektor pengurusan dan pentadbiran masih mengatasi kaum lain dengan bilangan guna tenaga sebanyak 792.1 ribu orang berbanding dengan kaum Cina yang berjumlah 715 ribu orang. Penglibatan kaum India dan kaum lain pula ialah 107.4 ribu orang.

900/2

[Lihat sebelah

* Kertas soalan ini SULIT sehingga peperiksaan kertas ini tamat

SULIT*

6

Sementara itu, dalam sektor perkhidmatan dan jualan pada tahun 2002, 870.2 ribu orang merupakan guna tenaga kaum Melayu, diikuti dengan kaum Cina dengan bilangan guna tenaga sebanyak 745.2 ribu orang. Guna tenaga kaum India dan kaum lain ialah 206.7 ribu orang.

Pada tahun 2006, jumlah guna tenaga dalam sektor perkhidmatan dan jualan telah meningkat sebanyak 288.6 ribu orang berbanding dengan tahun 2002. Daripada jumlah ini, 975.6 ribu orang ialah kaum Melayu dan diikuti dengan kaum Cina sebanyak 865 ribu orang, manakala kaum India dan kaum lain ialah 270.1 ribu orang.

Sektor profesional dan teknik merupakan sektor yang mempunyai jumlah guna tenaga yang paling sedikit pada tahun 2002, iaitu 1 410.1 ribu orang. Daripada jumlah tersebut, 880.1 ribu orang ialah kaum Melayu, 415.4 ribu orang ialah kaum Cina, manakala 114.6 ribu orang terdiri daripada kaum India dan kaum lain.

Pada tahun 2006 pula, guna tenaga dalam sektor profesional dan teknik berjumlah 1 602 ribu orang. Daripada jumlah ini, guna tenaga kaum Melayu ialah 980.3 ribu orang, 498.5 ribu orang ialah kaum Cina, manakala 123.2 ribu orang merupakan guna tenaga kaum India dan kaum lain.

(Dipetik dan diubahsuaikan daripada *Buku Tahunan Perangkaan Malaysia 2006*, Jabatan Perangkaan Malaysia)

900/2

[Lihat sebelah

*Kertas soalan ini SULIT sehingga peperiksaan kertas ini tamat

SULIT*

7

8. Berdasarkan maklumat yang diberikan dalam petikan di bawah, sediakan carta yang sesuai urituk menunjukkan bilangan penduduk mengikut negeri-negeri terpilih dan kumpulan etnik di Semenanjung Malaysia pada tahun 2004.

Penduduk Malaysia pada tahun 2004 berjumlah 26 409.7 ribu orang berdasarkan Banci Penduduk dan Perumahan 2000. Daripada jumlah ini, 10 430.4 ribu orang menetap di negeri Johor, Melaka, Negeri Sembilan, Pahang dan Selangor.

Hasil bancian menunjukkan bahawa bilangan penduduk di Melaka pada tahun 2004 ialah 687.1 ribu orang, iaitu pertambahan sebanyak 13.1 ribu orang berbanding dengan tahun 2003. Pembangunan ekonomi yang pesat di negeri Selangor telah menyaksikan pertambahan penduduk yang begitu ketara di negeri tersebut, iaitu bertambah sebanyak 109.2 ribu orang pada tahun 2004 berbanding dengan 4 388.9 ribu orang pada tahun 2003.

Sementara itu, bilangan penduduk di Negeri Sembilan pada tahun 2004 ialah 913.3 ribu orang, iaitu lebih ramai daripada bilangan penduduk di negeri Melaka. Sungguhpun negeri Pahang merupakan negeri yang paling besar di Semenanjung Malaysia dengan keluasan 35 970 km persegi, namun bilangan penduduknya hanya 5.19% daripada jumlah penduduk Malaysia, iaitu 1 372.5 ribu orang. Angka ini pula adalah hampir separuh daripada bilangan penduduk di negeri Johor, iaitu sebanyak 2 959.4 ribu orang.

Bancian penduduk mengikut kumpulan etnik bagi kelima-lima buah negeri tersebut menunjukkan komposisi yang amat berbeza. Kaum Bumiputera merupakan kumpulan penduduk majoriti di kelima-lima buah negeri tersebut, iaitu sebanyak 7 019.2 ribu orang.

Kebanyakan penduduk kaum Cina bertumpu di kawasan bandar di negeri-negeri Selangor, Johor dan Melaka. Bilangan penduduk Cina merangkumi kira-kira satu per tiga daripada bilangan penduduk Bumiputera, iaitu kurang 4 718.1 ribu orang daripada bilangan penduduk Bumiputera.

900/2

[Lihat sebelah

*Kertas soalan ini SULIT sehingga peperiksaan kertas ini tamat

SULIT*

8

Di samping itu, penduduk kaum India mencatatkan angka ketiga ramai dengan 999.1 ribu orang, manakala bakinya terdiri daripada penduduk kaum lain.

Jelaslah, taburan penduduk mengikut negeri dipengaruhi oleh pelbagai faktor seperti pembangunan ekonomi dan sosial serta demografi, manakala taburan penduduk mengikut kaum dipengaruhi oleh latar belakang sejarah dan kegiatan ekonomi yang dijalankan di negeri berkenaan

(Dipetik dan diubahsuaikan daripada *Buku Tahanan Perangkaan Malaysia*, 2006)

900/2

[Lihat sebelah

*Kertas soalan ini SULIT sehingga peperiksaan kertas ini tamat

SULIT*

9

Bahagian E*Jawab satu soalan sahaja dalam bahagian ini.*

[15]

9. Berdasarkan jadual di bawah, bandingkan bilangan tenaga buruh mengikut gender bagi tahun yang dinyatakan. Pada pandangan anda, mengapakah penglibatan wanita dalam pasaran buruh kurang menyerlah berbanding dengan lelaki.

Malaysia : Jadual Perangkaan Tenaga Buruh, 2006

Sektor	Lelaki	Wanita
Pertanian, penternakan dan perhutanan	1 013.9	361.4
Perikanan	123.2	5.0
Perlombongan dan kuari	35.9	6.1
Pembuatan	1 270.4	812.4
Bekalan elektrik, gas dan air	63.4	12.0
Pembinaan	834.4	74.5
Perdagangan jual borong dan runcit	1 081.0	569.6
Hotel dan restoran	385.5	335.8
Pengangkutan dan telekomunikasi	449.9	89.8
Kewangan	120.5	121.8
Hartanah	317.8	190.6
Pertahanan dan keselamatan sosial	486.5	187.6
Pendidikan	209.7	390.4
Kesihatan dan kerja sosial	70.6	152.6
Perkhidmatan komuniti	135.2	111.9
Isi rumah persendirian	19.6	235.0
Organisasi dan badan-badan luar wilayah	1.0	0.2
JUMLAH	6 618.5	3 656.7

Catatan : Nilai dalam ribu orang

900/2

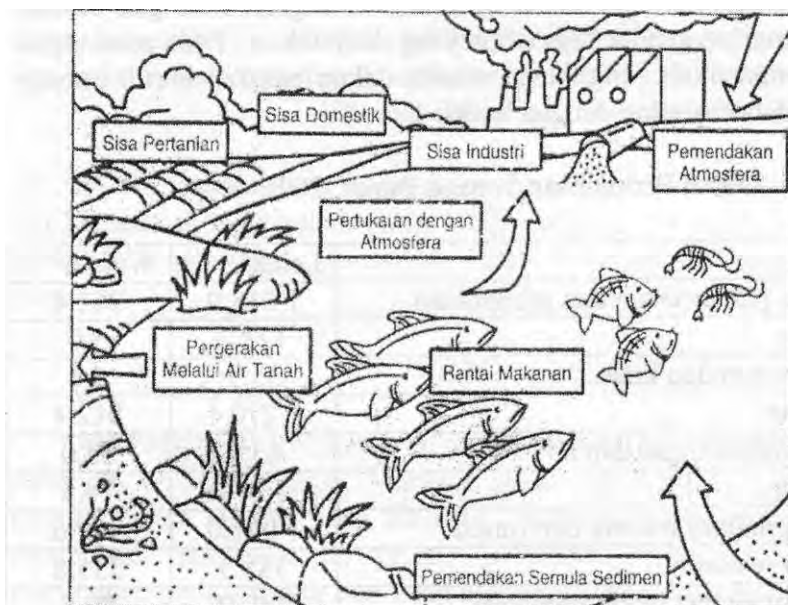
[Lihat sebelah

*Kertas soalan ini SULIT sehingga peperiksaan kertas ini tamat

SULIT*

10

10. Berdasarkan gambar rajah di bawah, nyatakan bagaimana kehidupan maritim terjejas akibat aktiviti manusia.



(Dipetik dan diubahsuaikan daripada
<http://www.epa.gov/glpo/atlas.com>)

Disediakan oleh

EN. YEOH CHING HONG
 KETUA PANITIA
 PANITIA PENGAJIAN AM
 SMJK JIT SIN
 14000 BUKIT MERTAJAM, PP.

900/2

*Kertas soalan ini SULIT sehingga peperiksaan kertas ini tamat