

79/1
Kemahiran Hidup
Bersepadu
Perdagangan
dan
Keusahawanan
Kertas 1
2008
1 jam 30 minit



SEK. MEN. KEB. TUNGKU

PEPERIKSAAN PERCUBAAN PMR 2008

KEMAHIRAN HIDUP BERSEPADU

Perdagangan dan Keusahawanan

Satu jam tiga puluh minit

JANGAN BUKA KERTAS SOALAN INI SEHINGGA DIBERITAHU

1. Kertas soalan ini mengandungi 60 soalan
2. *Jawab semua soalan*
3. *Tiap-tiap soalan diikuti oleh empat jawapan yang bertanda A, B, C dan D. Bagi tiap-tiap soalan pilih satu jawapan sahaja. Tandakan semua jawapan anda pada kertas jawapan objektif yang disediakan.*
4. *Fikir dengan teliti ketika memilih jawapan anda. Jika anda hendak menukar sesuatu jawapan, padamkan sehingga bersih tanda yang tidak dikehendakki itu dan **hitamkan** pilihan anda yang baru.*

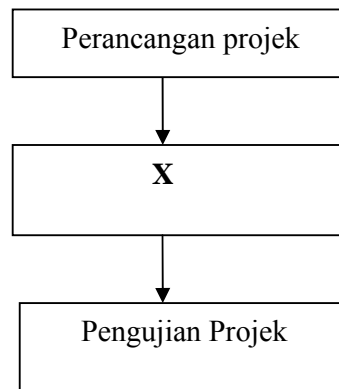
Kertas ini mengandungi 23 halaman bercetak

[LIHAT SEBELAH]

- 1 Manakah antara susunan konsep **4M** yang perlu menjadi amalan di dalam bengkel?
- A Membersih, membuang, menilai dan mendisiplin.
 - B Menjaga, menyusun atur, menilai dan mendisiplin.
 - C Membersih, menyusun atur, menilai dan menanggung.
 - D Membersih, menyusun atur, menilai dan mendisiplin.

- Mengumpul maklumat
- Melakar bebas

- 2 Apakah proses yang dikaitkan dengan penyertaan di atas semasa mereka cipta Rak majalah?
- A Pembinaan
 - B Pemilihan idea
 - C Pencetusan idea
 - D Perekaan projek



RAJAH 1

- 3 Berdasarkan proses mereka cipta di rajah 1, **X** mungkin sekali
- A pendokumentasian
 - B pernyataan masalah
 - C pembinaan projek
 - D penganalisis maklumat

- 4 Apakah yang dapat dijelaskan mengenai reka cipta?
- A Proses membuat kerja sistematis.
 - B Disiplin dan sikap individu terhadap kerja.
 - C Peradaban manusia seperti berilmu dan berkemahiran.
 - D Cara peradaban yang menjadi amalan dalam organisasi.
- 5 Setiap hasil reka cipta hendaklah mengambil kira faktor yang berikut
- I mesra alam
 - II teknik pembuatan
 - III keupayaan sendiri
 - IV keuntungan yang akan diperoleh
- A I dan III
 - B II dan III
 - C I, II dan III
 - D II, III dan IV
- 6 Pengumpulan maklumat dan data dapat dilakukan dengan cara
- I soal selidik
 - II pemerhatian
 - III lawatan ke ekspo
 - IV membaca buku-buku rujukan
- A I dan II
 - B I dan III
 - C I, II dan III
 - D I, II, III dan IV
- 7 Bahagian mesin gerudiantai yang berfungsi untuk mencengkam mata gerudi ialah
- A rahang
 - B kunci bindu
 - C ragum gerudi
 - D kunci rahang

Jenis kos	Kos anggaran (RM)	Kos sebenar (RM)
Kos bahan	80.00	85.00
Kos upah	12.00	12.00
Kos overhed	5.00	3.00

JADUAL 1

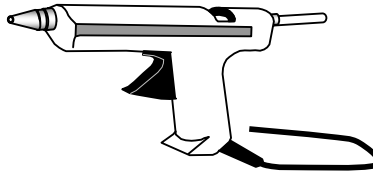
8 Jadual 1 menunjukkan pengiraan kos untuk membina antenna bermotor. Berapakah harga jualan yang perlu ditetapkan jika anda ingin memperoleh keuntungan sebanyak RM 20.00?

- A RM 105.00
- B RM 112.00
- C RM 117.00
- D RM 120.00

9 Gred kertas las yang paling halus ditandakan dengan

- A 00
- B 0, 1
- C 1½, 2
- D 2½, 3

10 Alatan yang ditunjukkan pada Rajah 2 di bawah ialah

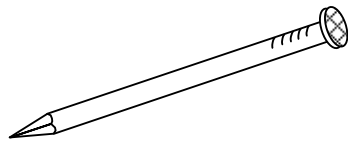


RAJAH 2

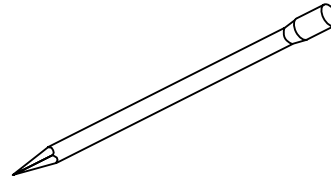
- A *Riveter*
- B *Hot glue gun*
- C Pemutus rivet
- D Pembenam rivet

11 Antara yang berikut, pengikat manakah yang digunakan untuk memaku papan lapis?

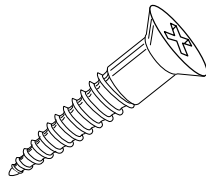
A



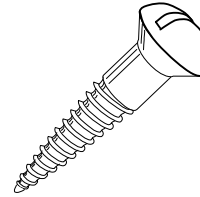
B



C



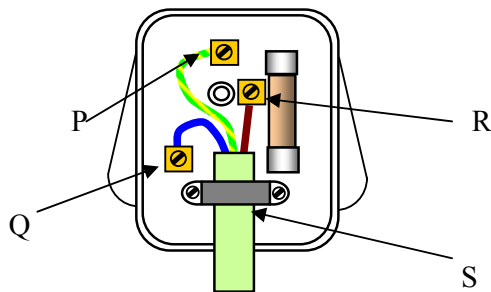
D



12 Bahan elektrolit bagi sel kering adalah campuran ammonium klorida dan

- A mangan dioksida
- B karbon dioksida
- C asid sulfurik cair
- D kalium proksida

13 Rajah 3 menunjukkan pendawaian plag 3 pin 13 ampere



RAJAH 3

Tamatan neutral ditunjukkan oleh bahagian bertanda

- A P
- B Q
- C R
- D S

- 14 Pada bulan Mei, bacaan meter kwj adalah 3392 dan pada bulan Jun ialah 3782. Berapakah jumlah unit tenaga yang telah digunakan?
- A 290 unit
 - B 390 unit
 - C 3392 unit
 - D 3782 unit
- 15 Wayar yang sesuai untuk pendawaian seterika elektrik ialah
- A wayar teras kembar
 - B wayar tiga teras berpenibat PVC
 - C wayar teras tunggal lembar kasar
 - D wayar tiga teras berpenibat PVC dan anyaman benang.

Bacaan dahulu = 8765407

Bacaan sekarang = 8765739

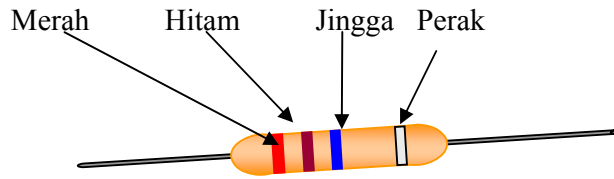
Tarif

200 unit pertama :RM 0.218

800 unit berikutnya :RM 0.258

- 16 Berdasarkan jadual di atas, kira bayaran yang dikenakan kepada pengguna
- A RM 21.80
 - B RM 72.37
 - C RM 77.66
 - D RM 85.65

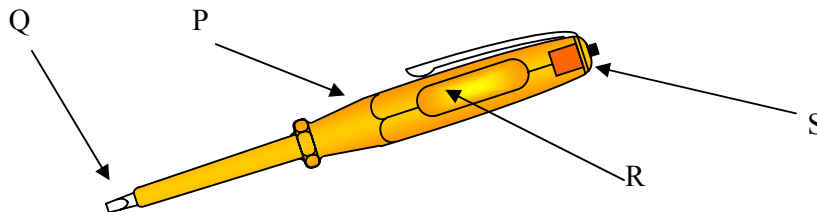
- 17 Rajah 4 adalah sejenis komponen elektronik.



RAJAH 4

Kirakan nilai perintang tetap tersebut

- A 1 K Ω
 - B 200 Ω
 - C 400 Ω
 - D 20,000 Ω
- 18 Alat yang sesuai digunakan untuk mencengkam membentuk dan memotong kaki perintang tetap ialah
- A pemotong sisi
 - B playar gabung
 - C penjalur wayar
 - D playar muncung tirus
- 19 Rajah 5 menunjukkan sejenis alatan tangan elektronik .



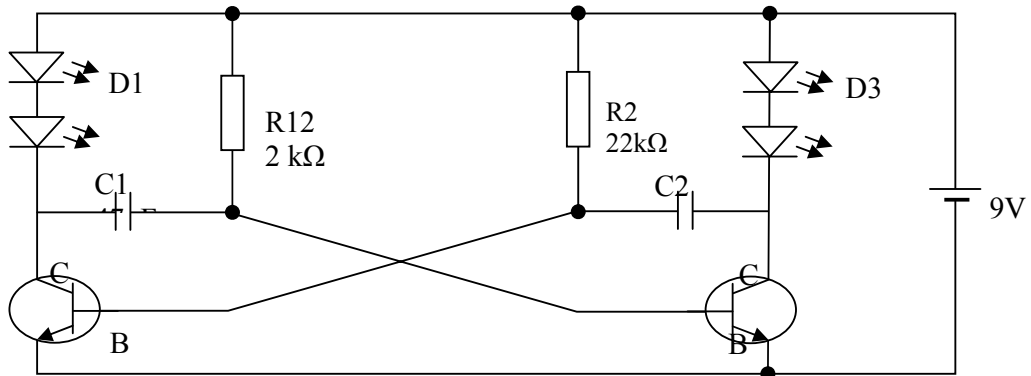
RAJAH 5

Bahagian yang menentukan adanya kebocoran arus atau wayar hidup pada pena ujian ialah

- A P
- B Q
- C R
- D S

- 20 Apakah fungsi kapasitor pada litar elektronik?
- I Menyimpan cas
 - II Merendahkan arus
 - III Bertindak sebagai suis
 - IV Melepaskan cas yang disimpan apabila diperlukan.
- A I dan II
 - B I dan IV
 - C III dan IV
 - D I,II dan III

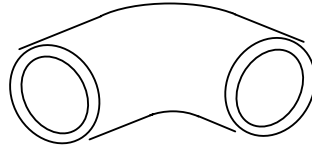
21 Rajah 6 menunjukkan litar skema satu projek elektronik.



RAJAH 6

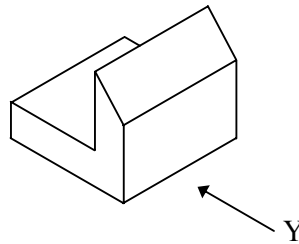
Berapakah bilangan komponen yang terdapat dalam litar tersebut ?

	Transistor	Perintang	L.E.D
A	2	2	4
B	2	4	2
C	2	4	3
D	3	4	1



RAJAH 7

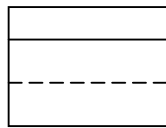
- 22 Jenis penyambungan yang ditunjukkan pada rajah 7 ialah
- A siku 90° sama BG
 - B tee pengecil paip PVC
 - C puting heksagon paip BG
 - D penyuai soket injap paip poli



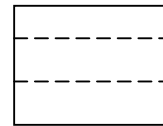
RAJAH 8

- 23 Pilih pandangan yang sesuai bagi objek berikut dari anak panah Y.


A



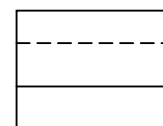
B



C



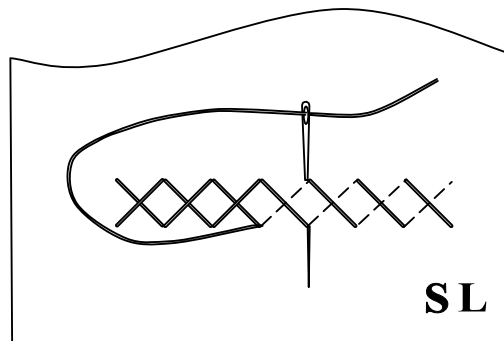
D



24 Lukisan ortografik boleh di lihat dari pandangan

- I atas
- II sisi
- III hadapan
- IV belakang
- A I dan II
- B I, II dan III
- C II, III dan IV
- D I, II, III dan IV

25 Rajah 9 menunjukkan jahitan hiasan.




RAJAH 9

Namakan jahitan hiasan tersebut?

- A Jahitan Suji Bilang
 - B Jahitan Insang Pari
 - C Jahitan Jelujur kasar
 - D Jahitan Silang pangkah
- 26 Antara berikut manakah fungsi skru pemberhenti dalam mesin jahit?
- A Mengawal benang
 - B Menggulung benang
 - C Mengawal gerakan jarum jahitan
 - D Menolak kain ke hadapan ketika menjahit

- 27 Antara berikut, manakah yang **tidak** harus diamalkan ketika makan di meja makan?
- A Minum dengan perlahan dan senyap
 - B Meniup makanan yang panas supaya cepat sejuk
 - C Tidak bercakap semasa mulut penuh dengan makanan
 - D Jemput orang yang lebih dewasa makan terlebih dahulu
- 28 Rajah 10 menunjukkan alatan dapur

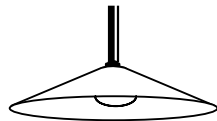


RAJAH 10

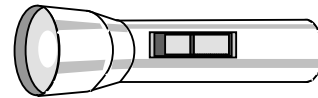
Alatan tersebut digunakan untuk aktiviti

- A merebus
 - B membakar
 - C mengukus
 - D menggoreng
- 29 Antara berikut, lampu yang manakah **tidak** menghasilkan jenis pencahayaan langsung?

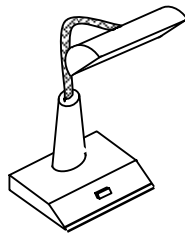
A



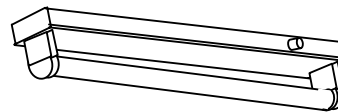
B




C



D



30 Rajah 11 menunjukkan jenis keratan batang.



RAJAH 11

Jenis keratan batang yang ditunjukkan ialah

- A keratan kayu keras
- B keratan kayu besar
- C keratan kayu lembut
- D keratan kayu sederhana keras



31 Berdasarkan dialog dalam rajah di atas, apakah masalah sistem barter yang mereka hadapi?

- A Kemahuan tidak serentak
- B Bahan tidak tahan lama
- C Kesukaran menentukan nilai pertukaran
- D Kesukaran membahagikan barang kepada unit yang lebih kecil

- 32 Siapakah yang membeli secara pukal dan menjual dalam kuantiti kecil kepada peruncit dan pengguna?
- A Jurujual
 - B Peruncit
 - C Pengeluar
 - D Pemborong

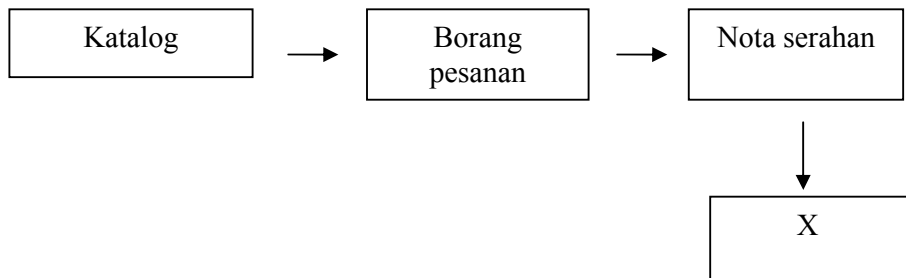


- 33 Alat pembayaran di atas merujuk kepada
- A Kad Kredit
 - B Kad pra bayar
 - C Kad Pintar
 - D E-pay

- Dimiliki oleh 2 hingga 50 orang
- Didaftarkan dengan Suruhanjaya Syarikat Malaysia
- Liabiliti pemegang saham terhad

- 34 Pernyataan di atas merupakan ciri-ciri milikan perniagaan berikut
- A perkongsian
 - B milikan tunggal
 - C syarikat awam berhad
 - D syarikat sendirian berhad

- 35 Berikut adalah bentuk bantuan yang diberikan oleh franchisor kepada franchisee **kecuali**
- A latihan tenaga pekerja
 - B aktiviti-aktiviti promosi
 - C bantuan modal permulaan
 - D cara pengurusan perniagaan
- 36 Terdapat tiga prinsip syariah utama dalam pengurusan dan perjalanan Bank Islam iaitu
- I Prinsip Al-Wadiah
 - II Prinsip kepercayaan
 - III Prinsip Al-Mudharabah
 - IV Prinsip Al-Musarakah
- A I, II, III
 - B I, II, IV
 - C I, III, IV
 - D II, III, IV
- 37 Stok barang-barang bergerak pantas bermaksud
- A barangan yang dibeli secara pukal
 - B barangan yang sering dibeli oleh pengguna
 - C barangan yang mudah dibawa dan disimpan
 - D barangan yang mudah rosak dan perlu dijual dengan cepat
- 38 Seseorang peniaga boleh membuat pembayaran dengan cek sekiranya ia mempunyai
- A Kad kredit
 - B Akaun semasa
 - C Akaun simpanan
 - D Akaun simpanan tetap



RAJAH 12

39 Berdasarkan Rajah 12, X ialah

- A Resit
- B Invois
- C Bil tunai
- D Nota serahan

40 Jadual 2 yang menunjukkan kos-kos yang terlibat dalam pengeluaran.


Perkara	Kos (RM)
Bahan mentah	70.00
Kos upah	20.00
Kos overhed	10.00

JADUAL 2

Berapakah peratusan kos overhed daripada jumlah kos pengeluaran?

- A 10%
- B 15%
- C 20%
- D 25%

- 41 Pilih pasangan yang **betul** tentang agensi dan peranannya dalam membantu usahawan

	Agensi	Peranan
A		Memberi galakkan
B		Kajian dan Penyelidikan
C		Bantuan Kewangan
D		Latihan dan Bimbingan

- 42 Faktor yang paling penting dalam pengeluaran sesuatu barang ialah

- A ekonomi negara
- B modal pengeluar
- C kemampuan pengguna
- D permintaan pengguna terhadap barang

- 43 Malaysia mengharamkan kemasukan barang dan perkhidmatan dari Israel.

Dasar pemulauan dan pengharaman ini dinamakan

- A kuota
- B embargo
- C duti import
- D sekatan eksport

- 44 Kos pengeluaran untuk satu unit projek dikira seperti berikut
- A Kos upah + kos overhed
Bilangan hari bekerja
 - B Kos bahan mentah
Kuantiti yang dihasilkan
 - C Kos overhed
Kuantiti yang dihasilkan
 - D Jumlah kos pengeluaran
Kuantiti yang dihasilkan
- 45 Penentuan harga sesuatu barang atau produk adalah berdasarkan
- I persaingan
 - II kos pengeluaran
 - III permintaan pengguna
 - IV perbelanjaan perniagaan
- A I, II dan III
 - B I, II dan IV
 - C I, III dan IV
 - D II, III dan IV

- | |
|---|
| <ul style="list-style-type: none">• Akaun pembeli dikreditkan• digunakan untuk membetulkan kesilapan dalam invois• dihantar oleh peniaga kepada pembeli |
|---|

- 46 Berpandukan pernyataan di atas, apakah jenis dokumen yang dimaksudkan?
- A Invois
 - B Nota Debit
 - C Nota Kredit
 - D Nota Serahan

- Wanita profesional yang bekerja di pejabat
- Berpendapatan antara RM2,000 – RM3,000
- Tahap sosial dan ekonomi yang tinggi

- 47 Berikut merupakan ciri-ciri yang telah dikenalpasti oleh pengeluar sebagai kumpulan pembeli produknya. Ciri-ciri di atas paling tepat digelar sebagai
- A produk
 - B pembeli
 - C pengguna
 - D Sasaran pasaran

Aswad membeli 2 kilo ikan bawal dari pasar.
Apabila ditimbang semula, Aswad mendapati berat ikan bawal itu sebenarnya hanya 800gram.

- 48 Akta manakah antara yang berikut membolehkan peniaga itu didakwa.
- A Akta Pengawalan Harga 1973
 - B Akta Pengawalan Bekalan 1973
 - C Akta Timbang dan Sukat 1972
 - D Akta Perihal Dagangan 1972 (pindaan 1982)
- 49 Menurut prinsip simpan kira, setiap urus niaga hendaklah dicatatkan secara
- A Satu catatan dalam satu akaun
 - B Serentak dalam dua akaun yang berlainan
 - C Serentak dalam buku lejar
 - D Serentak dalam dua catatan dalam satu akaun
- 50 Antara berikut, yang manakah termasuk dalam liabiliti jangka panjang?
- A Tunai
 - B Pemiutang
 - C Overdraf bank
 - D Gadai Janji

51 Bilakah Akaun Penamat disediakan?

- A Pada awal tahun
- B Pada akhir tahun
- C Pada akhir tahun perakaunan
- D Pada pertengahan tahun

52 Mawi merupakan penghutang perniagaan. Pada hujung bulan didapati Mawi masih berhutang sebanyak RM300. Bagaimanakah catatan betul dalam lejar?

- A
- | | | | |
|--------|--|-------|--|
| Mawi | | | |
| Hutang | | RM300 | |
- B
- | | | | |
|------|--|--|--------------|
| Mawi | | | |
| | | | Hutang RM300 |
- C
- | | | | |
|------|-----|-------|--|
| Mawi | | | |
| Baki | b/b | RM300 | |
- D
- | | | | |
|------|--|--|----------------|
| Mawi | | | |
| | | | Baki b/b RM300 |

Aizat menerima cek daripada Farhan hasil daripada jualan tiket.

53 Apakah catatan bergu untuk Aizat?

- A Debit Farhan, Kredit Aizat
- B Debit Aizat, Kredit Farhan
- C Debit Akaun Bank, Kredit Akaun Farhan
- D Debit Akaun Bank, Kredit Akaun Jualan

Soalan 54 dan 55 adalah berdasarkan maklumat di bawah.

Premis	RM15000
Kenderaan	8000
Perabot	4000
Alat pejabat	3000
Stok Akhir	5500
Penghutang	2020
Tunai di tangan	2000
Tunai di bank	7100
Modal	28000
Ambilan	1080
Untung Bersih	7600
Pemiutang	4100
Pinjaman Bercagaran	8000

- 54 Berdasarkan maklumat di atas, berapakah jumlah ekuiti pemilik?
- A RM28,000
 - B RM34,520
 - C RM35,600
 - D RM46,620
- 55 Berapakah jumlah nilai aset bukan semasa?
- A RM15,000
 - B RM23,000
 - C RM35,600
 - D RM30,000

Soalan 56 dan 57 berdasarkan maklumat di bawah.

Kedai Bunga Bee

Akaun Perdagangan bagi tahun berakhir 30 Jun 2006

	RM	RM		RM
Stok awal		3,000	Jualan	25,500
Belian	12,000			
Anggaran Masuk	200			
Upah atas belian	250			
Kos belian		12,450		
Kos barang untuk dijual		15,450		
- : X		2,800		
Kos Jualan		12,650		
Untung kasar		Y		
		25,500		25,500

56 Berdasarkan Akaun Perdagangan di atas, X ialah

- A Perabot
- B Stok Akhir
- C Rugi kasar
- D Angkutan Keluar

57 Berapakah jumlah Y?

- A RM12,650
- B RM12,850
- C RM15,450
- D RM25,500

Akaun Untung Rugi bagi tahun berakhir 31 Disember 2005

	RM		RM
M	500	Faedah	500
Gaji	1,500	Komisen	2,250
Sewa	300		
Insurans	450		
	<u>2,750</u>		<u>2,750</u>

58 Apakah butiran pada M?

- A Jualan
- B Untung Kasar
- C Angkutan Keluar
- D Komisen Diterima

Akaun Bank

Okt 1	X	2,000	Okt 4	Belian	500
7	Jualan	900	10	Belian	3,000
30	Y	600			
		<u>3,500</u>			<u>3,500</u>
		=====			=====

59 Yang manakah sesuai untuk X dan Y ?

	X	Y
A	Baki b/b	Baki b/h
B	Baki b/b	Baki h/b
C	Baki h/b	Baki b/b
D	Baki b/h	Baki h/b

Sara

Jualan	RM1000	Tunai	RM 2000
Jualan	1500		

60 Berdasarkan Akaun Perorangan di atas, kira jumlah hutang yang belum dijelaskan oleh Sara.

- A RM500
- B RM2000
- C RM2500
- D RM4500

KERTAS SOALAN TAMAT