



JABATAN PELAJARAN NEGERI JOHOR

**PEPERIKSAAN PERCUBAAN
SIJIL PELAJARAN MALAYSIA 2008
PERDAGANGAN
Kertas 2
Ogos/Sept.
2 jam**

3755/2

Dua jam

**Bahagian A
[75 markah]**

Jawah tiga soalan sahaja.

- 1 (a) Huraikan tiga proses penciptaan nilai faedah dalam proses pengeluaran.
[9 markah]

- (b) Maklumat berikut berkaitan dengan aktiviti pengeluaran Encik Mokhtar,

Encik Mokhtar pemilik Kilang Sedap Sendirian Berhad di Johor. Kilangnya menghasilkan keluaran berasaskan ikan seperti kek ikan, bebola ikan dan keropok ikan. Pekerjaannya dibahagikan kepada bahagian pemprosesan, pembungkusan dan penghantaran. Beliau memperoleh sumber bekalan ikan daripada pembekal di Mersing dan Terengganu.

- (i) Nyatakan jenis pengeluaran yang terlibat dalam aktiviti tersebut.

[1 markah]

- (ii) Mengapakah Encik Mokhtar mengamalkan, jenis pengeluaran di 1(a)(i)?

[5 markah]

- (c) Jelaskan bagaimana aktiviti perniagaan seorang pembekal buku boleh dibantu oleh bantuan perniagaan berikut;

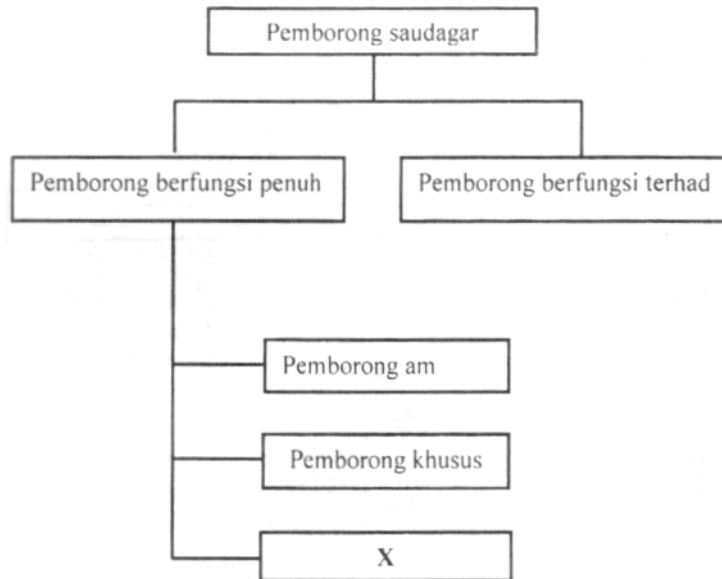
- (i) Perbankan

[5 markah]

- (ii) Komunikasi

[5 markah]

- 2 (a) Rajah menunjukkan jenis pemborong saudagar.



Jelaskan jenis pemborong X.

[3 markah]

- (b) Terangkan bagaimana fungsi pemborong diambil alih oleh pengeluar.

[6 markah]

- (c) Urus niaga berikut adalah di antara Kedai Warna Sendirian Berhad dengan pembekal alat tulis Syarikat Pelangi Berhad.

Tarikh	Urus niaga
7 April 2008	Syarikat Pelangi Berhad mengirimkan invois bernilai RM765 setelah ditolak diskaun niaga RM135.
12 April 2008	Syarikat Pelangi Berhad mengirimkan nota kredit untuk nilai RM15.60.

- (i) Hitungkan peratus diskaun niaga yang dinikmati oleh Kedai Warna Sendirian Berhad. [2 markah]
- (ii) Jelaskan mengapa Syarikat Pelangi Berhad menghantar dokumen untuk urus niaga pada 12 April 2008? [4 markah]

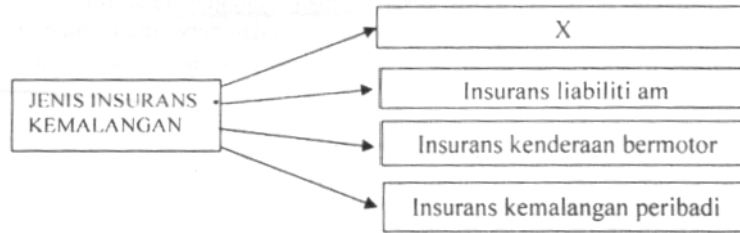
<http://www.geocities.com/smksp1>

- (d) Gambar menunjukkan barangan yang dibekalkan oleh pembekal kepada Pasar Mini Maju.



- (i) Jelaskan kaedah jualan yang digunakan oleh pembekal tersebut. [4 markah]
- (ii) Terangkan tiga kelebihan kaedah jualan di 2(d)(i) kepada pemilik Pasar Mini Maju. [6 markah]
- 3 (a) Nyatakan lima halangan yang dihadapi dalam perniagaan antarabangsa. [5 markah]
- (h) Maklumat berikut berkaitan sebuah koperasi,
- Koperasi Cemerlang Berhad telah ditubuhkan oleh penduduk Taman Jaya, Kulai dengan modal syer terkumpul RM200 000. Pada tahun 2007 koperasi mempunyai lebih RM60 000 dan bercadang menyimpan RM 10 000 sebagai rizab. Koperasi mengisytiharkan 6% faedah atas modal. Jumlah belian pada tahun tersebut ialah RM400 000.
- (i) Hitungkan kadar rebat yang diterima oleh anggota koperasi tersebut. [5 markah]
- (ii) Terangkan dua kelebihan koperasi tersebut kepada penduduk Taman Jaya, Kulai. [4 markah]
- (c) Jelaskan tujuan penswastan yang dilaksanakan oleh kerajaan. [5 markah]
- (d) Terangkan mengapakah harga saham di pasaran sentiasa turun naik? [6 markah]
- 4 (a) Jelaskan empat peranan insurans kepada peniaga [4 markah]
- (b) Rajah menunjukkan jenis insurans kemalangan,

<http://www.geocities.com/smksp1>



- (i) Nyatakan jenis insurans X. [1 markah]
- (ii) Jelaskan jenis insurans X di 4(b)(i), [7 markah]
- (c) Maklumat berikut berkaitan dengan Puan Kay.

Puan Kay telah membeli sebuah rumah di Taman Anggerik Johor dengan harga RM 100 000. Beliau terpaksa menunggu sehingga 5 tahun untuk mendapatkan rumahnya. Beliau terkejut apabila mendapati rumahnya retak, bocor dan tidak memenuhi spesifikasi yang ditetapkan. Puan Kay mengadu masalah tersebut kepada pihak pemaju tetapi mereka tidak menghiraukan aduannya. Beliau merasa tertipu dan membawa perkara tersebut ke mahkamah untuk diambil tindakan.

- (i) Berikan dua hak Puan Kay yang telah diabaikan oleh pemaju? [2 markah]
- (ii) Terangkan tiga tanggungjawab pemaju kepada Puan Kay? [6 markah]
- (d) Maklumat berikut adalah petikan daripada sebuah akhbar tempatan.

KRIM PEMBAKAR

Suri rumah merana wajah melecur selepas guna produk kecantikan

Khamis – 19 Jun 2008.

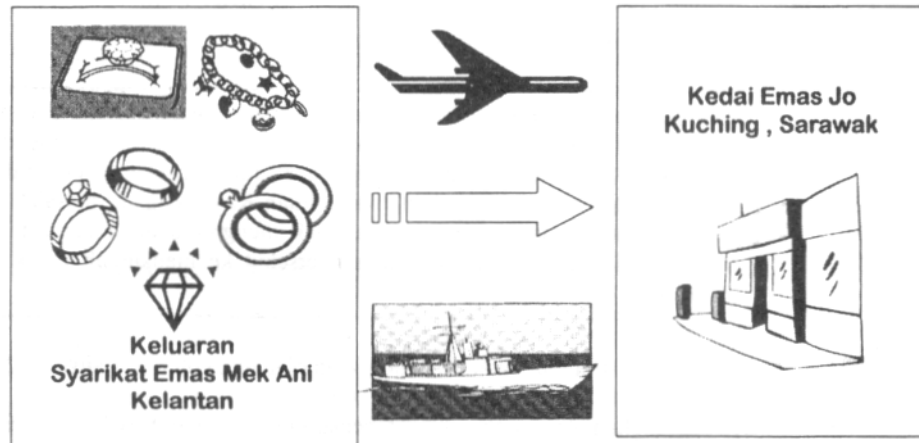
Kuala Lumpur, seorang wanita yang berhasrat menegang kulit muka mendakwa menderita akibat kesan daripada penggunaan sejenis krim kosmetik berikutan wajahnya menjadi lebam dan berwarna kehitaman seperti dibakar.

Sumber : Harian Metro

Berdasarkan situasi dalam petikan, bagaimanakah hak suni rumah tersebut dapat dilindungi oleh kerajaan. [5 markah]

<http://www.geocities.com/smksp1>

- 5 (a) Gambar menunjukkan dua jenis pengangkutan yang boleh digunakan oleh Syarikat Emas Mek Ani untuk menghantar keluarannya,



Tentukan jenis pengangkutan yang sesuai dipilih oleh Syarikat Emas Mek Ani, Kemukakan alasan anda. [7 markah]

- (b) Gambar menunjukkan logo sebuah syarikat pengeluaran,



- (i) Namakan syarikat tersebut. [1 markah]
 (ii) Jelaskan peranan syarikat di 5(b) (i). [5 markah]
- (c) Maklumat berikut berkaitan dengan Pak Ali.

Pak Ali seorang nelayan laut dalam di Rompin, Pahang. Hasil tangkapan Pak Ali disimpan dalam gudang sebelum dijual kepada pemborong

- (i) Jelaskan jenis gudang yang digunakan. [6 markah]
 (ii) Terangkan kepentingan gudang di 5(c) (i) kepada Pak Ali. [6 markah]

<http://www.geocities.com/smksp1>

Bahagian B

*[25 markah]**Soalan ini wajib dijawab.*

- 6 Encik Roslan ialah pemilik perusahaan halwa nanas tempatan di Pekan Nanas, Johor. Beliau yang memiliki pendidikan setakat tingkatan lima telah memulakan perusahaan tersebut dengan wang simpanannya sendiri. Beliau dibantu oleh sepuluh orang pekerja yang terdiri daripada jirannya. Hasil usaha yang gigih, halwa nanas beliau mendapat sambutan yang menggalakkan di pasaran tempatan, Encik Roslan kerap dijemput menghadiri kursus anjuran agensi kerajaan serta diberi bimbingan oleh pegawai Perbadanan Pembangunan Industri Kecil dan Sederhana (SMIDEC) dalam usaha mempertingkatkan mutu pengurusan dan pengeluaran perusahaannya.

Semua urusan pembelian dan penjualan dilakukan secara tunai oleh Encik Roslan sehinggakan beliau kadangkala terpaksa membawa wang yang banyak bersama-sama. Beliau pernah disamun ketika dalam perjalanan untuk membuat pembayaran kepada pembekal sehingga mengalami kerugian. Encik Roslan membuat keputusan untuk melakukan pembayaran menggunakan cek. Beliau telah membuka akaun semasa di Bank Merdeka Berhad, Pekan Nanas. Pada 6 Mei 2008 Encik Roslan membayar sebanyak RM3 000 kepada Encik Tan Kok Seng yang mempunyai akaun di Bank Sepakat Berhad. Encik Tan Kok Seng meminta Encik Roslan menyediakan cek berpalang khas untuknya.

Memandangkan permintaan terhadap halwa nanasnya di pasaran tempatan semakin meningkat, Encik Roslan berhasrat untuk memuaskan pasaran sehingga ke peringkat antarabangsa. Beliau bercadang untuk mengiklankan produknya melalui media elektronik.

Berdasarkan situasi tersebut, jawab soalan-soalan berikut.

- (a) (i) Nyatakan dua kegiatan Industri Kecil dan Sederhana yang dijalankan oleh Encik Roslan. *[2 markah]*
- (ii) Jelaskan mengapa kerajaan menggalakkan kegiatan industri di 6(a)(i). *[6 markah]*
- (b) (i) Lakarkan cek yang telah dikeluarkan oleh Encik Roslan. *[6 markah]*
- (ii) Terangkan dua kebaikan penggunaan cek di 6(b)(i). *[4 markah]*
- (c) (i) Cadangkan media elektronik yang sesuai digunakan oleh Encik Roslan. *[1 markah]*
- (ii) Kemukakan alasan anda. *[6 markah]*

KERTAS SOALAN TAMAT

http://www.geocities.com/smksp1
